

К В Н

Веселая математика



Цель:


- через занимательные упражнения содействовать повышению интереса детей к математике, расширению их кругозора
- продолжить выработку вычислительных способностей
- развивать внимание, память, логическое мышление
- обучать работе в группах.



Вступительная часть:

- жеребьёвка участников
- выбор капитанов команд, названия команд
- объяснение условий игры

Условия игры:



- игра состоит из 6 этапов (заданий);
- при счёте 3 : 3 команды получают дополнительное задание (**конкурс капитанов**);
- команда, у которой готов ответ, должна нажать на сигнальную кнопку, тем самым заработать право ответить первой.

ДЕВИЗ:

Каждый день –
всегда, везде,
На занятиях, в игре,
Смело, чётко
говорим
И тихонечко сидим.



1. Загадка от мудрой черепашки



Вставьте пропущенную букву и пропущенное число

1	В	5	?
А	3	Д	?

Ответ:

1

В

5

Ё

А


3

Д

7

2. Подумай – ка!

Пассажир такси ехал в село. По дороге он встретил 5 грузовых и 3 легковых машины. Сколько всего машин шло в село?



Ответ:

- одна машина – такси




3 конкурс: «Отгадай – ка».



В комнате 4 угла.
В каждом углу сидит
кошка. Против
каждой кошки сидит
по три кошки.
Сколько всего кошек
в комнате?

Ответ:

● 4 КОШКИ



Физкультминутка.

Поднимает руки класс

– это **раз,**

Повернулась голова

- это **два,**

Руки вниз, вперёд смотри

– это **три,**

Руки в стороны пошире разверни

- на **четыре.**





С силой их к плечам прижать

– это **пять.**

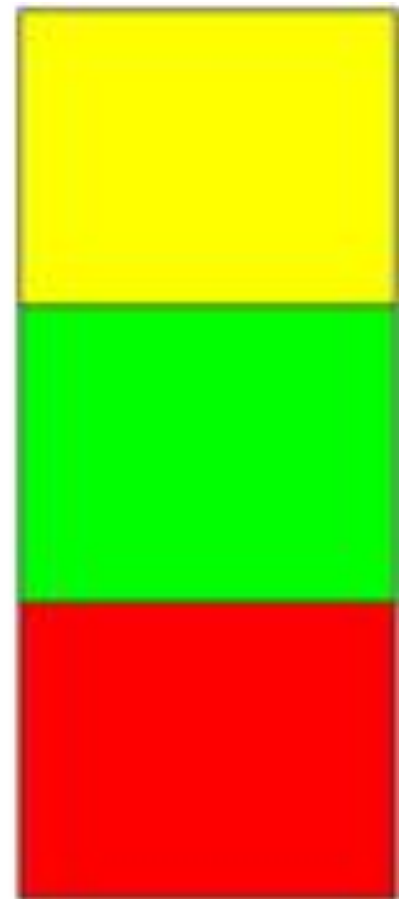

Всем ребятам тихо сесть

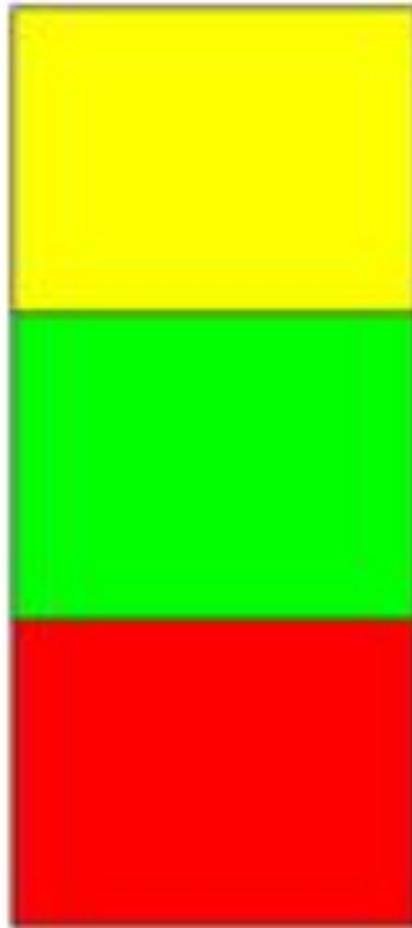






– это **шесть.**





4. Посмотрите на этот рисунок и найдите две одинаковые фигуры. Чем они отличаются?





5. Размышляй – ка!

- Во дворе гуляли куры и собаки. Мальчик посчитал их лапы, получилось 10 лап. Сколько могло быть кур и собак?








Ответ:

- *2 собаки и 1 курица, 1 собака и 3 курицы.*

6. Математические загадки:

- У него четыре лапки,
Лапки - цап – царапки,
Пара чутких ушей.
Он гроза мышей.





● ***Kom***




• Математические загадки:

- К нам во двор забрался крот,
Роет землю у ворот.
Тонна в рот земли войдет,
Если крот откроет рот.





● *Экскаватор*





• Математические загадки:

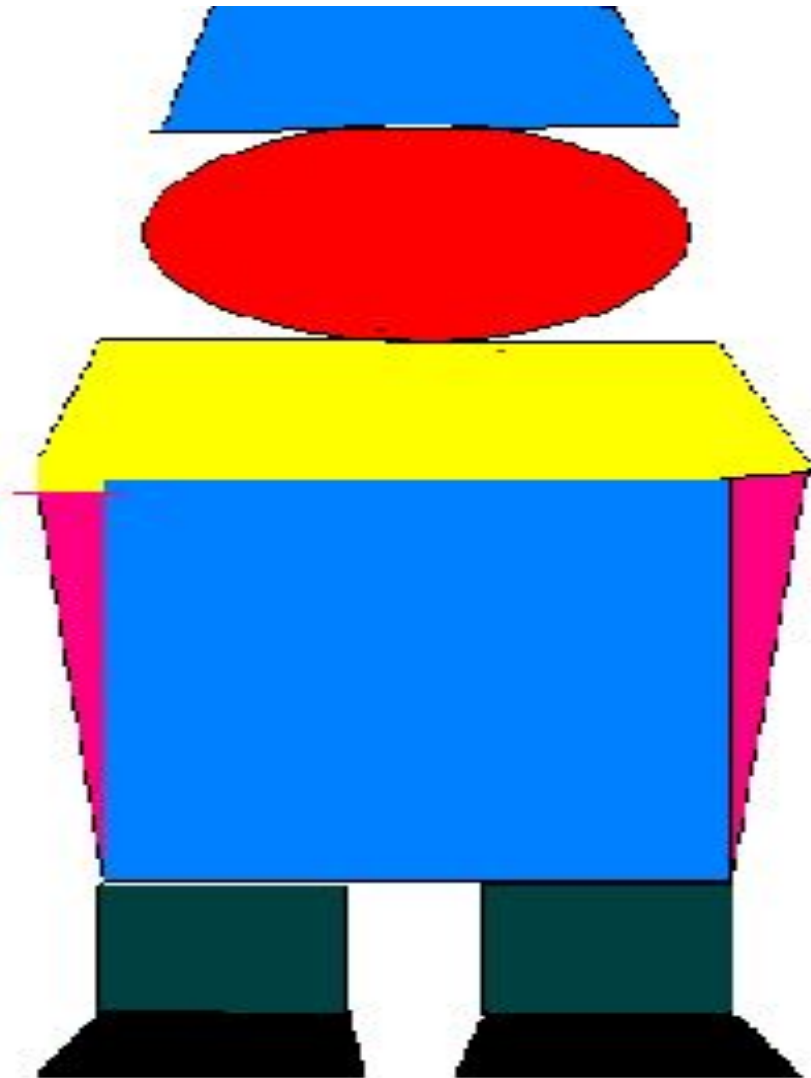
- Чем больше из неё берешь,
Тем больше она становится.



Яма



7. Конкурс капитанов
“Составь робота”.



МОЛОДЦЫ!

