

УМК «Начальная школа XXI века»

Урок 47



Делим числа



*Учитель начальных классов
МБОУ СОШ с.Бессоновка
Ташмуханбетова В.Х.*

Заданиа ча смекалку


2







3



1



Игра «Разгони тучи!»



Распределите ёлочные украшения
в группы по каким-либо признакам
По форме



По цвету



По размеру



Игровое упражнение «Помогите утятам»

$5+5$

$7+2$

$6+3$

$8+2$

$5+4$

$9+1$


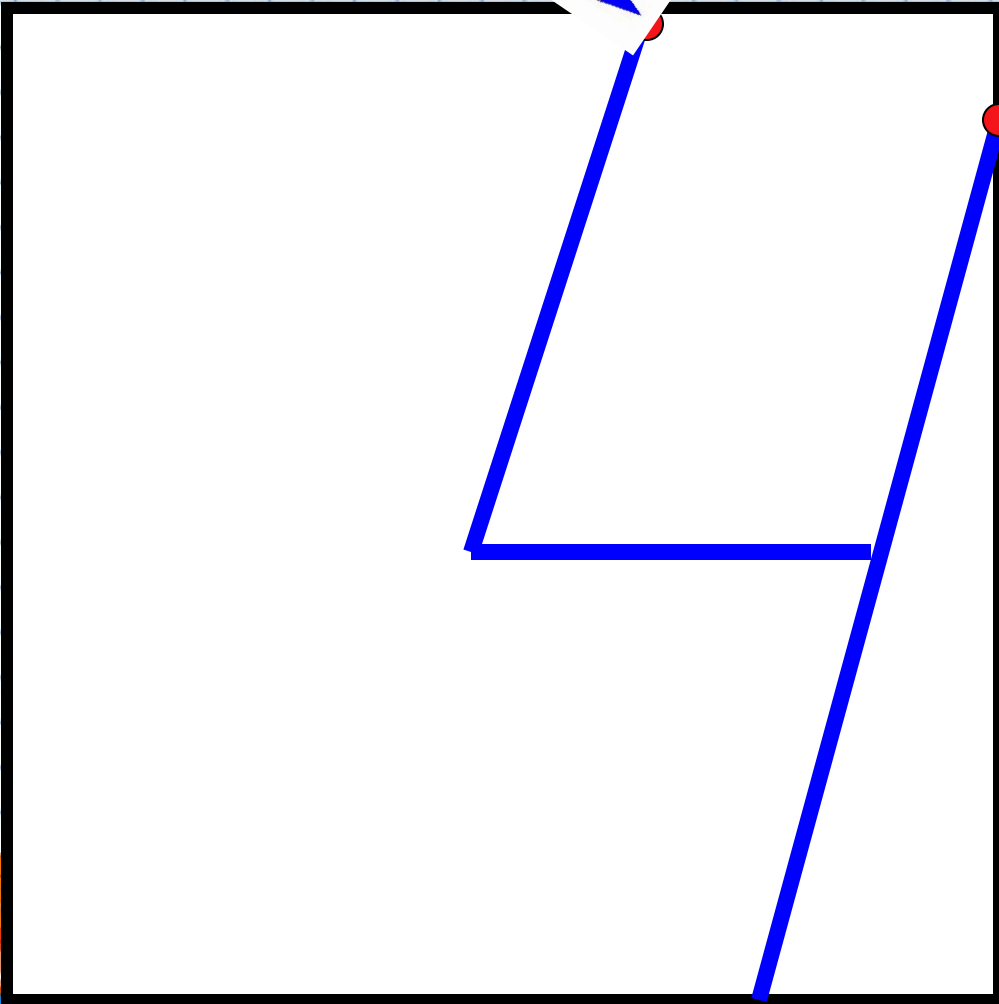
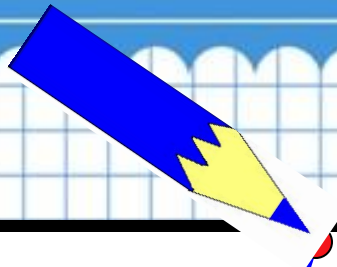
$6+4$

$4+3$

$7+3$

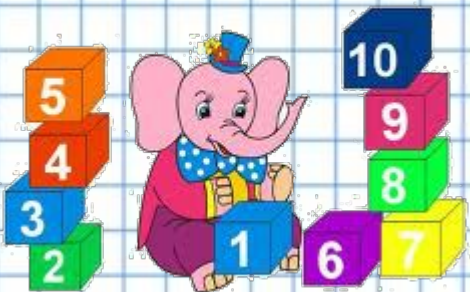
10

9



Чистописание стр. 49

4																			
---	--	--	--	--	--	--	--	--	--	--	--	--	--	--	--	--	--	--	--



Работа по учебнику стр.106 № 1

Как раздать все тетради всем мальчикам поровну?



$$20 : 5 = 4$$



Работа по учебнику стр.106 № 3

Выполни действие. Назови результат.



Положи по 6 фишек 2 раза. **12**

Разложи 6 фишек поровну на две кучки. **3**


Положи по 3 фишки 2 раза. **6**

Разложи 10 фишек поровну на две кучки. **5**






Как можно разложить 10 грибов поровну в две корзины?



Как разложить 12 игрушек поровну в 3 коробки?





Разложите самостоятельно 12 игрушек поровну в 2 коробки.



12 разделить на три это 4.

$$12 : 3 = \text{4}$$




Работа по учебнику стр.106 № 3

Каждый арбуз продавец разрезал пополам. Сколько было арбузов, если получилось 6 половинок?

Ответ: .

арбуза.



$$6 : 2 = 3$$

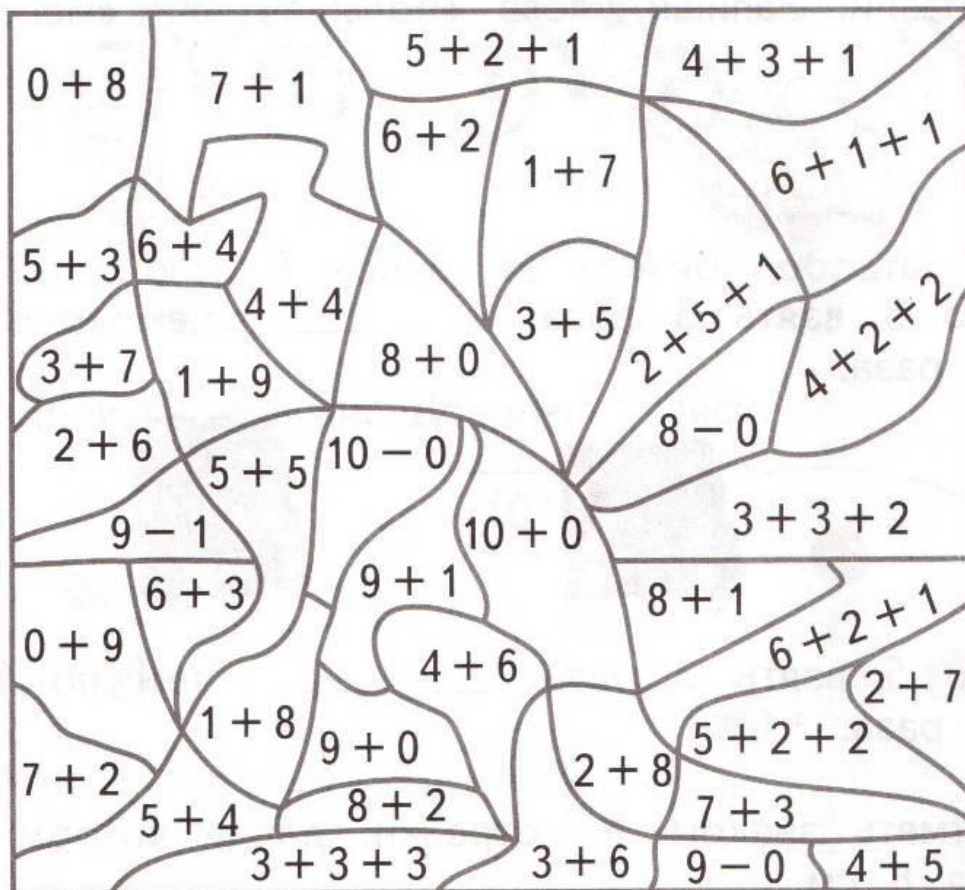
Работа в тетради стр. 49 № 4

Раскрась.


9 — 

8 — 

10 — 



$0 + 8$	$7 + 1$	$5 + 2 + 1$	$4 + 3 + 1$
$5 + 3$	$6 + 4$	$6 + 2$	$1 + 7$
$3 + 7$	$4 + 4$	$3 + 5$	$6 + 1 + 1$
$2 + 6$	$1 + 9$	$8 + 0$	$2 + 5 + 1$
$9 - 1$	$5 + 5$	$10 - 0$	$4 + 2 + 2$
$0 + 9$	$6 + 3$	$10 + 0$	$8 - 0$
$7 + 2$	$9 + 1$	$3 + 3 + 2$	$8 + 1$
$5 + 4$	$4 + 6$	$6 + 2 + 1$	$2 + 7$
$3 + 3 + 3$	$1 + 8$	$9 + 0$	$5 + 2 + 2$
	$8 + 2$	$2 + 8$	$7 + 3$
	$3 + 3 + 3$	$3 + 6$	$9 - 0$
			$4 + 5$





2012.г.г.г.

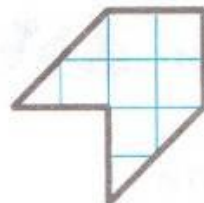
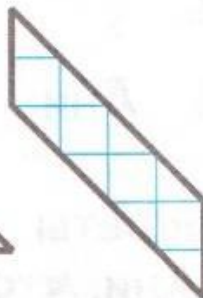
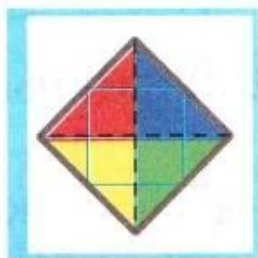


Задание для самоподготовки в тетради стр. 49 № 5

Каждая фигура составлена из четырёх треуголь-
ников.

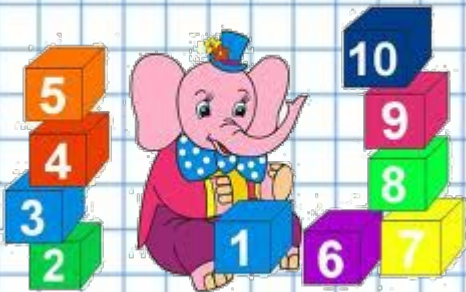


Найди их внутри каждой фигуры. Проведи линии.



Итог урока.

- Сегодня я узнал...
- Было интересно...
- Я научился...
- Было трудно...
- Расскажу дома, что ...



Используемые источники

На уроке используется материал учебных пособий УМК «Начальная школа XXI века»

Е.Э. Кочурова, В.Н. Рудницкая, О.А. Радзе Математика, 1 класс, учебник для учащихся общеобразовательных учреждений в 2 ч. Москва Издательский Центр «Вентана – Граф», 2015 г. Стр. 102-103

Печатная тетрадь Е.Э. Кочуровой «Математика.1 класс. № 2», Издание: 2-е изд., перераб. - М.: Вентана - Граф, 2014; с. 44-45.

Используемые ресурсы для создания презентации:

http://www.basketbox.ru/images/catalogue/category/2_s.jpg - картинка корзинки

<http://ok-t.ru/studopedianame/baza6/6097342486460.files/image093.jpg> - картинка гриба

<http://www.zeuspackaginggroup.com/images/product/lrg/CHD2.jpg> - картинка коробки

http://png-images.ru/wp-content/uploads/2015/02/02/5185/gif/елочные-игрушки_2.gif
картинка ёлочные игрушки

http://png-images.ru/wp-content/uploads/2015/02/02/5185/gif/елочные-игрушки_1.gif

<http://www.hij.ru/upload/medialibrary/a61/a613de795457ed26367e057cb6c43e85.jpg> - картинка
половины арбуза

<http://ifruiter.ru/upload/iblock/9ae/9aeb0b8fa115500477fb31c278436110.jpg> - картинка арбуза

