

Интерактивная



Разработка
учителя начальных классов
МКОУ СОШ №5
Малуховой Альбины Ахмедовны

ССЫЛКИ

НАЧАТЬ ИГРУ

Интерактивная игра

ЧЕЛОВЕК

1 2 3 4
0 0 0 0

ПРИРОДНЫЕ ЗОНЫ

1 2 3 4 5
0 0 0 0 0

**ПОЛЕЗНЫЕ
ИСКОПАЕМЫЕ**

1 2 3 4 5
0 0 0 0 0

РАСТЕНИЯ

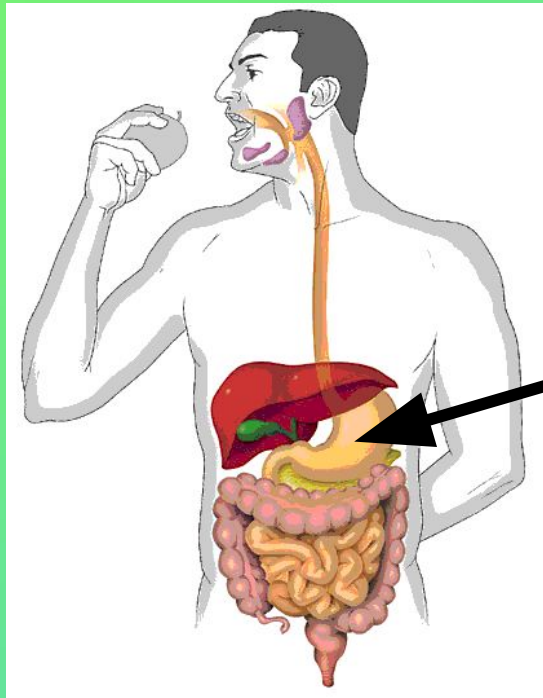
1 2 3 4 5
0 0 0 0 0

ИСТОРИЯ

1 2 3 4 5
0 0 0 0 0


ВЫХОД

*Какой из органов пищеварения
обозначен на рисунке стрелкой?*



- 1)пищевод
- 2)кишечник
- 3)желудок
- 4)печень

3)желудок



Какое значение имеют мышцы для человека?

- 1) Защищают внутренние органы от повреждений;
- 2) Обеспечивают движение тела человека;
- 3) Обеспечивают хорошую память и мышление;
- 4) Обеспечивают возможность выполнять физический труд, заниматься спортом.



2) Обеспечивают движение тела человека.





Где у человека находится самый маленький сустав и самая маленькая мышца?

Самый маленький сустав находится ухе, там, где соединяются маленькие косточки — «стремечко» и «наковальня». Самая маленькая мышца тоже находится в ухе. Она обеспечивает движение стремечка внутреннего уха



Система, которая соединяет все части организма в единое целое и руководит его работой.

- 1) Нервная система**
- 2) Пищеварительная система**
- 3) Дыхательная система**
- 4) Опорно-двигательная система**



1) Нервная система



Какие основные природные зоны России пропущены в порядке их следования с севера на юг

Арктические пустыни

Тундра

Смешанные и

широколиственные леса

Степи

Субтропики



Тайга, пустыни.



Узнайте природную зону по описанию

Эта зона занимает самую большую площадь России. Она протянулась широкой непрерывной полосой от западной границы России до гор Дальнего Востока. Для этой зоны характерно умеренно теплое лето (+13-19°C) и морозная зима (до -40°C), особенно суровая в Сибири. Эта зона характеризуется достаточным и избыточным увлажнением, к югу постепенно оно уменьшается. Здесь преобладают хвойные породы, встречаются и лиственные породы.

Зона тайги



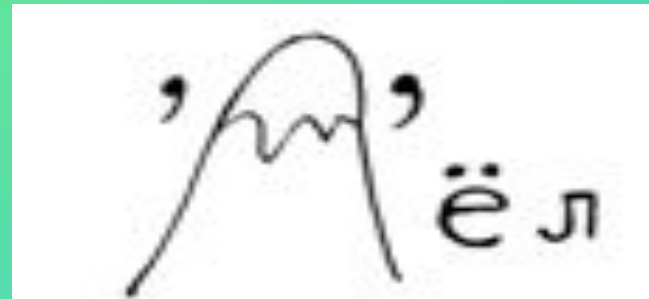
В каких природных зонах встречаются растения, у которых:

- Корни – луковицы
- Длинные корни
- Деревья – долгожители
- Карликовые деревья
- Живут на камнях

Степи, пустыни, субтропики, тундра, Арктика



Разгадайте ребусы. В каких зонах обитают эти животные?



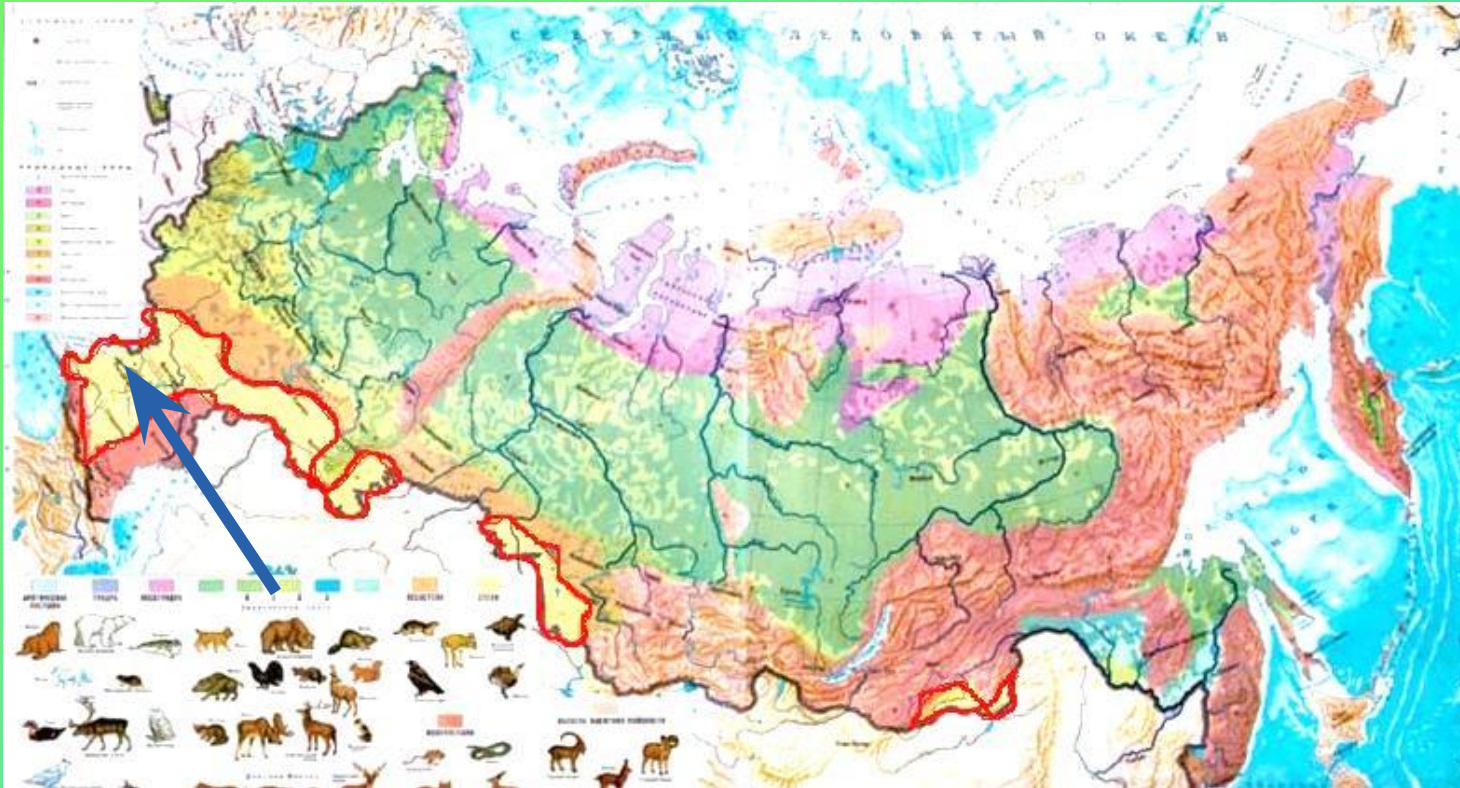
Дрофа (степь), краб (субтропики), морж (Арктика), орёл (степь)



Природные зоны

50

Назовите природную зону, указанную синей стрелкой.



степи



Отгадайте загадку

**Горит, да не солнце.
Чёрен, да не ночь,
Твёрдый, да не камень.
На весь мир славен**

Уголь



Отгадайте загадку

**Становлюсь собой в плену огня.
Не было бы в мире без меня
Ни велосипедов, ни коньков,
Ни автомобилей, ни станков.**

Железная руда





Железо



Выберите из предложенного списка свойства нефти и глины.

- | | |
|-------------------------------|----------------------------|
| 1. Горючее; | 10. Сыпучее; |
| 2. Твёрдое; | 11. Легче воды; |
| 3. Жидкость; | 12. Газообразное; |
| 4. Тяжелее воды; | 13. Белого цвета ; |
| 5. Чёрного цвета; | 14. Способно плавиться; |
| 6. Жёлтого цвета; | 15. Пластичное; |
| 7. Хрупкое; | 16. Плохо пропускает воду; |
| 8. Имеет запах; | 17. Коричневого или белого |
| 9. Хорошо пропускает
воду; | цвета |

Нефть: 1, 3, 8, 11.

Глина: 4, 15, 16, 17.

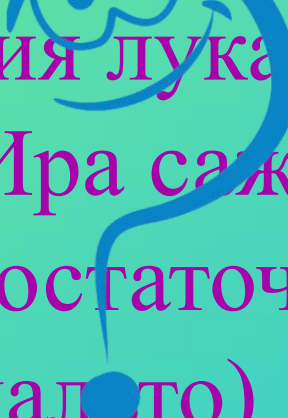


Почему песок можно легко пересыпать из одного стакана в другой, а глину нельзя пересыпать?

Песок состоит из мелких крупинок, не связанных между собой, поэтому он рассыпчатый; глина – из мелких частичек, тесно связанных между собой (они обладают особым свойством – липучестью).



Поздней осенью Ира обнаружила несколько луковиц с проросшими корешками и решила посадить их в ящик на балконе. Ира надела пальто, вышла на балкон, посадила лук в ящик с землей и полила свой «огород». Однако урожай ей собрать не удалось. Объясни, почему не выросли листья лука?

- 
- 1) Для прорастания лука необходимо тепло.
 - 2) По описанию Ира сажала луковицу осенью, и было достаточно холодно (девочка была в пальто)



Весной по берегам прудов и болот можно часто увидеть яркие желтые цветы калужницы болотной. Ниже приведен перечень свойств этого растения. Выбери из них те, которые относятся к внешнему виду калужницы.



Назовите буквы всех верных утверждений.

А. Цветки калужницы яркого желтого цвета

Б. Цветет калужница обычно в мае.

В. Калужницы ядовиты для домашних животных.

Г. Листья калужницы по форме напоминающие сердечко.

Д. Растет калужница по берегам рек и озер.

А, Г



Ира посадила луковицу в баночку с водой, а потом уехала на пять дней в другой город. Когда она вернулась, то увидела, что корешки не проросли. Пятилетний брат Саша рассказал, что кошка уронила банку с луковицей. Саша поднял пустую банку, поставил в неё луковицу и убрал в шкаф, подальше от кошки. Почему же не пророс лук?

- 1) Для прорастания корней обязательно нужен свет.
- 2) Кошка поцарапала луковицу, и луковица «погибла».
- 3) Прошло слишком мало времени, нужно ещё немного подождать.
- 4) Луковица может прорасти только при соприкосновении с водой.

4) Луковица может прорасти только при соприкосновении с водой.

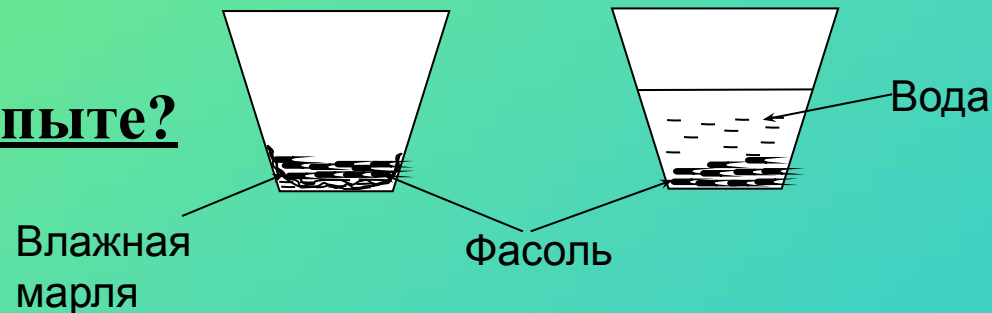


Алёша решил провести исследование с семенами фасоли. В первый стакан под семена он положил влажную марлю, чтобы к семенам поступали вода и воздух, а во втором – полностью залил семена водой, чтобы к ним не поступал воздух. Оба стакана мальчик поставил в одно и то же тёплое место на солнечный свет.


Что проверял Алёша в своем опыте?

- 1) Какое количество семян фасоли сохранили всхожесть?
- 2) Необходим ли для прорастания семян фасоли солнечный свет?
- 3) Необходим ли для прорастания семян фасоли воздух?
- 4) Зависит ли скорость прорастания семян фасоли от температуры воздуха?

3) Необходим ли для прорастания семян фасоли воздух?



Придумайте свою загадку о рябине, указав три признака этого растения. (Загадку в стихах придумывать не нужно).



**Признаки: дерево с тонким
гибким стволом, листья**

**состоят из нескольких пар продолговатых
«листочков», белые цветы собраны в гроздья,
плоды красного цвета и собраны в гроздья.**



Укажи век, к которому относятся события войны России с армией Наполеона Бонапарта.

- 1) **IXX век**
- 2) **XIX век**
- 3) **XVII век**
- 4) **XVIII век**

2) XIX век



При Дмитрии Донском Московскому Кремлю построили каменные стены. Со всей округи собрали мастеров каменного дела. И в 1367 году они принялись за работу. Кремль так поразил современников красотой своих белых стен, что с тех пор Москву стали называть белокаменной.

В каком веке у Московского Кремля появились каменные стены?

1) XVII век

2) XIX век



3) IXX век

4) XIV век

4) XIV век



Какие из указанных ниже достопримечательностей находятся в вашем городе?



2, 3, 5



Как называлось наше государство в разные исторические времена (эпохи)?



*Киевская Русь, Московская Русь,
Российская империя, СССР, РФ.*



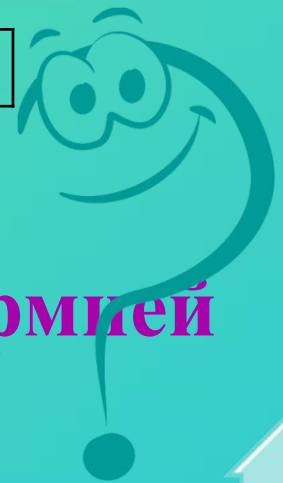
Установите соответствие между датами и событиями. Для каждой даты подбери историческое событие.

Дата	Событие
А) 1242 г.	1. Великая Отечественная война
Б) 1812 г.	2. Отечественная война с армией Наполеона
В) 1941 г.	3. Ледовое побоище

А) 1242 г. - 3. Ледовое побоище

Б) 1812 г. - 2. Отечественная война с армией Наполеона

В) 1941 г. – 1. Великая Отечественная война



Сайт: <http://elenaranko.ucoz.ru/>

