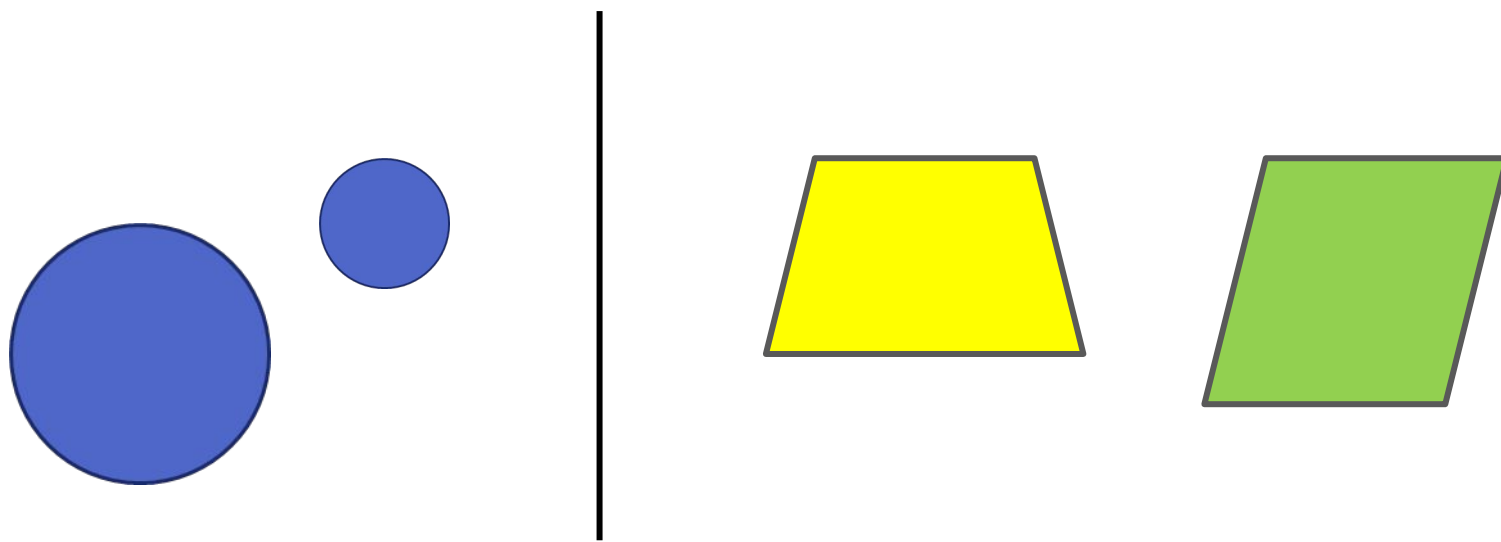






МНОГОУГОЛЬНИК
1 КЛАСС
«ШКОЛА РОССИИ»

ВЫПОЛНИЛА:
УРАЗОВА Н.З.
УЧИТЕЛЬ НАЧАЛЬНЫХ КЛАССОВ
(ПЕРВАЯ КАТЕГОРИЯ)

МАОУ ЛИЦЕЙ № 93 Г. ТЮМЕНИ



**СРАВНИ: ЧЕМ ФИГУРЫ НА
РИСУНКЕ СЛЕВА ОТЛИЧАЮТСЯ
ОТ ФИГУР НА РИСУНКЕ
СПРАВА.**



ЭТО ТРЕУГОЛЬНИКИ.

ЭТО ЧЕТЫРЁХУГОЛЬНИКИ.

Почему они так называются?

**Сколько углов, сторон и вершин у
пятиугольника? У шестиугольника? У
десятиугольника?**

САША И ЮЛЯ ИЗМЕРЯЛИ ШАГАМИ
ДОРОЖКУ ОТ ДОМА ДО БЕСЕДКИ.
ОБЪЯСНИ, ПОЧЕМУ У НИХ ПОЛУЧИЛИСЬ
РАЗНЫЕ ОТВЕТЫ.



ВЫЧИСЛИ:



$$4 - 3 =$$

$$4 - 1 =$$



$$5 - 2 =$$


$$5 - 3 =$$



$$- =$$

$$+ =$$

ОПРЕДЕЛИ НА ГЛАЗ, У КАКОГО ЁЖИКА ПУТЬ САМЫЙ КОРОТКИЙ.




Начерти в тетради такую фигуру. Как она называется?

СКОЛЬКО? ЗАПИШИ.



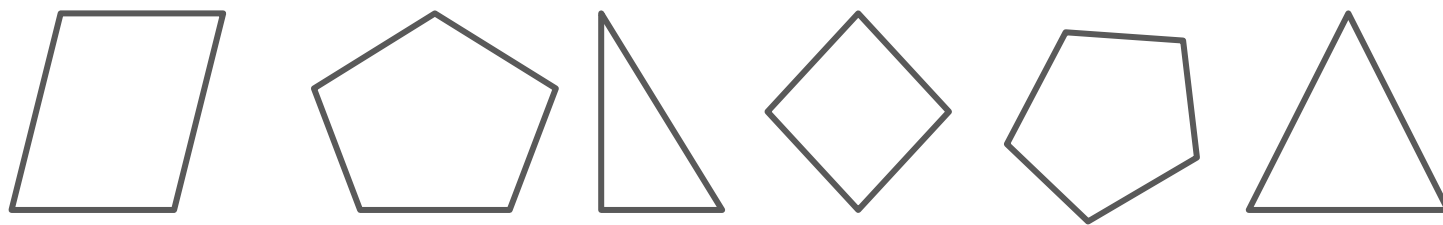
НАРИСУЙ В КАЖДОЙ СТРОКЕ СТОЛЬКО
ФИГУР, СКОЛЬКО УКАЗАНО ЦИФРОЙ.

5 

4 

3 

РАСКРАСЬ ВСЕ ПЯТИУГОЛЬНИКИ
СИНИМ ЦВЕТОМ, А ВСЕ
ТРЕУГОЛЬНИКИ КРАСНЫМ ЦВЕТОМ.



КАРТИНКИ:

[HTTPS://BUDU5.COM/GDZTASK/VIEW/12740](https://budu5.com/gdztask/view/12740)

[HTTPS://BUDU5.COM/GDZTASK/VIEW/12741](https://budu5.com/gdztask/view/12741)

[HTTP://NACHALO4KA.RU/ZANIMATELNAYA-MATEMATI
KA-TSIFRYI-I-CHISLA-OT-1-DO-5/3-SLIVYI/](http://nachalo4ka.ru/zanimatelnaya-matematika-tsifryi-i-chisla-ot-1-do-5/3-slivyi/)

[HTTPS://RU.DREAMSTIME.COM/%D1%81%D1%82%D0%
%BE%D0%BA%D0%BE%D0%B2%D0%BE%D0%B5-%D1
%84%D0%BE%D1%82%D0%BE-RF-5-%D0%BA%D0%BB
%D1%83%D0%B1%D0%BD%D0%B8%D0%BA-IMAGE13
229005](https://ru.dreamstime.com/%D1%81%D1%82%D0%BE%D0%BA%D0%BE%D0%B2%D0%BE%D0%B5-%D1%84%D0%BE%D1%82%D0%BE-RF-5-%D0%BA%D0%BB%D1%83%D0%B1%D0%BD%D0%B8%D0%BA-IMAGE13229005)

<http://webvinegret.ru/esh-po-2-banana-v-den-i-ne-poverish-cht/>