



# Урок **25**

*Работаем с числом 10*

# Посчитаем с Крошем

$5 + 1$

$8 + 1$

$3 + 1$



# Посчитаем с Крошем

$1 + 1$

$6 + 1$

$9 + 1$



# Посчитаем с Крошем

$2 + 1$

$4 + 1$

$7 + 1$



# Посчитаем с Крошем

2 - 1

4 - 1

7 - 1



# Посчитаем с Крошем

1 - 1

6 - 1

9 - 1



# Посчитаем с Крошем

$5 - 1$

$8 - 1$

$3 - 1$




# Работа по учебнику № 1



Возьмите 10 фишек разного цвета. Сколько может быть красных фишек? Сколько жёлтых?

**9** и **1** это **10**






# Работа по учебнику № 1



Возьмите 10 фишек разного цвета. Сколько может быть красных фишек? Сколько жёлтых?

**8** и **2** это **10**




# Работа по учебнику № 1



Возьмите 10 фишек разного цвета. Сколько может быть красных фишек? Сколько жёлтых?

**7** и **3** это **10**




# Работа по учебнику № 1



Возьмите 10 фишек разного цвета. Сколько может быть красных фишек? Сколько жёлтых?

**6** и **4** это **10**




# Работа по учебнику № 1



Возьмите 10 фишек разного цвета. Сколько может быть красных фишек? Сколько жёлтых?

**5** и **5** это **10**




# Работа по учебнику № 1



Возьмите 10 фишек разного цвета. Сколько может быть красных фишек? Сколько жёлтых?

**4** и **6** это **10**




# Работа по учебнику № 1



Возьмите 10 фишек разного цвета. Сколько может быть красных фишек? Сколько жёлтых?

**3** и **7** это **10**




# Работа по учебнику № 1



Возьмите 10 фишек разного цвета. Сколько может быть красных фишек? Сколько жёлтых?

**2** и **8** это **10**




# Работа по учебнику № 1



Возьмите 10 фишек разного цвета. Сколько может быть красных фишек? Сколько жёлтых?

**1** и **9** это **10**





Назови числа в порядке увеличения.

8, 9, 7, 10, 6, 5

8, 10, 6, 2, 4

5, 6, 7, 8, 9, 10

2, 4, 6, 8, 10

# Работа по учебнику № 5

Какие числа пропущены?

5 и	<input type="text" value="5"/>	это 10	8 и	<input type="text" value="2"/>	это 10
4 и	<input type="text" value="6"/>	это 10	9 и	<input type="text" value="1"/>	это 10
7 и	<input type="text" value="3"/>	это 10	6 и	<input type="text" value="4"/>	это 10

