

4

2


Математика еліне саяхат

3





Мақсаты:

1. Өткен тақырыпты тиянақтау, оқушылардың математика пәніне деген қызығушылығын арттыру.
 2. Оқушылардың ой өрісін, қиялын дамыту.
 3. Оқушыларды ізденімпаздылыққа, шапшаңдылыққа тәрбиелеу.
- 

Шаттық шеңбері

Қуан, шаттан!

Қайылы таң!

Қуан, шаттан!


Қайырлы күн!

Қуанатын күн бүгін!

Күліп шықты күн бүгін!!!




Ханшайымның тапсырмасы




Қуыршақтың тапсырмасы

Періштенің тапсырмасы




Сиқыршының тапсырмасы

Білгіштің тапсырмасы



Қасқыр мен қоянның тапсырмасы

Бауырсақтың тапсырмасы



Ханшаймның тапсырмасы





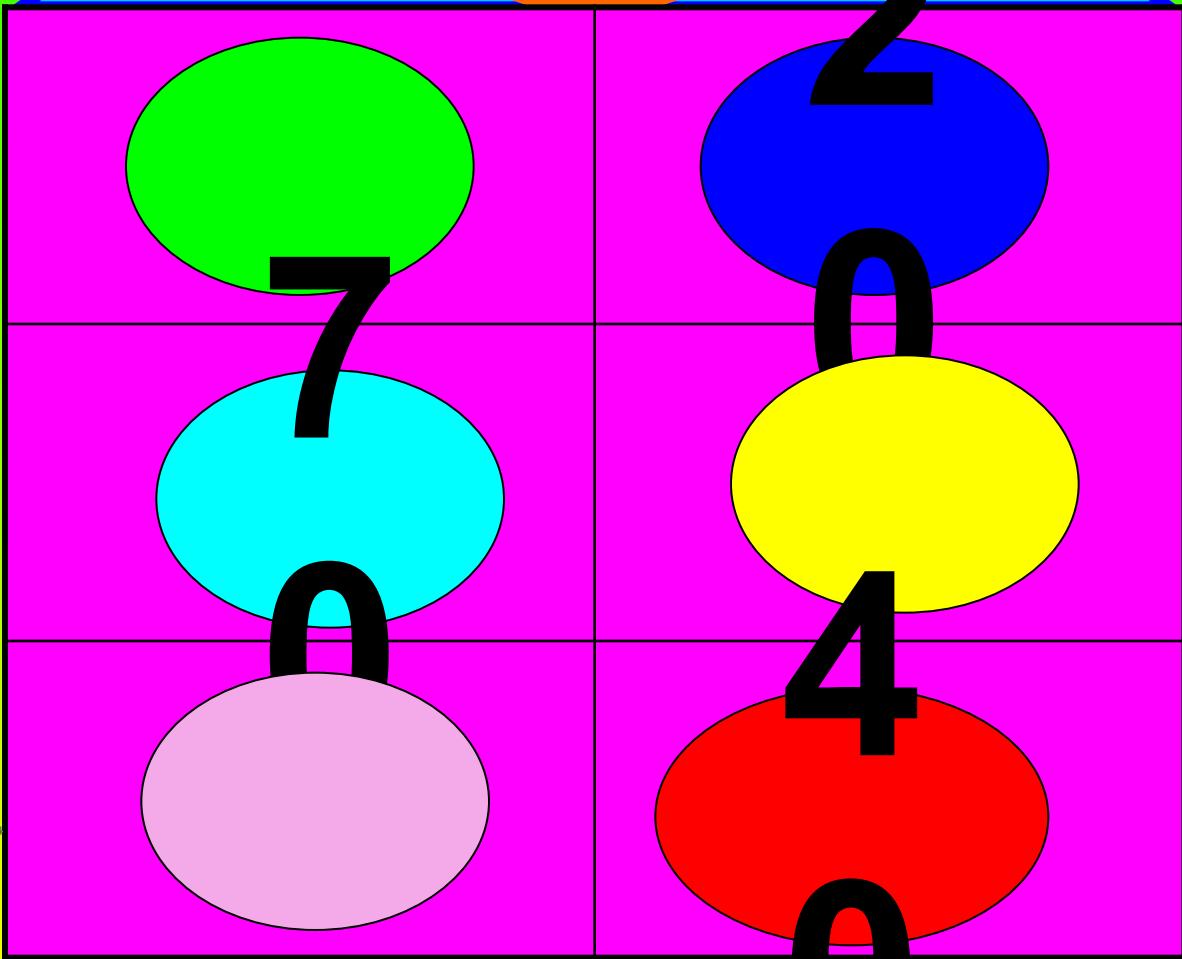



"Санның құрамын тап"





50 + ?

80

? + 20







Қыршақтың мансырмасы



Өрнектерді жаз және олардың мәнін тап.

а) 10 және 60 сандарының қосындысын тап;

ә) 70-ке 20 санын қос;

б) 60-пен 50 санының айырмасын тап.

Өзіңді тексер

$$\text{a) } 10+60=70$$

$$\text{ә) } 70+20=90$$

$$\text{б) } 60-50=10$$

Периштенн мансырмасы



"Ойна да, ойла"

1

20	8	9	40	2
30	90	6	7	60

1. Сандарды өсу ретімен жаз

2. Сандарды кему ретімен жаз

2

өзіңді тексер

1

2	8	9	20	40
---	---	---	----	----

1. Сандарды өсу ретімен жаз

2

90	60	30	7	6
----	----	----	---	---

2. Сандарды кему ретімен жаз

Сергіту сәті



Ормандағы аюдың,
Құлпынайы көп екен.
Теріп-теріп алайық,
Қалтамызға салайық



Сергіту сәті



Ормандағы аюдың,
Құлпынайы көп екен.
Теріп-теріп алайық,
Қалтамызға салайық







Wishing you a very happy birthday
and a successful year ahead.



ТЕНДЕУДІ ШЕШ

$$7 + x = 10$$

$$10 - y = 9$$

$$x + 2 = 8$$

Өзіңді тексер

$$7 + x =$$

$$10$$

$$x = 10 -$$

$$7$$

$$\underline{x = 3}$$

$$7 + 3 =$$

$$10$$

$$10 =$$

$$10$$

$$10 - y$$

$$= 9$$

$$y = 10 -$$

$$9$$

$$\underline{y = 1}$$

$$10 - 1$$

$$= 9$$

$$9$$

$$= 9$$

$$x + 2 =$$

$$8$$

$$x = 8 - 2$$

$$\underline{x = 6}$$

$$6 + 2 =$$

$$8$$

$$8 =$$

$$8$$


Шапшаң ойла

Орман алаңқайында 7 көжек, одан 3-уі кем тиін жүр. Алаңқайда неше тиін жүр?

Ондықтармен санау кезінде 80 саныны алдында тұрған ондықты ата.

60 бен 30 сандарының айырмасының мәнін тап.

Бізгіштің маңырмасы



Салыстыр:

5 дм * 50 см

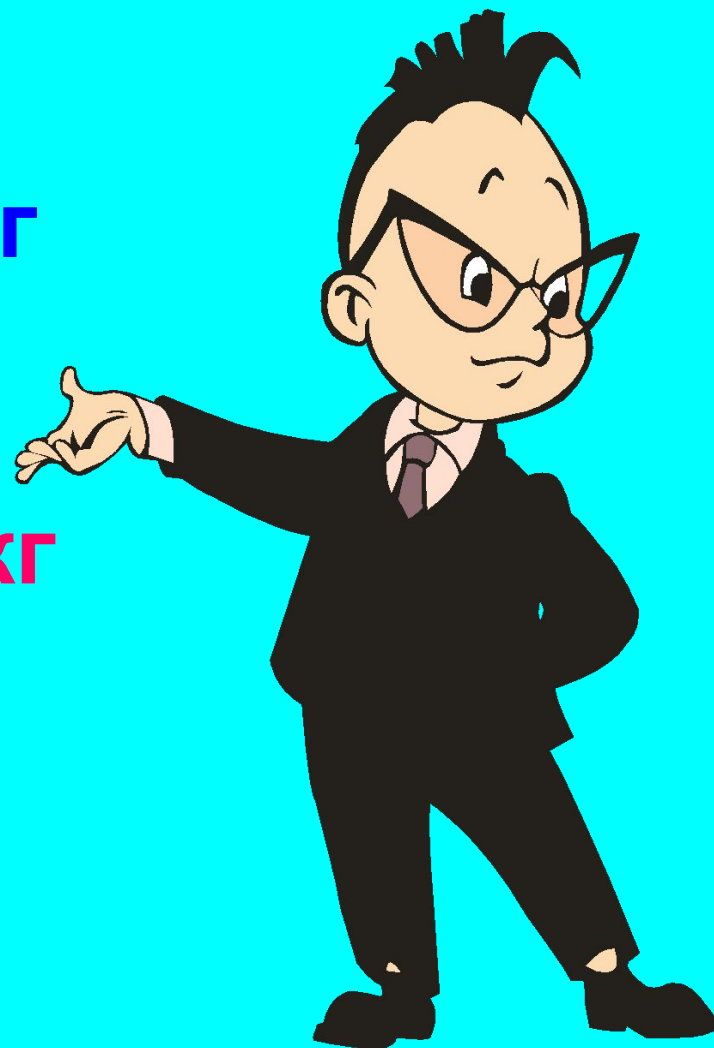
10кг +30кг * 90кг - 60кг

40см * 4 м

10 кг – 9 кг * 10 кг – 7 кг

1 м * 90 см

9 кг - 8 кг * 7 кг - 5 кг



Өзіңді тексер

$$5 \text{ дм} = 50 \text{ см}$$

$$10 \text{ кг} + 30 \text{ кг} > 90 \text{ кг} - 60 \text{ кг}$$

$$40 \text{ см} < 4 \text{ м}$$

$$10 \text{ кг} - 9 \text{ кг} < 10 \text{ кг} - 7 \text{ кг}$$

$$1 \text{ м} > 90 \text{ см}$$

$$9 \text{ кг} - 8 \text{ кг} < 7 \text{ кг} - 5 \text{ кг}$$




"Шапшаң ойла"

Қанша
шаршы
бар?

Тікбұрыш
несіу?

Үшбұрыш
ш
Несіу?





Қасқыр мен қоянның тапсырмасы



Тез есепте(ауызша)

Мұз айдында жеті бала.
Асыр сап жүр сырғанап.
Сырғанамай екі бала.
Жағалауда тұр қарап.
Енді осы бар баланың
Санын айтсаң-жарадың!!!

Жаңа ғана шалғында,
Алты бұзау жүр еді.
Әлде шаршап қалды ма,
Жатып қапты біреуі
Нешеуі енді жайылып,
Айт,жүргенін айырып.

Бауырсақтың мансы



Есепті шығар

**Ләззатта 8 ертегі кітап,
одан 3-і кем
жануарлар туралы кітап бар.
Ләззатта жануарлар туралы
неше кітап бар?**

Өзіңді тексер

Ертегі - 8 кітап,

Жануарлар - ? кітап, одан 3-і кем

$$8 - 3 = 5 \text{ (к)}$$

Жауабы: жануарлар туралы 5 кітап.

Есепті шығар

**Ләззатта 5 жануарлар
туралы кітап және
одан 3-і артық ертегі кітап бар.
Ләззатта неше ертегі кітап бар?**

Өзіңді тексер

Жануарлар -5 кітап,

Ертегі – ? кітап, одан 3 артық.

$$5 + 3 = 8 \text{ (к)}$$

Жауабы: 8 ертегі кітап

Жұмбақтарды шеш

Шығармақ боп кеше есеп,
Жиналғанда бес есек
Үшеуі ұйықтап отырды,
Ынталысы неше есек?

Екі аяқ пен екі қол,
Бір ауыз бен бір тілің,
Нешеу болды кәне,бол,
Санап шығар кім бұрын?



Үшеуі аз деп балапан,
Қосты тағы үш балапан,
Табыңдаршы ойланып,
Қанша болды балапан?

Аулада бес үйрек,
Қорада үш үйрек
Бір үйрек тығылды,
Бір үйрек жығылды
Қалғаны неше үйрек?



Тест

1. $50 + 20 =$

A) 70

Б) 78

В) 80

2. $40 \text{ дм} - 20 \text{ дм} =$

A) 20 дм

Б) 10 дм

В) 15 дм

3. $1 \text{ м} = ? \text{ см}$

A) 20 см

Б) 100 см

В) 10 см

4. Сексен санының дұрыс жазылуын көрсет:

A) 88

Б) 8

В) 80



Өзіңді тексер

1. $50 + 20 = 70$

A) 70

Б) 78

В) 80

2. $40 \text{ дм} - 20 \text{ дм} = 20 \text{ дм}$

A) 20 дм

Б) 10 дм

В) 15 дм

3. $1 \text{ м} = 100 \text{ см}$

A) 20 см

Б) 100 см

В) 10 см

4. Сексен санының дұрыс жазылуын көрсет:


A) 88

Б) 8


В) 80




Бағалау



- өте жақсы



= жақсы



- әлі де дайындық керек



Сау болыңыздар!

