

Подготовка к тесту по математике в 1 классе.

Сенова Наталья Владимировна
учитель начальных классов МКОУ СОШ пгт.
Вахруши
Слободского района Кировской области



1. Отметь **v** правильный ответ.

$$4+6=$$

10

9

11

<input type="checkbox"/>
<input type="checkbox"/>
<input type="checkbox"/>



Отметь **✓** правильный ответ.

$$7+6=$$

12

14

13



2. Какой знак пропущен?

$$8 \dots 4 = 4$$

+

=

-



Какой знак пропущен?

$$8 \dots 3 = 11$$

+

=

-



3. Отметь **✓** правильно решённый пример.

$$9 - 5 = 5$$

$$10 - 5 = 5$$

$$9 - 5 = 3$$



Отметь **✓** правильно решённый пример.

$$11 - 5 = 5$$

$$10 - 5 = 5$$

$$7 - 5 = 3$$



4. Чтобы посадить **8** детей в зале,
необходимо ещё **2** стула. Сколько стульев
стоит в зале?

Отметь в правильно решённый пример.

10

7

6



Чтобы заправить **9** кроватей, необходимо ещё **4** покрывала. Сколько кроватей уже заправлено покрывалами?

Отметь в правильно решённый пример.

4

5

6



5. Какое число пропущено?

$$7 = \square + 4$$

Отметь v правильный ответ.

3

2

4

<input type="checkbox"/>
<input type="checkbox"/>
<input type="checkbox"/>



Какое число пропущено?

$$10 = \square + 4$$

Отметь в правильный ответ.

7

5

6

<input type="checkbox"/>
<input type="checkbox"/>
<input type="checkbox"/>




6. Соедини каждые две точки прямой линией.
Сколько линий получилось?
Отметь в свой ответ.

4

2

6



7. Наде **6** лет, она на **4** года младше сестры Оли. Сколько лет Оле?

Отметь в правильный ответ.

10

2

9

<input type="checkbox"/>
<input type="checkbox"/>
<input type="checkbox"/>



В вазе **11** роз, их на **3** больше, чем лилий.

Сколько в вазе лилий?

Отметь в правильный ответ.

14

8

9

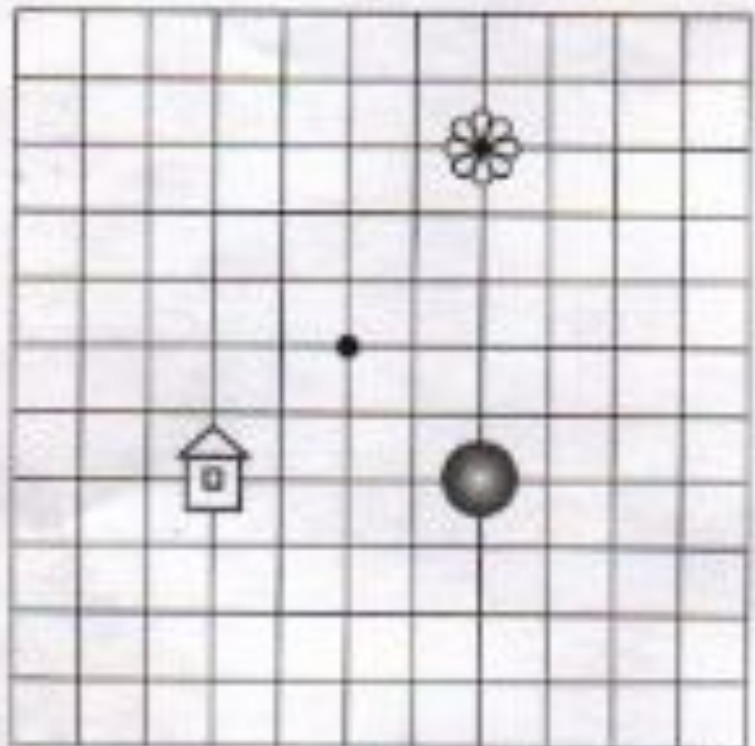
<input type="checkbox"/>
<input type="checkbox"/>
<input type="checkbox"/>



8. От точки (●) пройди вниз **4** клетки,
влево **2** клетки
вверх **2** клетки

Где ты окажешься?

Отметь *✓* правильный ответ.



ДОМИК
ШАРИК
ЦВЕТОК



От точки (●) пройди
вправо 4 клетки,
вниз 2 клетки,
влево 2 клетки. Где ты окажешься?
Отметь в правильный ответ.



ДОМИК
ШАРИК
ЦВЕТОК



9. Друг за другом идут **7** детей. Коля идёт второй, Аня – шестая. Сколько детей идёт между Колей и Аней?

Отметь в правильный ответ.

4 детей

3 детей

5 детей



Друг за другом едут **9** машин. Сколько машин едет между

2 машиной и **8** машиной?

Отметь в правильный ответ.

4 машины

3 машины

5 машин





10. Каждая девочка взяла по фрукту. Катя взяла не яблоко и не апельсин. Надя взяла не яблоко. Что взяла Маша? *Отметь в правильный ответ.*

Катя

Надя

Маша



яблоко

грушу

апельсин



$$3-1=2$$

Каждый мальчик взял по фигуре. Миша взял не треугольник и не круг. Коля взял не круг. Что взял Юра? Отметь в правильный ответ.

Миша



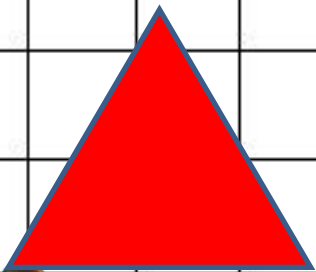
Коля

Юра

треугольник

круг

квадрат



МОЛОДЦЫ!

