

“Тәуелсіз елдің  
болашағы –  
білімді ұрпақ”



**“Бәріміз біріміз үшін,  
біріміз бәріміз үшін”**

**I. Өзін - өзі таныстыру.**

**II. Өткел.**

**III. Белес.**


**IV. Бекет.**

**V. Асу.**

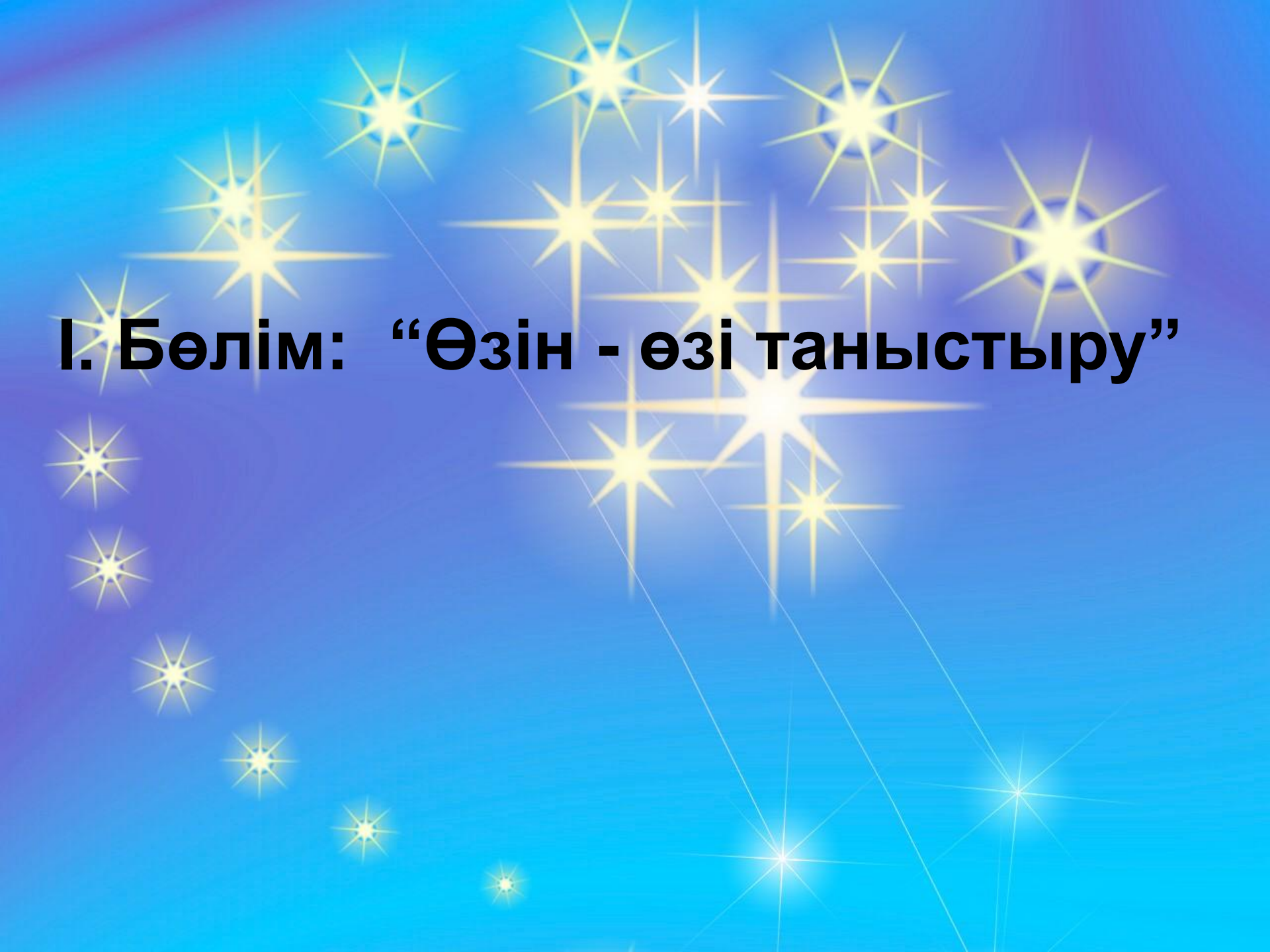
**VI. Жерұйық**







**Өмірдің өзі адамды тірестірген,  
Бірі жаңа, жарыстың бірі ескірген.  
Айнала отырып ап исі қазақ,  
Азаматын өзара күрестірген.**

The background is a gradient of blue, transitioning from a lighter blue at the top to a darker blue at the bottom. It is decorated with numerous glowing yellow stars of varying sizes and shapes, some with long, thin rays extending outwards. The stars are arranged in a pattern that resembles a constellation, with some stars connected by thin, faint white lines. The overall effect is that of a night sky or a starry field.

**I. Бөлім: “Өзін - өзі таныстыру”**



## II. Бөлім: “Өткел”

Тест.



The background of the slide is a collection of various colored glass marbles in shades of blue, teal, and green. The marbles are scattered across the frame, with some in sharp focus and others blurred, creating a bokeh effect. The colors range from deep, dark blues to bright, vibrant greens. The overall composition is dense and visually appealing, with the marbles reflecting light and creating subtle gradients of color.

### **III. Бөлім: “Белес”**


**ҚЫЗЫҚТЫ СҰРАҚТАР.**



## IV. Бөлім. “Бекет”

Топ басшыларының сайысы





**Сызық бойында тұрған үш санның қосындысы 15 – ке тең болу керек**

# Ү. Бөлім: “Асу”

<b>1</b>	<b>2</b>	<b>3</b>	<b>4</b>	<b>5</b>	<b>6</b>
<b>7</b>	<b>8</b>	<b>9</b>	<b>10</b>	<b>11</b>	<b>12</b>
<b>13</b>	<b>14</b>	<b>15</b>	<b>16</b>	<b>17</b>	<b>18</b>
<b>19</b>	<b>20</b>	<b>21</b>	<b>22</b>	<b>23</b>	<b>24</b>



1

**Ұзындығы 5 см,  
ал ені 2 см  
тік төртбұрыштың  
ауданын тап?**

2

**Адам денесі қандай  
бөліктерден тұрады?**



3

**Екі қайың өсіп тұр.  
Әр ағашта екі бұтақ,  
Әр бұтақта екі алмұрттан.  
Барлығы неше алмұрт?**

4

**Бұлшық ет не арқылы  
сүйекке бекиді?**



5

**I ғасыр 18 жыл – неше жыл?**

6

**Жер бетіндегі ауаның бір жерден  
екінші бір жерге ауысуын не дейді?**



7

**Ауданы 64 кв см шаршының  
қабырғасы неше см?**

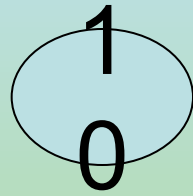
8

**Әр адам тәулігіне тамаққа және ішуге неше литр су жұмсайды?**

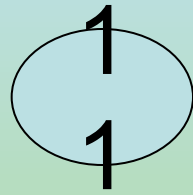
9

**Отыздың үштен бір бөлігі?**

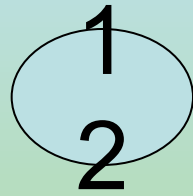




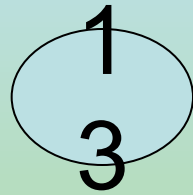
**Майда тау жыныстарына нелер жатады?**



**Ағаштың ұзындығы 4 м. 1 минутта ағаштың бір метрі кесіледі.  
Яғни неше минутта кесіліп бітеді?**

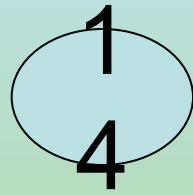


**Жылғалар бір – бірімен қосылып не құрайды?**



**Су жағасына тауықтың, үйректің жеті балапаны келді.  
Суда бірақ бес балапан жүзіп жүр.  
Сонда екі балапан қайда?**





**Табиғатта су қандай күйде кездеседі?**

1  
5

Анар әжесінен 60 жас кіші,  
ол өзінің інісінен 7 жас үлкен.  
Анардың інісі 3 жаста.  
Әжесі неше жаста?

1  
6

**Жерден қазылып алынып  
адам қажетіне жұмсалатын  
тау жыныстарын не дейді?**

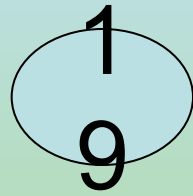
1  
7

**Дені сау адамның тамыры  
1 минутта неше рет соғады?**

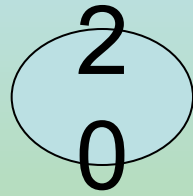


1  
8

**100 кг –да неше грамм бар?**



**Желдің күші мен бағытын  
анықтайтын құралды ата.**



**Текшенің қанша жағы бар?**

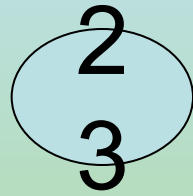
2  
1

**Что входит в состав воздуха?**

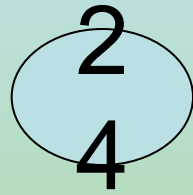


2  
2

**Назовите основное свойство почвы.**




**Назовите компоненты умножения и деления?**



**Назовите основное свойство  
прямоугольника, квадрата?**



**ҮІ. Бөлім: “Жерұйық”**



**Дүниетану**

**Математика**



Көңіл қойып қатысқандарыңызға рахмет!

