

# УСТНЫЙ СЧЁТ




В ящике **15** кг яблок, а в корзине на **10** кг меньше.  
Сколько всего кг яблок в ящике и в корзине вместе?

$$1) 15 - 10 = 5$$

$$2) 15 + 5 = 20$$

(КГ) -




В  
КОРЗИНЕ  
ВСЕГО

О


Три девочки нарисовали **двух** кошек и **1** **зайца**. Что рисовала Ася, если Катя с Асей и Лена с Асей рисовали разное?

**Ася -  
зайца.**



Стоит в поле дуб. На дубе **три** ветки, на каждой ветке по **три** яблока. Сколько всего яблок?

**На дубе яблоки не  
растут.**



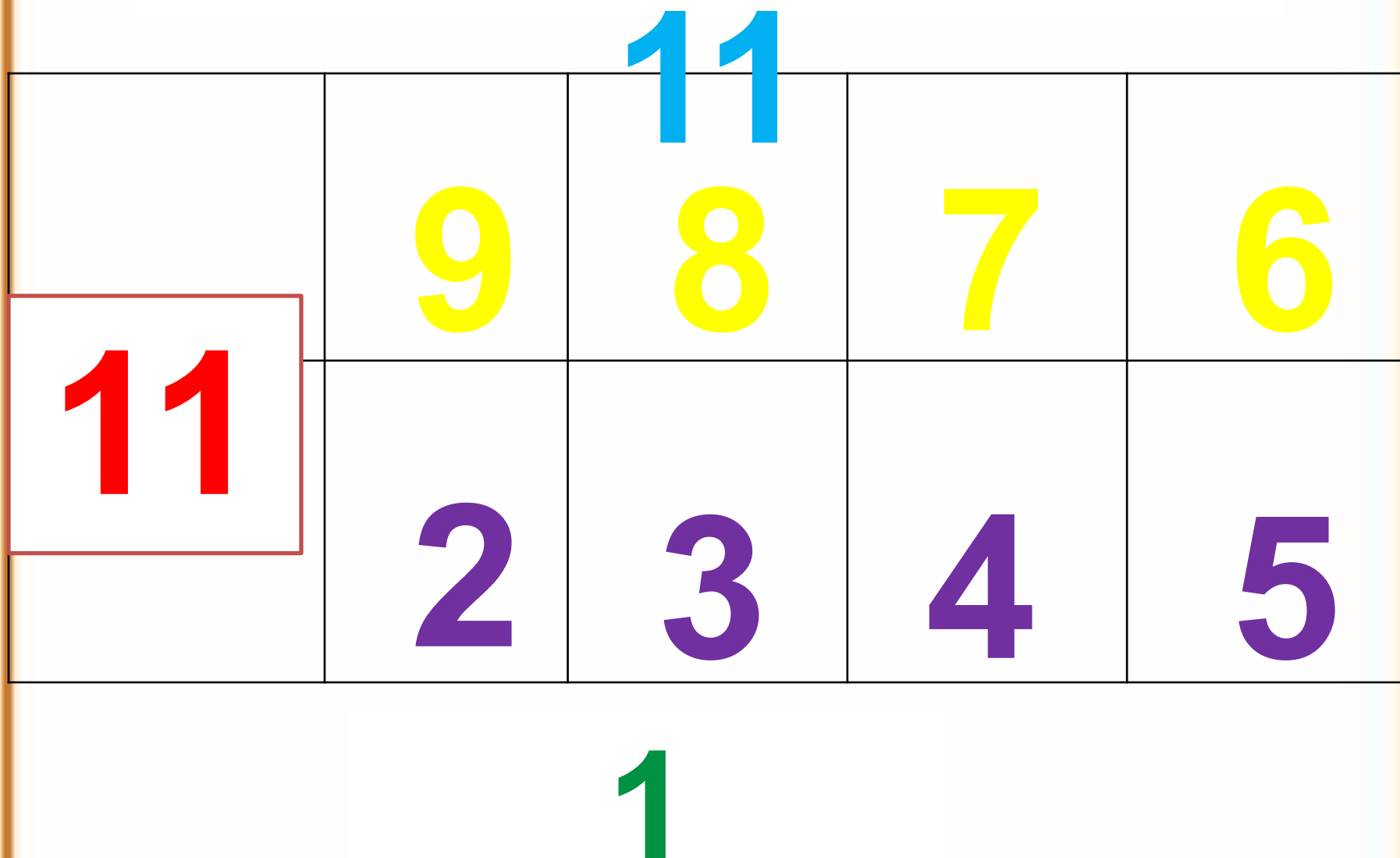
Ты пилот самолета, летящего из Парижа в Москву с посадкой в Киеве. Время в полете - **2 часа**. Сколько лет пилоту?

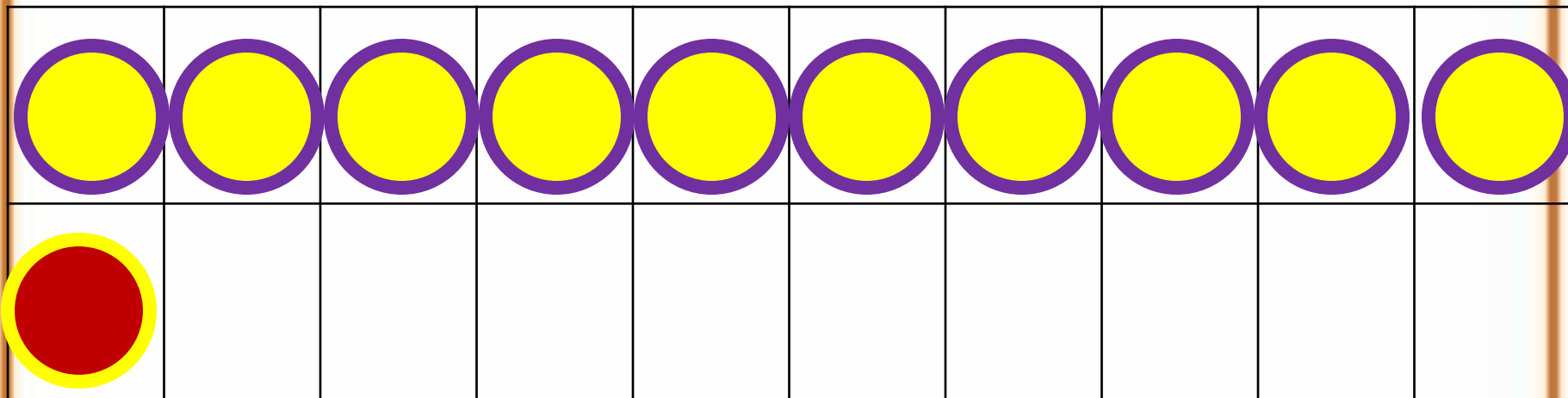


**А сколько лет тебе?**

**Случаи  
вычитания 11-**

# Состав числа





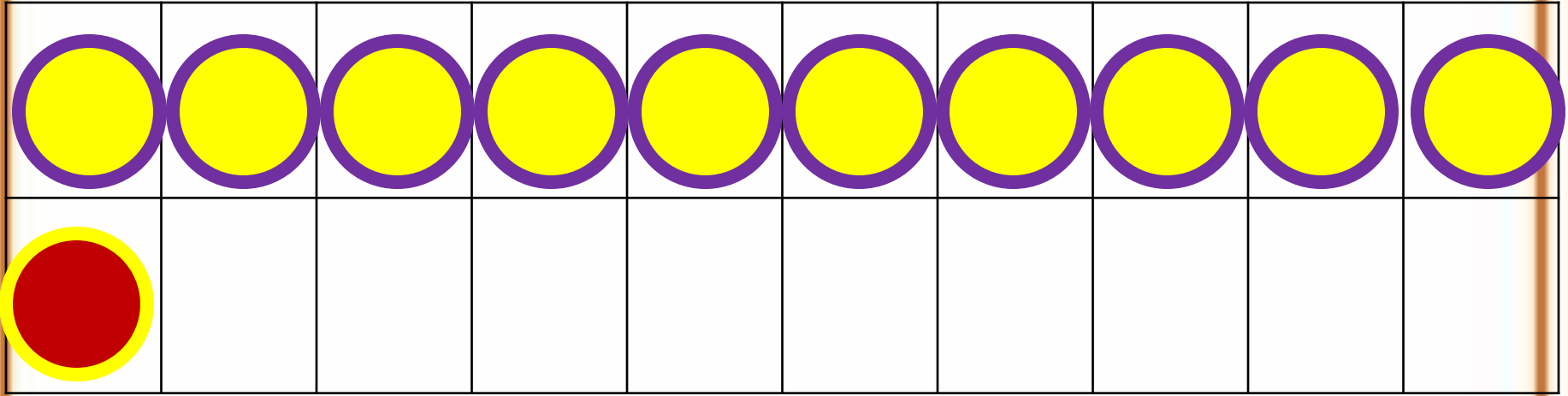
2

способ

11 -

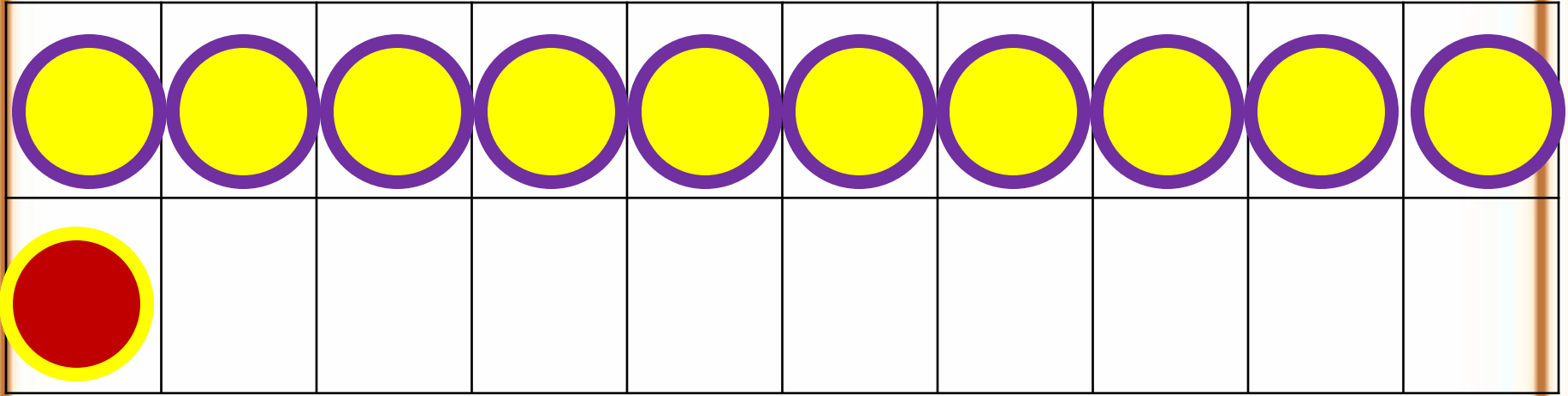
11 - 1 -





11 -

11 - 1 -



11 -

11 - 1 -

**Запомни!**

$$11 - 2 =$$

9

$$11 - 3 =$$

8

$$11 - 4 =$$

$$11 - 6 =$$



5

$$11 - 7 =$$

4

$$11 - 8 =$$

# РАБОТА ПО УЧЕБНИКУ




Стр. 82

Объясни, как из числа 11 вычесть 4.

▶

11	
2	
3	
4	
5	



$$\begin{array}{r} 11 - 4 \\ \hline 11 - 1 - 3 \end{array}$$

Вычисли и запомни.

$11 - 2$	$11 - 3$	$11 - 4$	$11 - 5$
$11 - 9$	$11 - 8$	$11 - 7$	$11 - 6$

1. Объясни разные способы решения.

$$11 - 5 = 6$$



$$11 - 5 = 6$$



2.  $12 - 2 + 4$

$13 - 3 - 2$

$10 + 5 - 1$

$12 - 2 + 5$

$14 - 4 - 5$

$17 - 7 + 6$

$12 - 2 + 7$

$16 - 6 - 3$

$10 - 8 + 8$

3. Сделай рисунки к задачам и реши их.

1) Петя нарисовал 6 больших квадратов и 4 маленьких. Он раскрасил 7 квадратов. Сколько квадратов осталось нераскрашенными?

2) Саша принёс 6 морковок, а Оля — 4. Они отдали кроликам 8 морковок. Сколько морковок осталось?

4. Ребята посадили по 10 горошин. У Коли не дали ростки 3 горошины, а у Миши — 4. Сколько горошин дали ростки у каждого из этих мальчиков?

5. Из коробки взяли 6 кубиков. Сколько кубиков надо положить в коробку, чтобы в ней стало на 3 кубика больше, чем было сначала?

---

▶  $11 - 7 = \square$

$11 - 3 = \square$

$11 - 6 = \square$