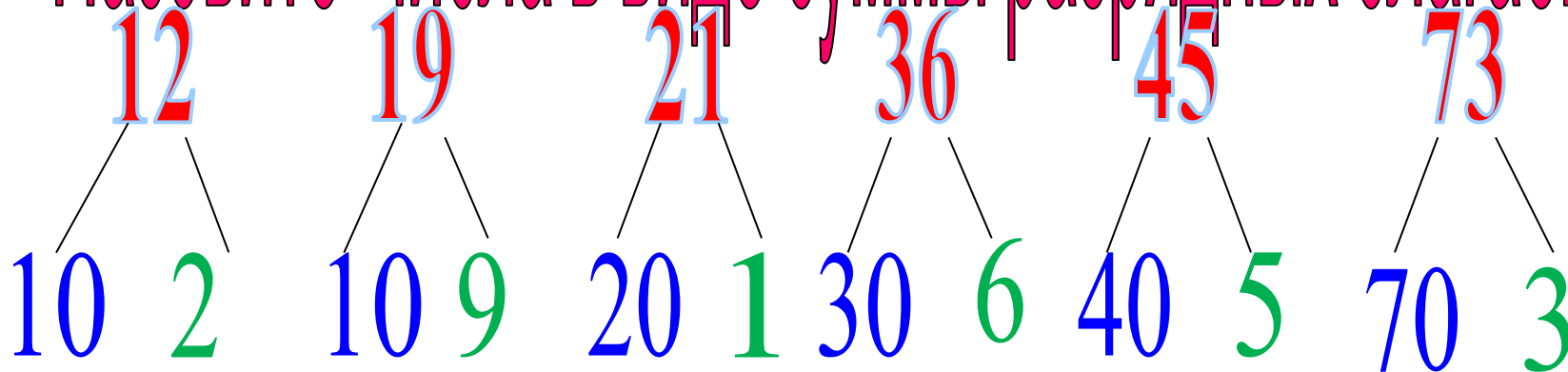


A T E M A T V K A





Назовите числа в виде суммы разрядных слагаемых





Сколько шишек
заготовила белка, если
разгрызла 7, а осталось
202



В лесу растёт лиственных- 30, а хвойных-20
деревьев. Сколько всего деревьев растёт в
лесу?

Условие задачи –

ЭТО ТО, ЧТО НАМ ИЗВЕСТНО.


Вопрос задачи –

ЭТО ТО, ЧТО НУЖНО УЗНАТЬ.

Решение

Ответ

Тема урока: Решение задач.




29 ноября.

Классная работа.

Работа в учебнике с.64, №1.

1. Длина аллеи 70 м. Два мальчика пошли навстречу друг другу с разных концов аллеи. Один мальчик прошёл до встречи 22 м. Сколько метров прошёл до встречи другой мальчик?



Физминутка



1, 2, 3, 4, 5 - будем мы
В снежки играть!
Валенки наденем, шапку,
Шарф завязан?
Всё в порядке!
Раз – присесть,
Два – наклониться,
Три – снежок лепи,
На четыре и на пять,
Начинай снежки бросать!



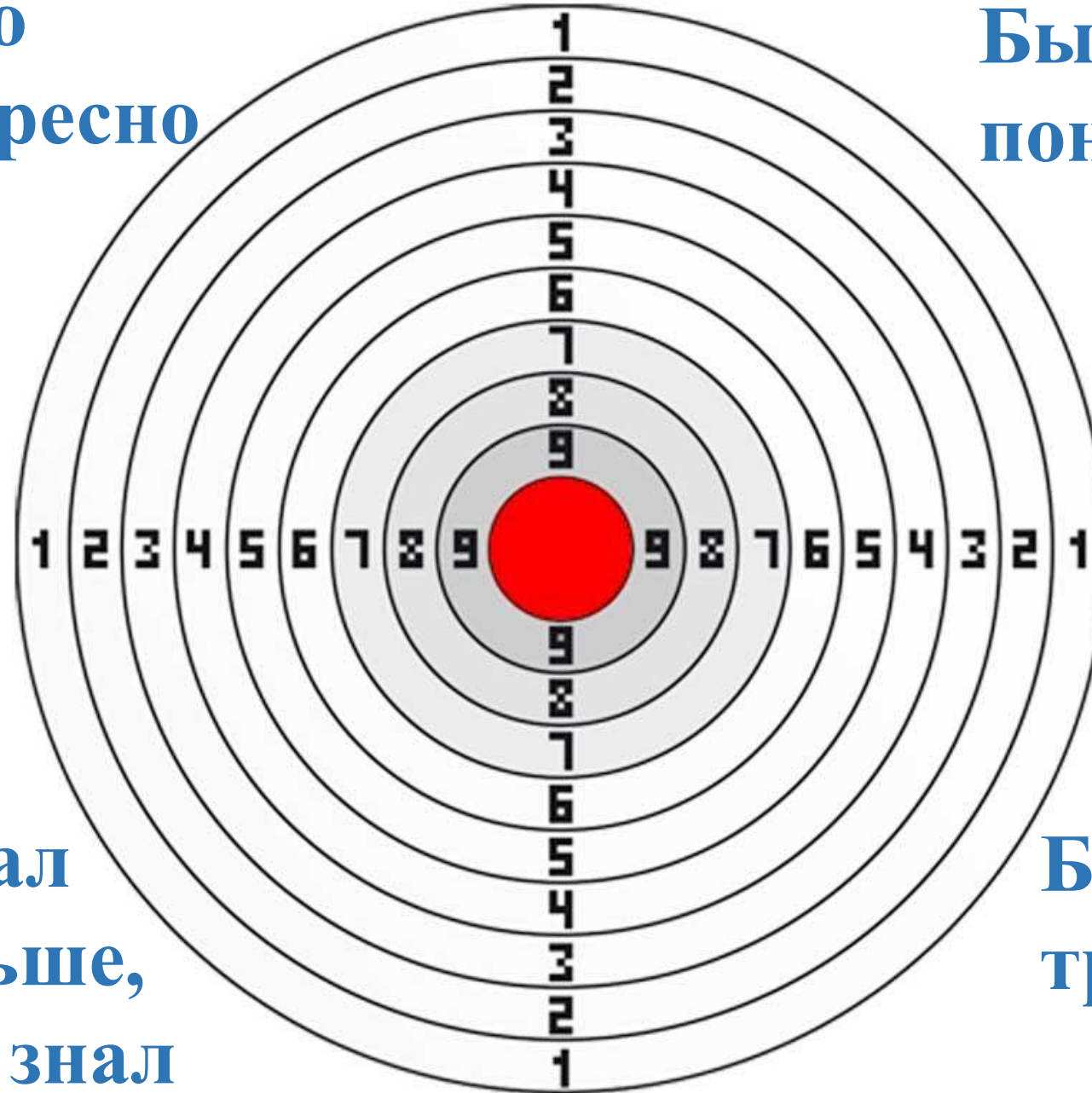
Работа в учебнике с.64, №4.

Вася 45 мин смотрел по телевизору фильм про Тарзана и еще 15 мин – мультфильм. Сколько всего минут Вася смотрел эти фильмы?

Составь две задачи, обратные данной, и реши их.


**Было
интересно**

**Было
понятно**



**Узнал
больше,
чем знал**

**Было
трудно**



Домашнее задание

с. 64, №

2,5.

Вася 1 час смотрел по телевизору различные фильмы. Из них 45 минут он смотрел фильм про Тарзана, а остальное время – мультфильмы. Сколько времени Вася смотрел мультфильмы?

Ф. - ?

М. – 15мин

Вася 1 час смотрел по телевизору различные фильмы. Из них 15 минут он смотрел мультфильмы, а остальное время фильм про Тарзана. Сколько времени Вася смотрел фильм про Тарзана?

Ф. – 45 мин

М. - ?

