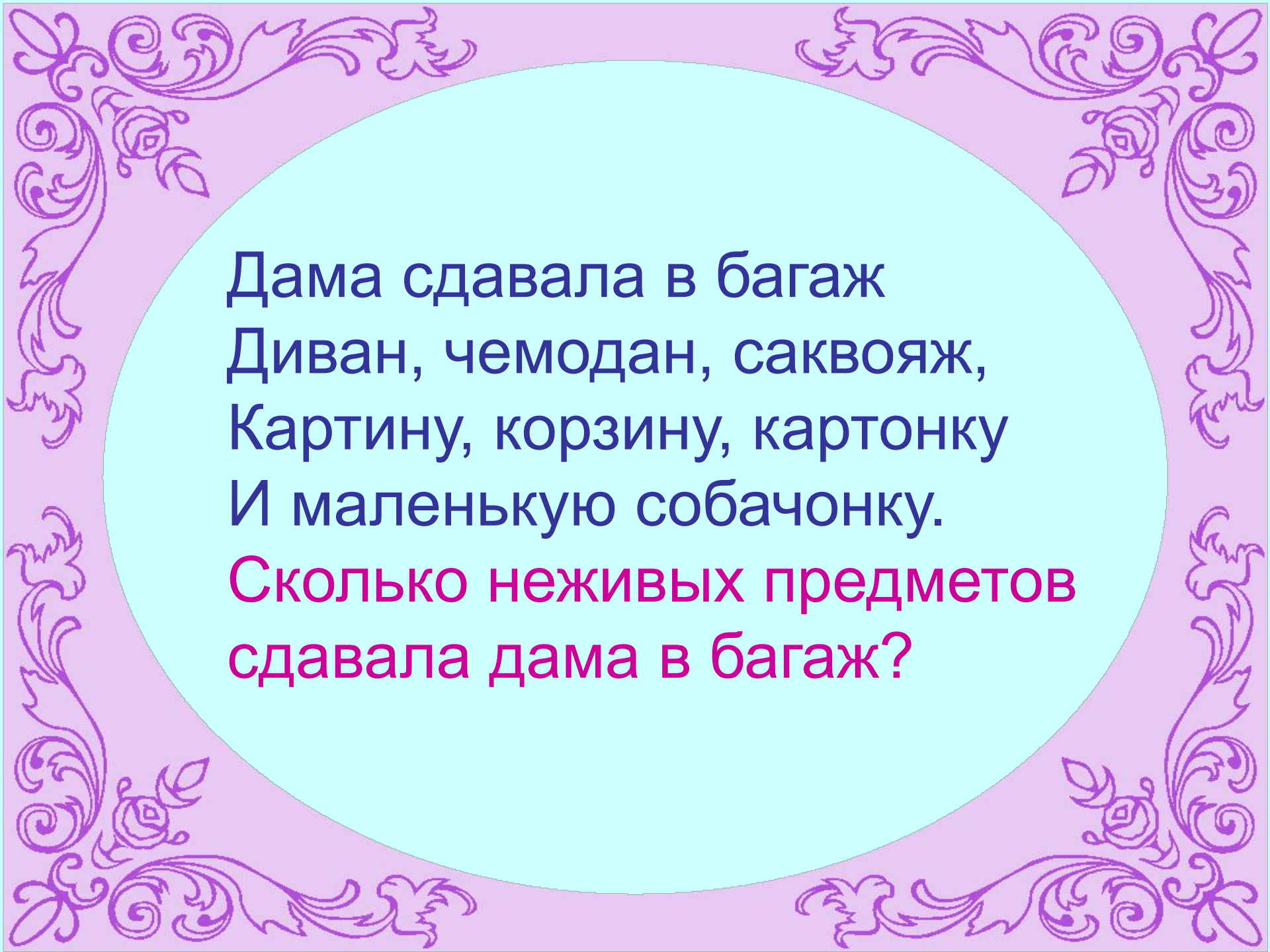




ПОВТОРЯТЬ ДА УЧИТЬ - УМ ТОЧИТЬ



Дама сдавала в багаж
Диван, чемодан, саквояж,
Картину, корзину, картонку
И маленькую собачонку.
Сколько неживых предметов
сдавала дама в багаж?


Вот восемь зайчат
по дорожке идут
За ними вдогонку
двое бегут.
Так сколько ж всего
По дорожке лесной
Торопится очень
зайчишек домой?



Шесть щенков в футбол играли,
Одного домой позвали.
Он глядит в окно, считает:
Сколько их теперь играет?






Дядя Ёжик в сад зашёл,
Десять яблочек нашёл.
Три из них он дал ежатам,
Остальные же – зайчатам.
Сколько яблок получили
зайчата?



6, 10, 5, 7.

5, 6, 7, 10.





По форме


5 и **5**

По цвету

6 и **4**

По размеру

8 и **2**



10

9	и	1
8	и	2
7	и	3
6	и	4
5	и	5

Сравните два текста.

«На лесной полянке выросли четыре маленькие и одна большая ромашка. Сколько ромашек выросло на лесной полянке?»

«На лесной полянке выросли четыре маленькие и одна большая ромашка. Красивые были цветы?»

Тема урока:

"Задача."

Кто правильно составил задачу?

Петя: Сколько карандашей у Димы?

Вова: У Коли 2 мяча, а у Саши 3 мяча.

Катя: У Лены 5 яблок, 2 яблока она
подарила. Сколько яблок осталось?

Ответ: правильно составила задачу Катя.


Задача

```
graph TD; A([Задача]) --> B([условие]); A --> C([вопрос]);
```

условие

вопрос

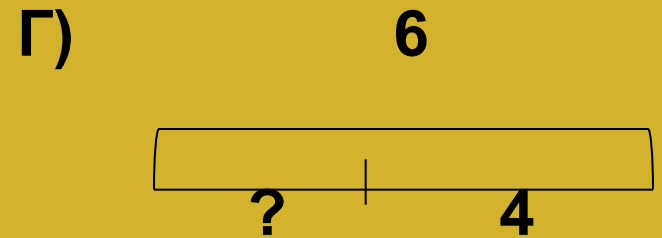

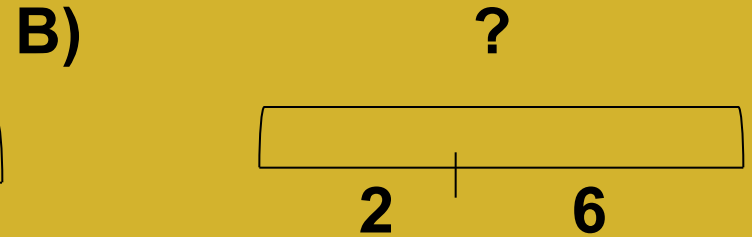
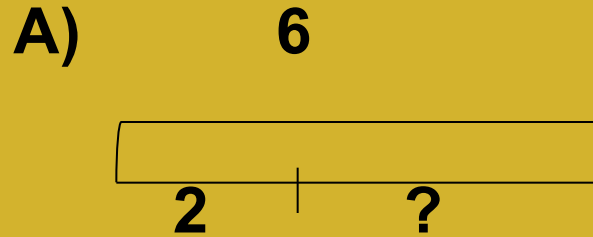
Составить задачи по картинке



У Кати 2 мака и 4 ромашки.
Сколько всего у Кати цветов?



Найди схему к этой задаче.



• Ответ: схема Б.

Находим часть.

Находим целое.

А)

7



3

?

Б)

?



3

4

Г)

7



?

4

В)

?

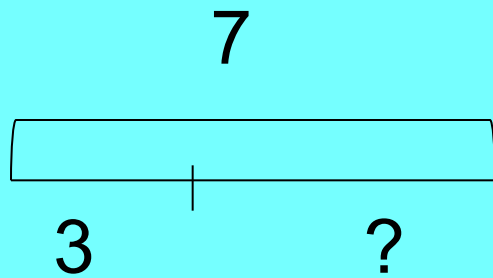


3

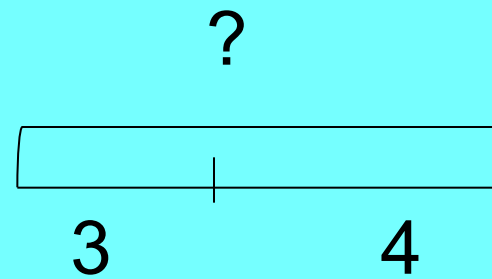
7

Взаимнообратные

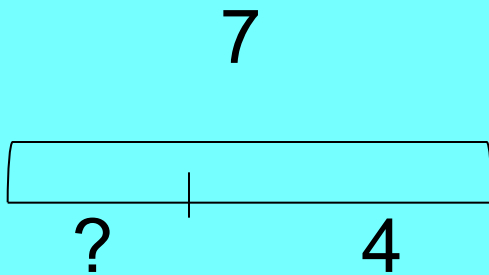
А)




Б)



Г)



**У Ёжика было 7 грибов.
Он отдал Белочке 3 гриба. Сколько грибов
осталось у Ёжика?**



**Кто правильно
решил задачу?**

Вова: $7 - 3 = 3$

Катя: $7 + 3 = 10$

Петя: $7 - 3 = 4$

Ответ: правильно решил задачу Петя.

Задача

схема

**выражени
е**

**значение
выражени
я**

ответ

Задачи-ловушки

«На березе росло 8 яблок, 3 яблока упало. Сколько яблок осталось на березе?»

«Во двор прилетели 5 орлов и 4 коршуна. Сколько птиц гуляет по двору?»

«Добираясь к нам в гости наши друзья Петя, Катя и Вова проехали 3 км. Сколько км проехал каждый?»



*«Повторять да учить -
ум точить»*

Молодцы!