

# Урок математики



1 класс

## «Закрепление. Решение задач»



Учебник «Математика», часть 2.

Страница 13

Автор: Давидович Светлана Адамовна  
учитель начальных классов  
ГБОУ СШ № 3 им. С.П.Королева  
города Байконур



Столько же.  
Сколько ... ?  
 $4 = 4$



На 1 меньше, или  
столько же без одного.  
Сколько ... ?  $8 - 1 = \square$



Объясните!



Столько же.  
Сколько ... ?  
 $7 = 7$



На 2 больше, или  
столько же и ещё 2.  
Сколько ... ?  $7 + 2 = \square$

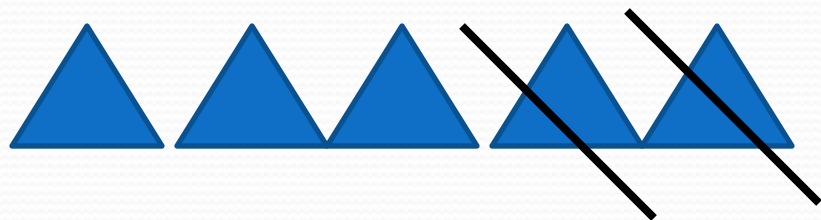



Объясните!

1.



1) У Мити 5 вагончиков. У Кости на 2 вагончика меньше, чем у Мити. Сколько вагончиков у Кости?



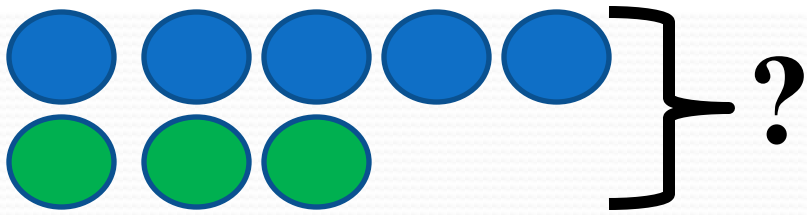
$$5 - 2 = 3 \text{ (в.)}$$

Ответ: 3 вагончика.



2) У Мити 5 вагончиков, а у Кости **3** вагончика. Сколько всего вагончиков у этих мальчиков?


Дополни условие, используя ответ предыдущей задачи.



$$5 + 3 = 8 \text{ (в.)}$$

**Ответ: 8 вагончиков.**

2. У Лены было 7 книг со сказками. Она принесла 2 из них в классную библиотечку. Сколько книг со сказками осталось у Лены?



$$7 - 2 = 5 \text{ (кн.)}$$

Ответ: 5 книг осталось.

3. Сравни примеры в каждом столбике. По какому правилу они составлены? Запиши ещё по одному примеру и вычисли.

$7 - 1$

$6 + 4$

$9 - 4$

$5 + 1$

$7 - 2$

$6 + 3$

$9 - 3$

$5 + 2$

$7 - 3$

$6 + 2$

$9 - 2$

$5 + 3$

...

...

...

...