



Урок
108

**Закріплення вивчених
таблиць
множення і ділення.
Обчислення виразів,
розв'язування рівнянь.**



Ось і дзвінок пролунав,
Для навчання час настав.
Щоб країні прислужитись,
Ви повинні добре вчитись –
Для могутності і слави
Української держави.

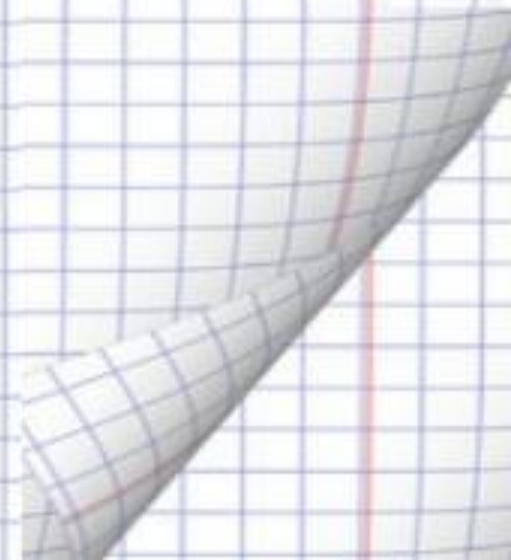


Як сядемо красиво,
То напишемо на

ДИВО

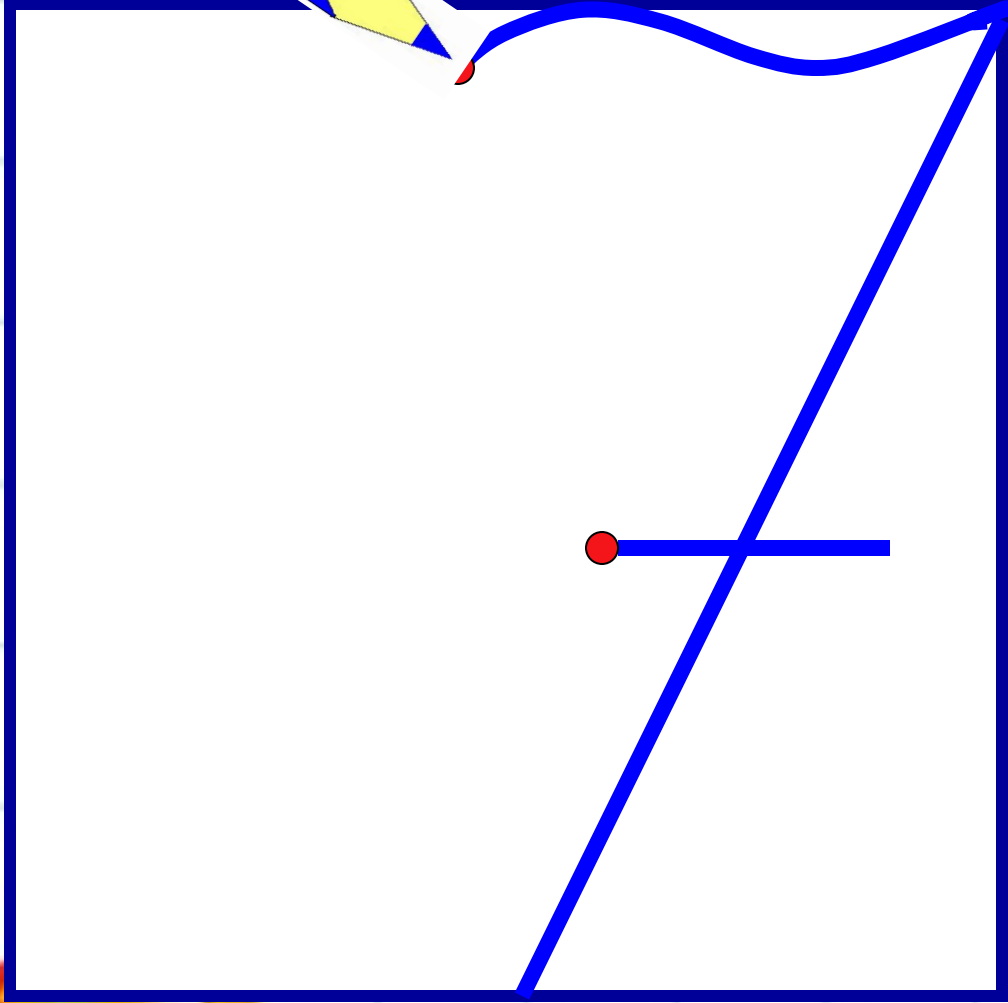
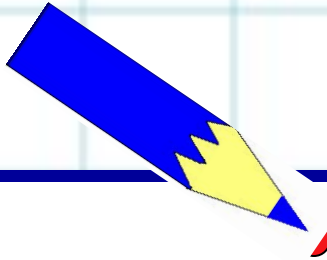
Ч

кр





$$7 \cdot 2 = \quad 7 \cdot 6 = \quad 56 : 7 = \quad 7 \cdot 4 =$$



42 зме

раз

6

тетка

48 і 6




6

8

30

42

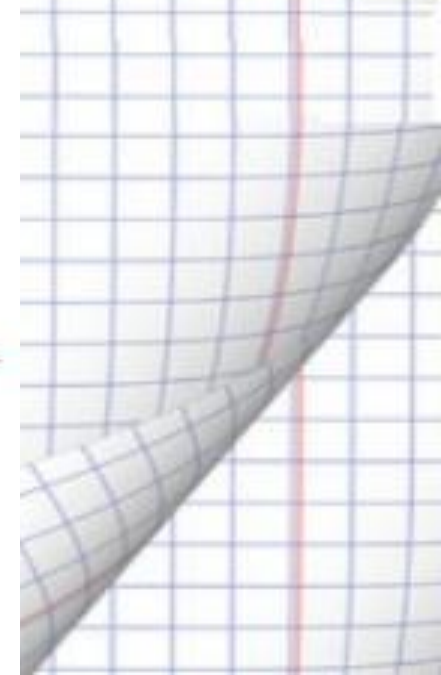






Підручники відкриваємо –
знання здобуваємо.

Рівняння





5



7



3



Работа в парах



836



5



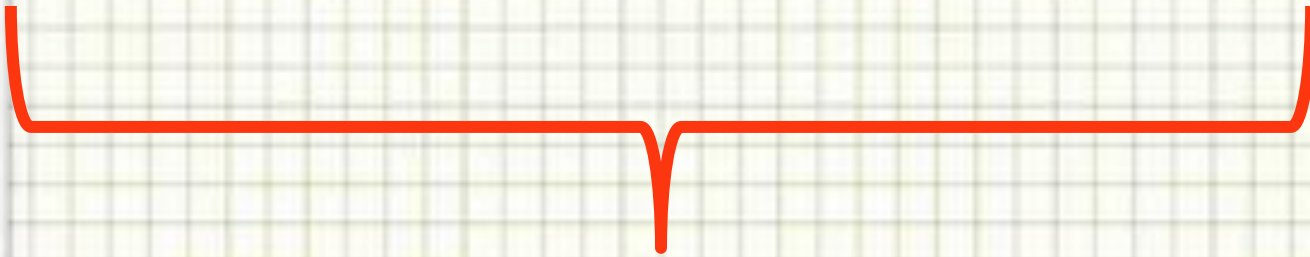
7



3



Задача 842



42 м.

X- кількість мішків на 1 причепі.

$$X \cdot 7 = 42$$

| | | | | | | | | |
|---|---|----|----|----|---|----|----|----|
| 9 | 4 | 20 | 16 | 35 | 7 | 28 | 42 | 12 |
|---|---|----|----|----|---|----|----|----|

ф а і к й т р л с

$27 : 3 =$

ф

$24 : 6 =$

а

$4 \cdot 5 =$

і

$5 \cdot 7 =$

й

$12 : 3 =$

а

$6 \cdot 2 =$

с

$6 \cdot 7 =$

л

$21 : 3 =$

т

$4 \cdot 4 =$

к

$7 \cdot 4 =$

р

$32 : 8 =$

а

$36 : 9 =$

а



Робота з геометричним матеріалом

Не стоїть

Щ

в,

ІВ.



5





7



3



З яких геометричних фігур
склали квіточку? Порахуй їх.





Потрібно
подумати...



Мені
цікаво ...



Розповім
батькам...