





# Тема : **Вычитание вида:** **50-24**




**Выполнила:**учитель начальных  
классов Баркалова Яна Викторовна






**Начнем урок с хорошего настроения, как у нашего солнышка.**





# 2 «Космическое путешествие»



Девиз: «В космос полетим отважно, чтоб  
открыть секреты важные!»





-Какое сегодня число?  
(7 февраля)

-Что вы можете мне сказать о слове  
февраль?

- самый короткий месяц;
- последний месяц зимы;
- самый солнечный месяц;



# Минутка чистописания.



Записать числа от 0 до 10 через одно число

**0, 2, 4, 6, 8, 10.**





# Планета Марс

Планета Марс-это четвертая планета по удаленности от Солнца



Еще ее называют красной планетой из-за того, что

Планета имеет красноватый цвет.

Названа в честь древнегреческого бога войны-Марса.



# Поможем мы с вами помочь раскрыть один секрет?



# «Разминка»



1. Какой сегодня день недели ?

(пятница)

Какой будет послезавтра?

(воскресенье)

2. Вспомните названия компонентов при сложении.

(1 слагаемое 2 слагаемое сумма)

3. Вытянутый круг.

(овал)

4. Назовите наибольшее однозначное число.

(9)

5. У жука три пары ног. Сколько ног у жука?

(6)





# «Считалка»



1. Назовите число , в котором

3 дес. 6 ед. =

36

2 дес. 5 ед. =

25

1 дес. 8 ед. =

18

5 дес. 0 ед. =

50





# «Размышляйка»

Какое выражение лишнее?

$37-7$




30

$20+10$



30

$70-30$



40

$100-70$




30

$62-32$



30

$25+5$



30





# «Задачкина»

1. На космической станции работало 11 космонавтов, 5 космонавтов вышли в открытый космос. Сколько космонавтов осталось на станции?

(6)

2. Сияющих звезд 10, а падающих звезд на 6 больше. Сколько падающих звезд?

(16)






# Физминутка






50-24





# Тема :Вычитание вида: 50-24





Спасибо за внимание!















СТАСЯМБО!!!

