







СКОРО В ШКОЛУ

Что лишнее?






Найдите 6
различий




**Какие игрушки нарисованы?
Сколько их?**



Продолжи

«1-2-много»





Назови буквы



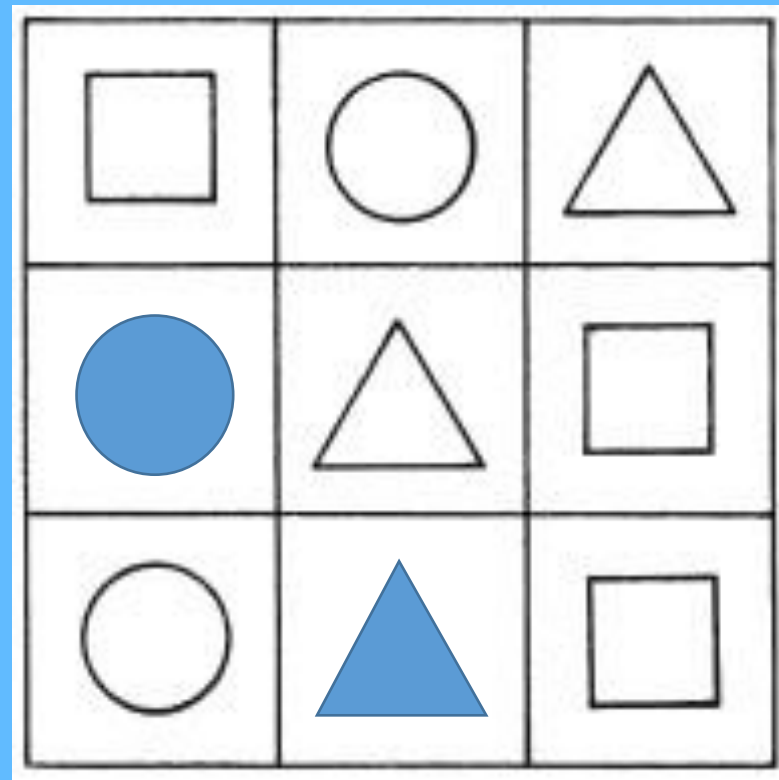
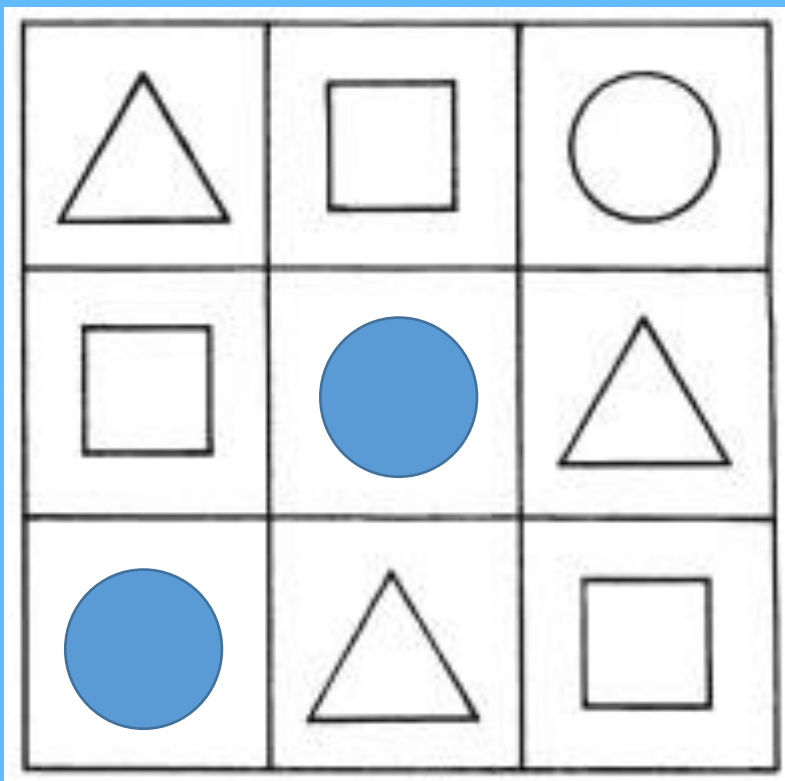
Прочитайте

мак	рак	так	сон	сын	сыр
том	сом	кот	кит	ком	рот

пот рот кот ком дом дым

мак рак так ток сок сон сын сыр

Чего не хватает?



1. Ты да я да мы с тобой. Сколько нас всего? *(Двое.)*
2. Как с помощью только одной палочки образовать на столе треугольник?
(Положить ее на угол стола.)
3. Сколько концов у палки? У двух палок? У двух с половиной? *(6.)*
4. На столе лежат в ряд 3 палочки. Как сделать среднюю крайней, не трогая, ее?
(Переложить крайнюю.)
5. Как с помощью 2 палочек образовать на столе квадрат? *(Положить их в угол стола.)*
6. Тройка лошадей пробежала 5 км. По сколько километров пробежала каждая лошадь? *(По 5 км.)*
7. Если курица стоит на одной ноге, то она весит 2 кг. Сколько будет весить курица, если будет, стоять на 2 ногах? *(2 кг.)*
8. У трех братьев по одной сестре. Сколько всего детей в семье? *(Четверо.)*
9. Надо разделить 5 яблок между 5 девочками так, чтобы одно яблоко осталось в корзине. *(Одна должна взять яблоко вместе с корзиной.)*
0. Росло 4 березы. На каждой березе по 4 большие ветки. На каждой большой ветке по 4 маленькие. На каждой маленькой ветке - по 4 яблока. Сколько всего яблок? *(Ни одного. На березах яблоки не растут.)*
1. Может ли дождь идти 2 дня подряд? *(Не может. Ночь разделяет дни.)*
2. На столе лежало 4 яблока, одно из них разрезали пополам. Сколько яблок на столе?
(4.)
3. Одного человека спросили, сколько у него детей. Ответ был такой; "У меня 6 сыновей, а у каждого есть родная сестра". *(7.)*
4. У какой фигуры нет ни начала, ни конца? *(У кольца.)*