

# Сабақтың тақырыбы:

*Сандық және әріпті өрнектер*

## **Сабақтың мақсаты:**

*Санды өрнектер және әріпті өрнектер туралы өткен білімдерін еске түсіру.*



*Екі таңбалы сандарды жазуға, оқуға дағдыландыру.*

*Есте сақтау, ойлау қабілеттерін дамыту.*



# Сабақтың барысы:



- 
- 1. Ұйымдастыру кезеңі: Сабаққа әзірлік*
    - 1. Сәлемдесу, түгендеу.*
    - 2. Оқушылардың құрал – жабдықтарын түгендеу.*
    - 3. Сабаққа назар аударту.*
- 



# Психологиялық

дайындық:

*Күндей, нұрланып,*

*Айдай арайлап.*

*Жұлдыздай жарқырап,*

*Судай таза көңілмен.*

*Бүгінгі сабағымызды бастаймыз!*

# Үй тапсырмасын тексеру.

№ 6. Өрнектерді салыстыр:

$$10+1 * 12-1$$

$$10+3 * 14-1$$

$$16-10 * 10+7$$

$$14+1 * 16-1$$

$$15-5 * 10+1$$

$$98-90 * 10-1$$

$$40+3 * 4+40$$


$$70+10 * 90-10$$

$$20-5 * 28-8$$

$$43-40 * 90-90$$

$$50+7 * 7+50$$

$$50-1 * 40+9$$



# Жаңа сабақ

## ● № 1

Өрнек түрінде жаз және оның мәнін тап.

$$20-1 \quad 70-60 \quad 90-10$$

$$90+10 \quad 70+20 \quad 80+10$$

Мұндай өрнектер сандық өрнектер деп аталады.

## № 2

Өрнек түрінде жаз және оның мәнін тап:

а- мен 8-дің, а мен 30-дың айырмасын, мұндағы

$$a=40;$$

а мен 20-ның, 20 мен а-ның қосындысын,

$$\text{мұндағы } a=30$$

Мұндай өрнектерді әріпті өрнектер деп атаймыз.

**№3. Оқы: 39 см, 50 см.**

$$39 \text{ см} = \text{см} + \text{см}$$

$$50 \text{ см} = \text{см} + \text{см}$$

$$39 \text{ см} = \text{дм} + \text{см}$$

$$50 \text{ см} = \text{дм} + \text{см}$$

$$39 \text{ см} = \text{дм} \quad \text{см}$$

$$50 \text{ см} = \text{дм} \quad \text{см}$$

**№4. Есепті шығар.**

**Спорт жарыстарына 50 бала қатысты. Бір команда 30 бала болды. Екінші командада неше бала болды? Осыған кері екі есеп құрастыр және шығар.**



# Кел, ойнайык!



$20-10$

Кезек сақта!



$30+30$



$20+10$



$80+20$



$70-40$

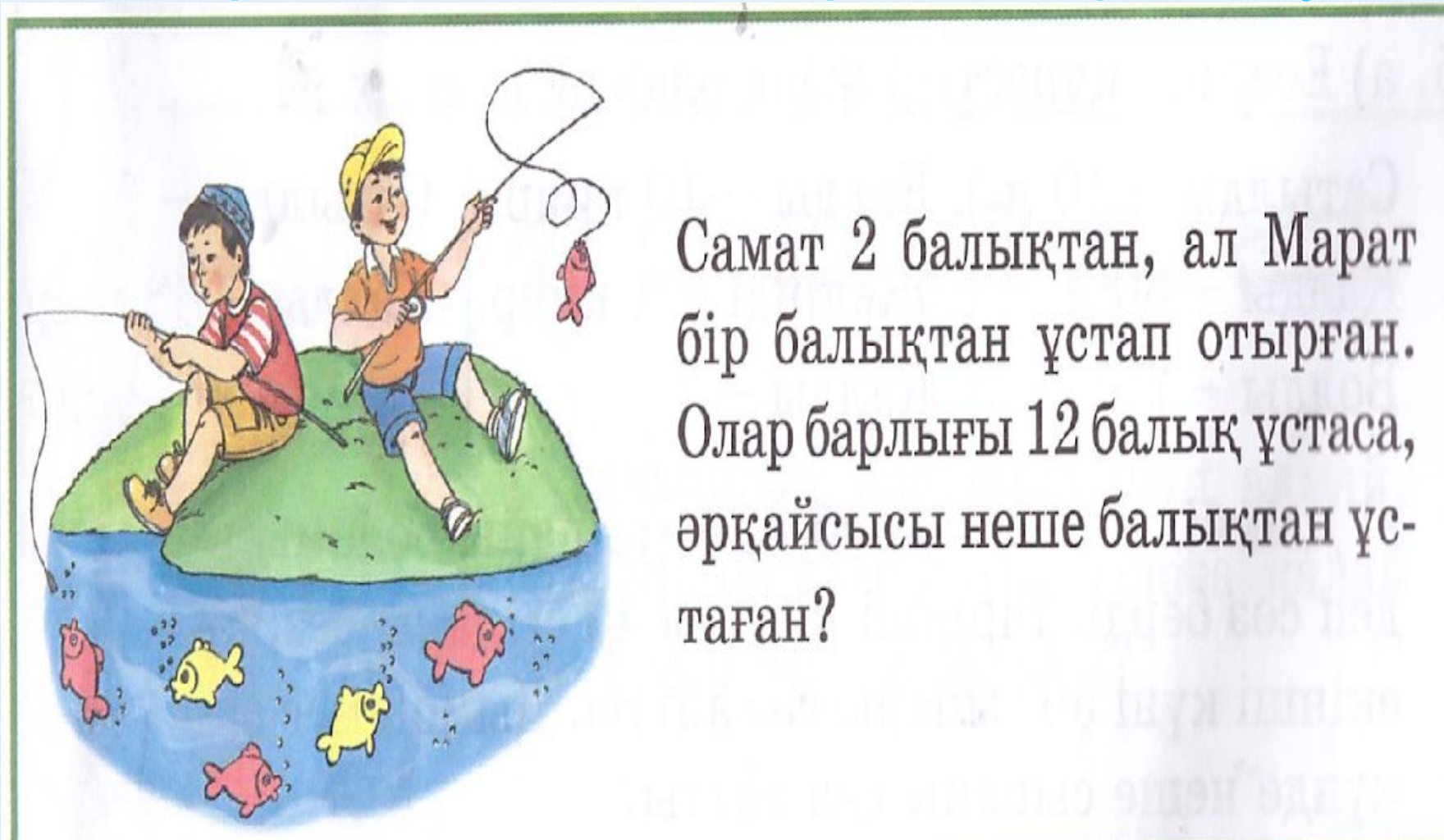


$100-50$



$30-10$

## Шығармашылық тапсырманы орындау.



Самат 2 балықтан, ал Марат бір балықтан ұстап отырған. Олар барлығы 12 балық ұстаса, әрқайсысы неше балықтан ұстаған?

*Үйге тапсырма:*

*№ 5,6 есеп*

*Бағалау.*