

**«Сделал сам –
помоги другу!»**



На какие группы можно разделить эти числа

□ 56, 4, 13, 98, 2, 9, 20, 97, 8, 50, 36, 70

Представь в виде десятков и единиц

78
^

93
^

54
^

91
^

46
^

Сделай модель данного числа

23


42

35

десятки:



единицы:



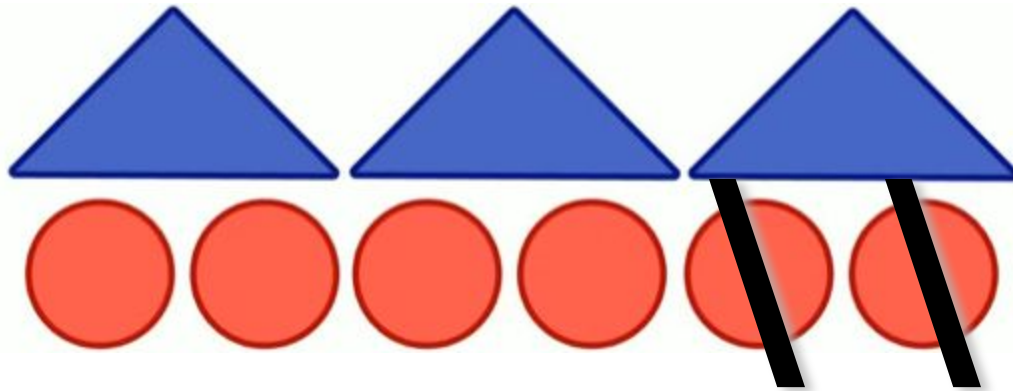
Чем похожи примеры в каждом столбике

- | | | | |
|--------------|---------|---------|----------|
| □ $40-10=30$ | $7-4=3$ | $36-2=$ | $36-20=$ |
| □ $50-30=20$ | $8-2=6$ | $86-5=$ | $86-50=$ |
| □ $70-30=40$ | $9-4=5$ | $78-6=$ | $78-60=$ |

Научимся:

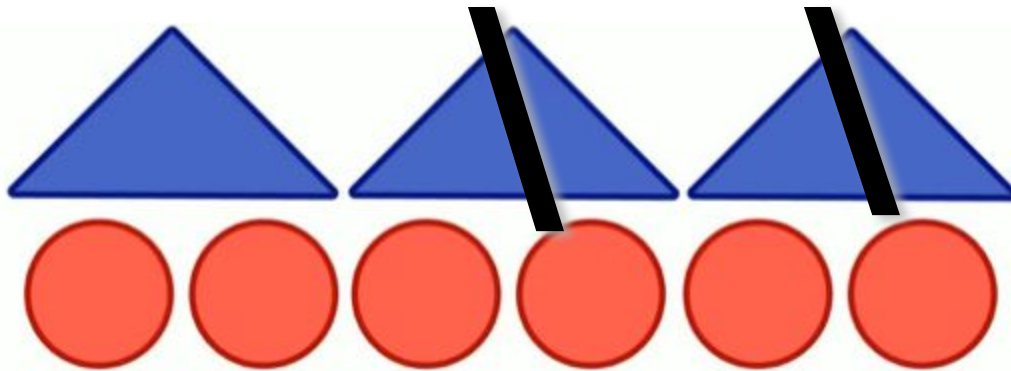
- Из двузначного числа вычитать однозначное число
- Из двузначного числа вычитать круглое двузначное число

$$36 - 2 = 34$$



Единицы вычитаем из единиц

$$36 - 20 = 16$$



Десятки вычитаем из десятков



Вывод:

□ **Единицы вычитаем из единиц**

Десятки вычитаем из десятков

-
- $40-10=30$ $7-4=3$ $36-2=34$ $36-20=16$
 - $50-30=20$ $8-2=6$ $86-5=81$ $86-50=36$
 - $70-30=40$ $9-4=5$ $78-6=72$ $78-60=18$



36-6

25-10

43+2

58+30

69-4

86-30

77-6

45+30

47-2

98-20

32+60

51+40

Работаем парами

- Страница 59, задание под чертой

Проверь!

25 72 19 26



Вывод:

□ **Единицы вычитаем из единиц**

Десятки вычитаем из десятков

**«Сделал сам –
помоги другу!»»**

