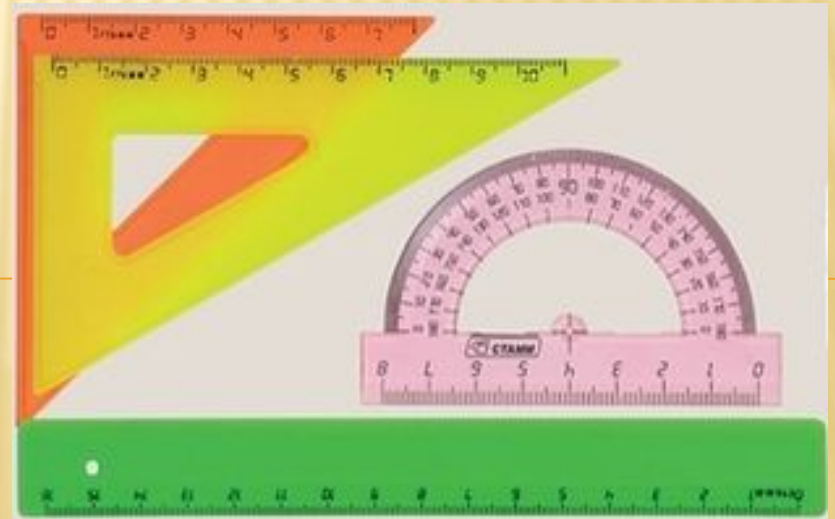



Урок математики в 1 классе

ДОБРО ПОЖАЛОВАТЬ





**Математика
нас ждет!**

Начинаем

устный счет!

Устный счёт

Уменьшаемое	10		9	8	7
Вычитаемое	4	6	3		
Разность		0		2	1

Будь внимателен!

В саду росли 2 березы, 4 яблони, 5 вишен. Сколько всего фруктовых деревьев росло в саду?


Сестре 9 лет, брату 3 года. На сколько сестра будет старше брата через пять лет?

Проверка:

В саду росло 9
фруктовых деревьев
(4 яблони и 5 вишен).

Сестра всегда будет
старше брата
на 5 лет.

Логическая задача



**Угадайте, в какой клетке живёт каждый зверь,
если в 12-й клетке живёт лев,
слева от него – бегемот, а справа слон?**


Проверь себя!



1



12



13

¹
**Сколько десятков и единиц
в каждом из этих чисел?**

Арифметический диктант

1 дес. 7 ед. =

1 дес. 2 ед. =

1 дес. 5 ед. =

1 дес. 9 ед. =

1 дес. 1 ед. =

1 дес. 8 ед. =

1 дес. 4 ед. =

2 дес. 0 ед. =

**1. Папа держал чемодан,
масса которого 11 _____**

**2. В ведро вмещается
воды 10**

**3. Ученик начертил
в тетради отрезок
длиной 1**

17

12

15

19

11

18

14

2

0

м

е

и

т

д

е

ц

р

11

12

14

15

17

18

19

20

д

е

ц

и

м

е

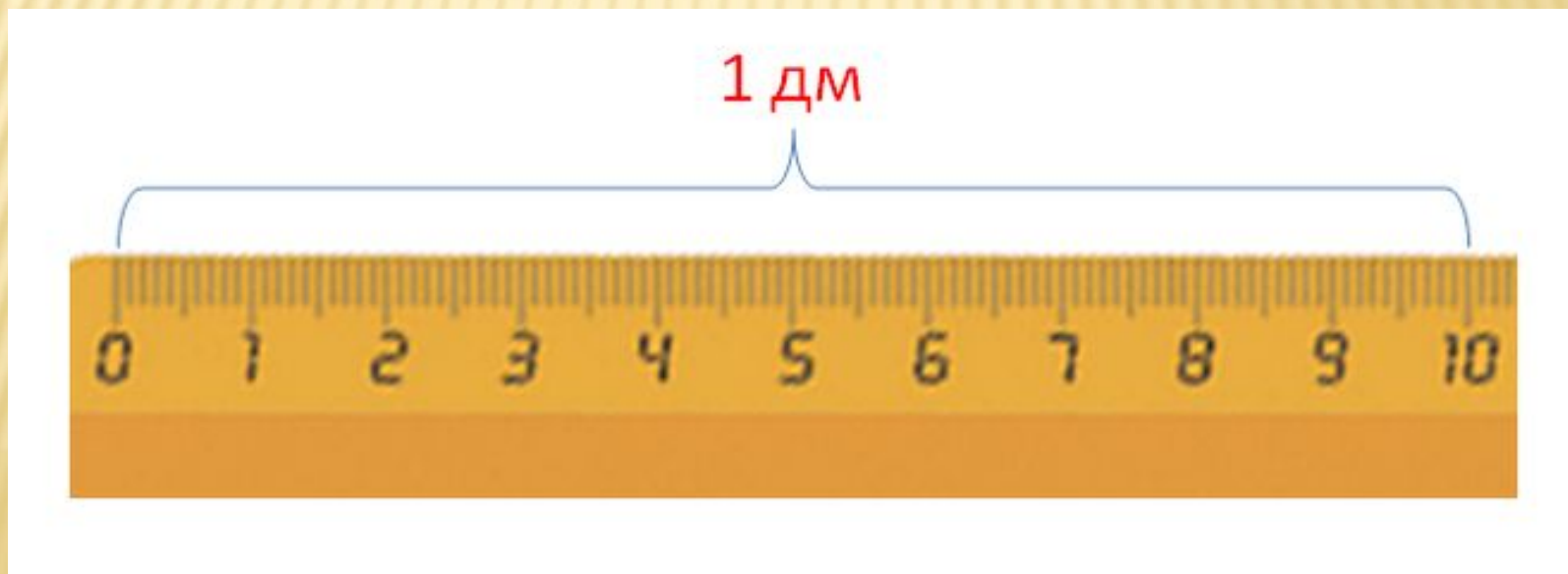
т

р

Что такое дециметр?

$$10 \text{ см} = 1 \text{ дм}$$

$$1 \text{ дм} = 10 \text{ см}$$



Физкультминутка



Проверка

длина отрезка

$$12 \text{ см} = 1 \text{ дм } 2 \text{ см}$$

Проверка

$$1 \text{ дм} = 10 \text{ см}$$

$$1 \text{ дм} + 4 \text{ дм} > 10 \text{ см}$$

$$1 \text{ дм} > 9 \text{ см}$$

$$1 \text{ дм} + 1 \text{ см} > 10 \text{ см}$$

$$1 \text{ дм} > 1 \text{ см}$$

$$1 \text{ дм} + 1 \text{ см} < 2 \text{ дм}$$

Ура!

Физкультминутка!



Итог урока:

Что нового узнали на уроке?

Что повторили на уроке?

СПАСИБО ЗА РАБОТУ!

