


Составитель: учитель
начальных классов
Медведева Татьяна Васильевна

ЧАС ВЕСЁЛОЙ



МАТЕМАТИКИ




Цели:

- 1 .Способствовать обогащению знаний в области математики;**
- 2. Формировать положительную мотивацию учения;**
- 3. Развивать мышление, речь, память, творческие способности, интерес к предмету.**

ДОРОГУ ОСИЛИТ
ИДУЩИЙ,
А МАТЕМАТИКУ –
МЫСЛЯЩИЙ!

Викторину открываю,
Всем успехов я желаю,
Думать, мыслить, не
зевать,
Быстро всё в уме считать!



Викторина

1. Назовите «математические» растения.

Столетник, тысячелистник

2. Какую математическую фигуру украшают бриллиантами?

Кольцо

3. Какие геометрические фигуры дружат с солнцем?

Лучи

4. Без чего не могут обойтись барабанщики и математики?

Без дроби

Реши ребус

igraza.ru

И100'зЯ

igraza.ru

igraza.ru

igraza.ru



□ Что нужно брать с героев, а также со всех честных, добрых, и порядочных людей?

- 1) Задачу
- 2) Пример
- 3) Наказ
- 4) Сдачу



Что выкидывает человек, совершая какой - нибудь странный, смешной поступок?

1. Цифру
2. Число
3. Номер
4. Монету



Что появляется под глазами усталого человека?

1. Углы
2. Круги
3. Овалы
4. Морщины



Каким бывает и дурак, и отличник, и сирота?

1. Квадратный
2. Круглый
3. Овальный
4. Казанский



Как заканчивается пословица: «Ясно, как... »?

1. Дважды два
2. Трижды три
3. Пятью пять
4. семью семь



Какая фигура нужна для наказания?

1. Круг
2. Квадрат
3. Угол
4. Ромб



Математические бусы

Из разных цифр я сделал бусы

И в тех кружках, где чисел нет

Расставьте минусы и плюсы

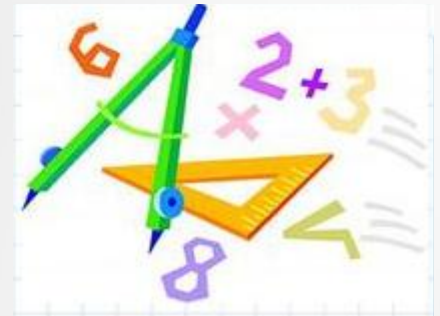

Чтоб данный получить ответ.

$$44 \circ 15 \circ 13 \circ 7 = 23$$

$$86 \circ 45 \circ 34 \circ 3 = 78$$

Будь внимательным!

Сколько на чертеже различных треугольников?



Стоит в поле дуб, а на дубе 8 веток. На каждой ветке по 2 крупные сладкие сливы. Сколько слив ты можешь собрать?

Сливы на дубе растут? 😊

Один ослик нёс 10 кг сахара, а другой – 10 кг ваты. У кого поклажа была тяжелее?

одинаковая

Сколько лет рыбачил старик из « Сказки о рыбаке и рыбке » прежде, чем ему попалась рыбка?

30 лет и 3 года

Числа в сказках

Сколько собак увидел солдат в сказке «Огниво»?

Три

Сколько историй рассказано Андерсеном в сказке «Снежная королева»?


Семь

Сколько козлят съел волк в русской народной сказке?

Шесть

Сколько богатырей вышло из моря в «Сказке о царе Салтане»?

Тридцать три



Сказочный конкурс

- **Вспомните название сказок, где есть использование чисел.**

«Белоснежка и семь гномов»

МОЛОДЦЫ!

«Математику уж затем учить надо, что она ум
в порядок приводит».

(М.В Ломоносов)

