

# Математика

# Тема: Дробь



Козлова Т.А.  
Школа «Елена-Сервис»

**ПРОДОЛЖИ РЯД ЧИСЕЛ:**

**• 205, 210, 215...**

**• 900, 890, 880...**

**• 630, 650, 670 ...**

**ЗАПИСАТЬ ОТВЕТ:**

**•  $200+10+5=$        $400+35=$**

**•  $475-70=$                        $842-800=$**

**•  $340+9=$                                $835-30=$**

**•  $567-500=$                                $243+20=$**

$$x + y = 200$$

<b>x</b>	<b>150</b>	<b>120</b>	<b>140</b>	<b>197</b>
<b>y</b>	<b>50</b>	<b>80</b>	<b>70</b>	<b>3</b>

$$x - y = 20$$

<b>x</b>	<b>150</b>	<b>120</b>	<b>326</b>	<b>400</b>
<b>y</b>	<b>130</b>	<b>101</b>	<b>306</b>	<b>200</b>

$$x \cdot y = 750$$

<b>x</b>	<b>370</b>	<b>250</b>	<b>120</b>	<b>150</b>
<b>y</b>	<b>2</b>	<b>3</b>	<b>4</b>	<b>5</b>

$$x : y = 40$$

<b>x</b>	<b>120</b>	<b>240</b>	<b>200</b>	<b>160</b>
<b>y</b>	<b>3</b>	<b>6</b>	<b>5</b>	<b>4</b>

***ДРОБИ***

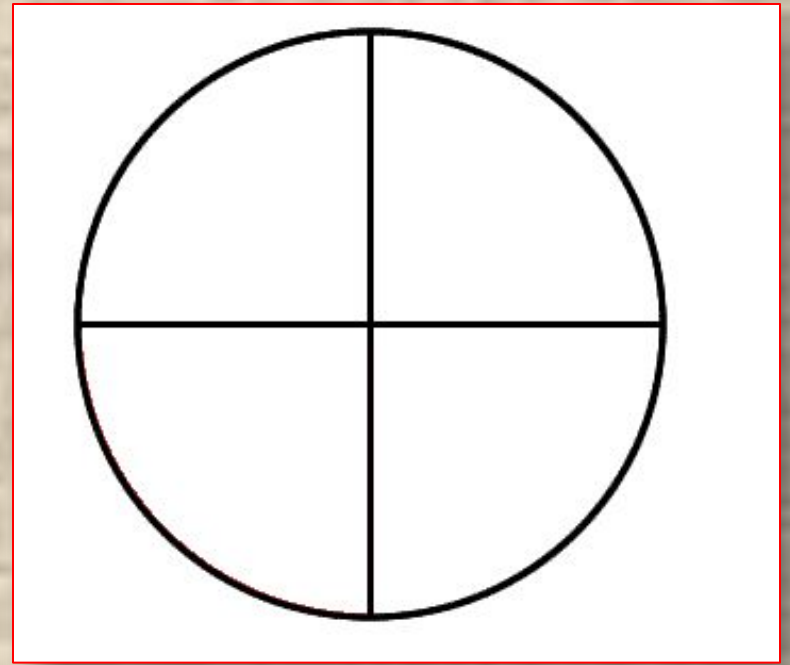
***НАХОЖДЕНИЕ***

***ЧАСТИ ОТ ЧИСЛА.***



---

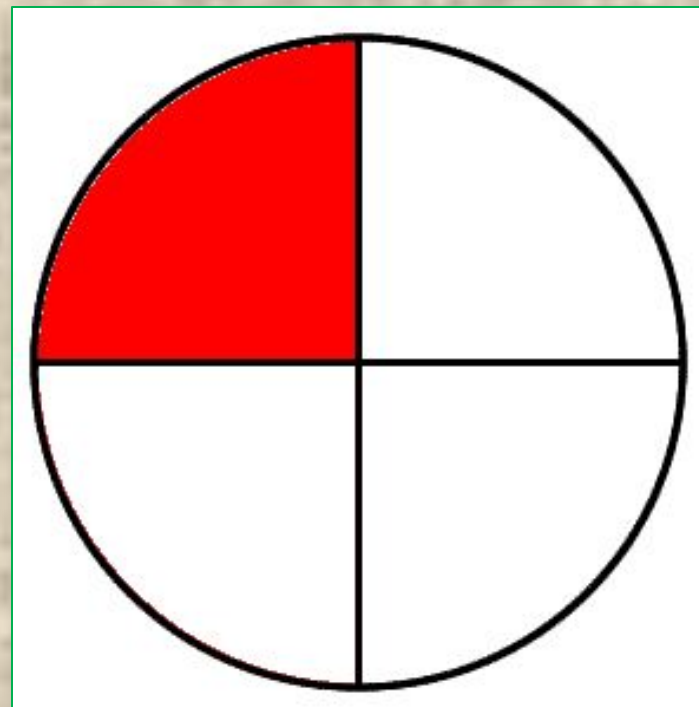

***b***



**Знаменатель**

**Число,  
показывающее на  
сколько РАВНЫХ  
частей разделили**

$$\frac{a}{b}$$



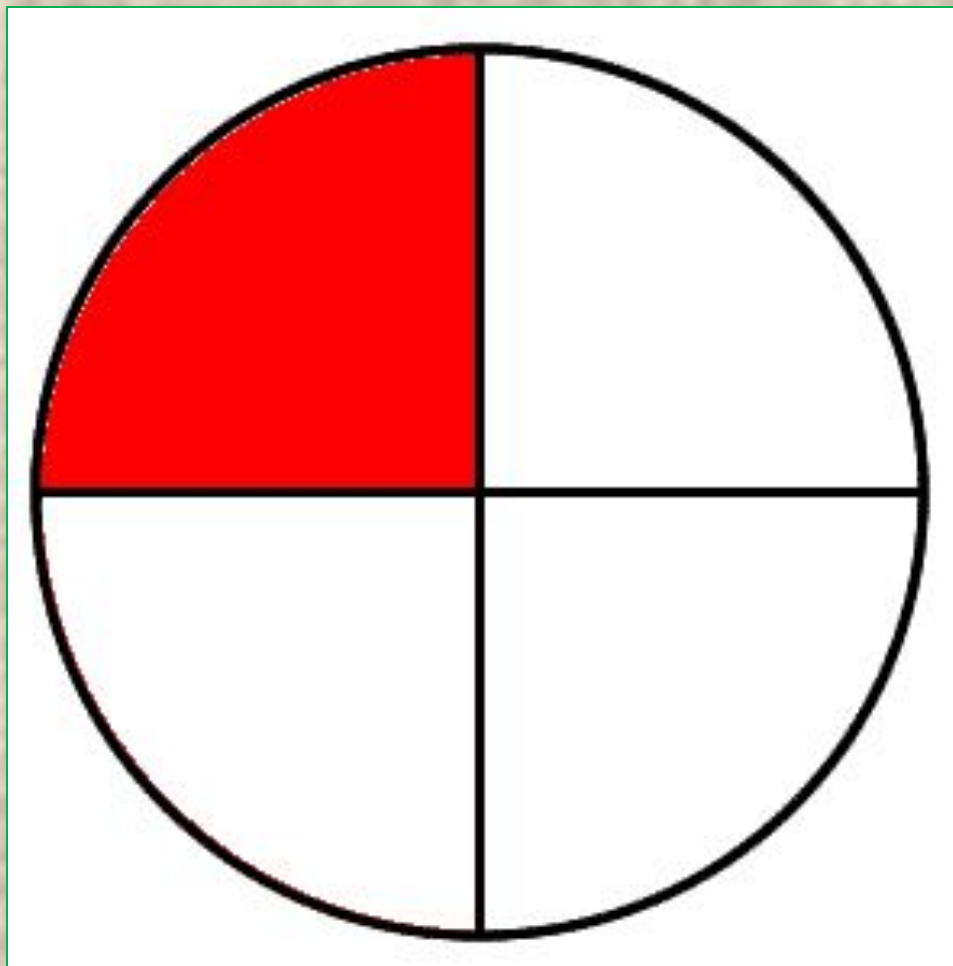
**Числитель**

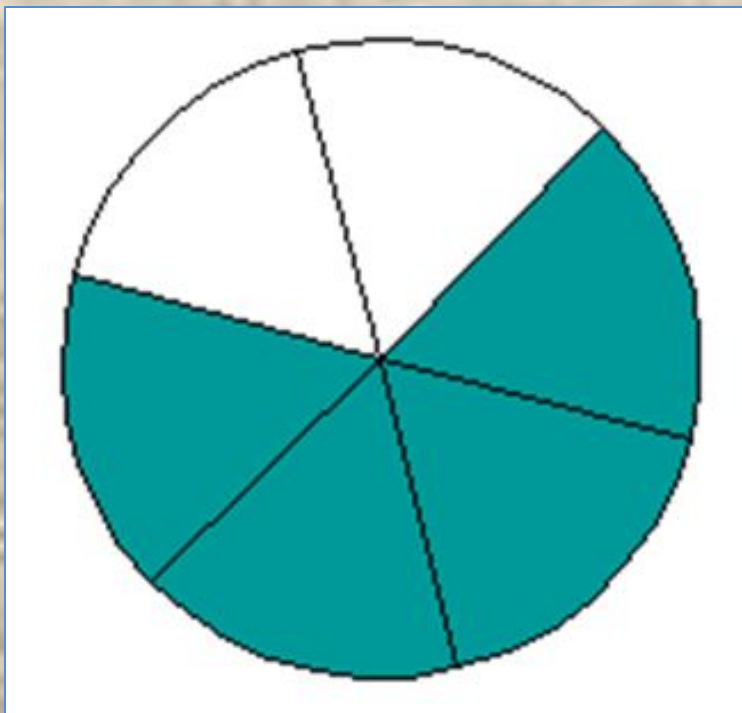
**Число,  
показывающее  
сколько частей  
взяли**

**1**

---

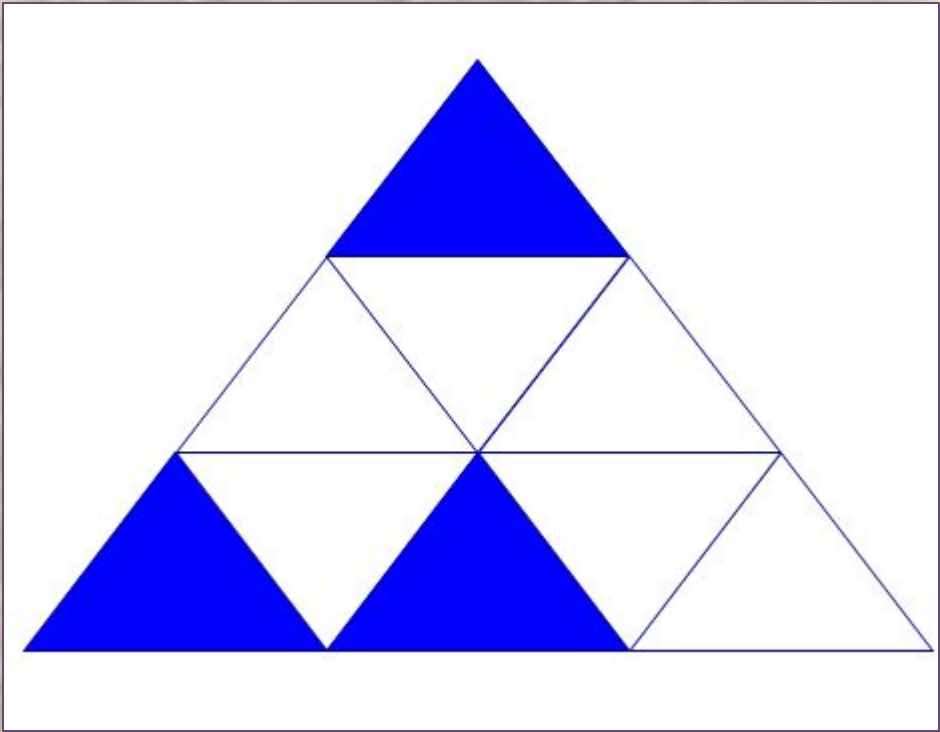
**4**

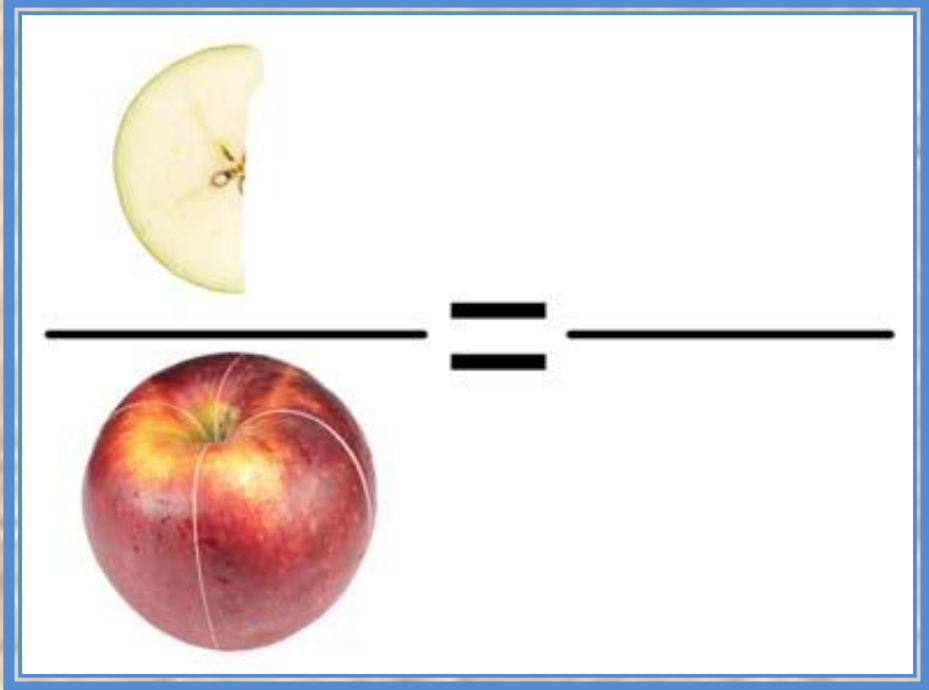
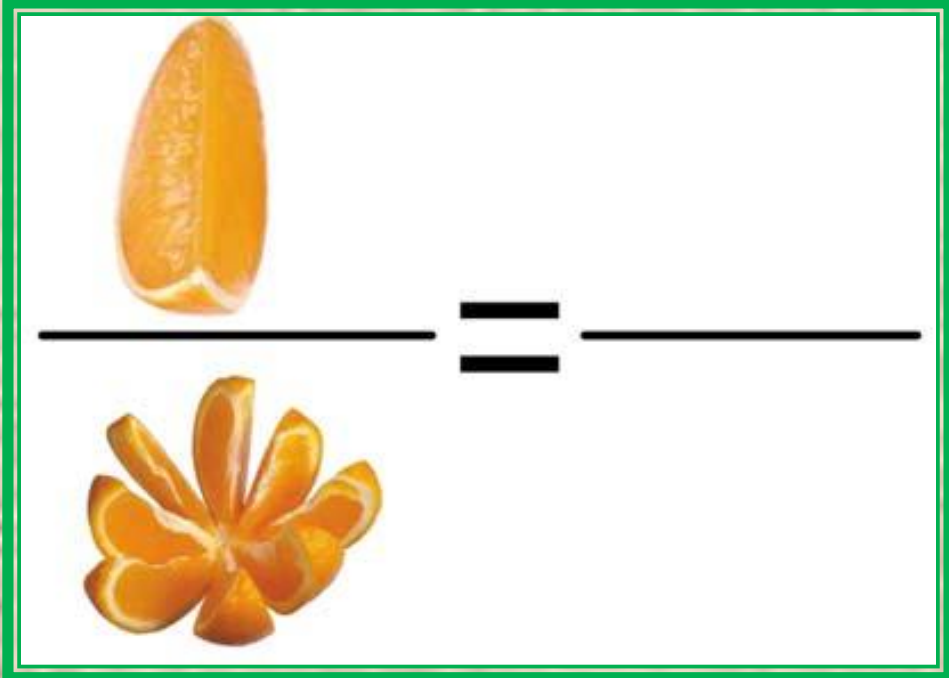




*Ответ:*  $\frac{4}{6}$

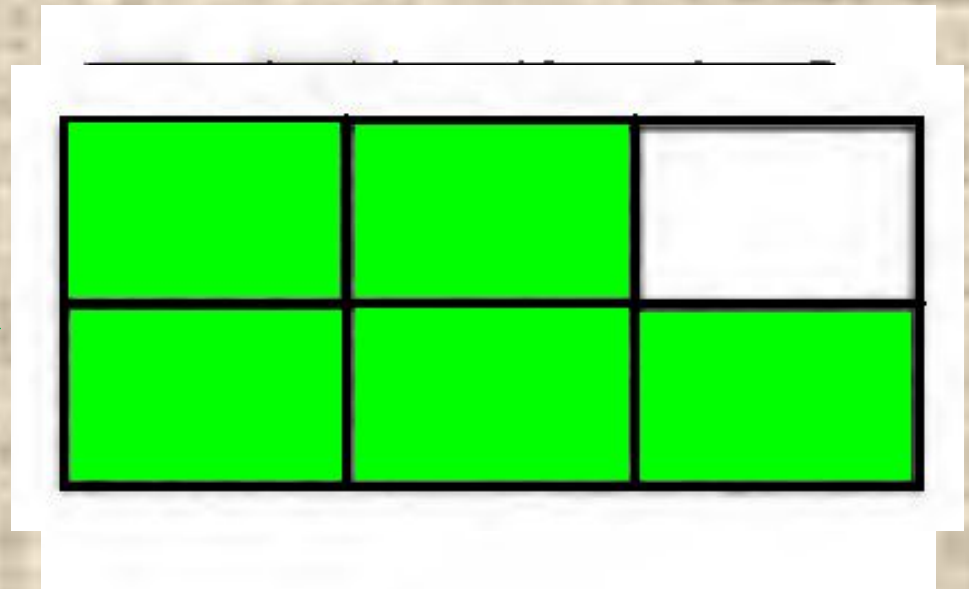

*Ответ:*  $\frac{3}{9}$



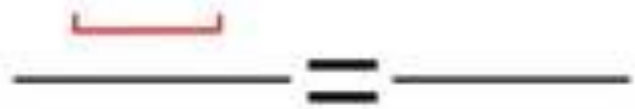


**НАЧЕРТИТЕ  
ПРЯМОУГОЛЬНИК,  
СООТВЕТСТВУЮЩИЙ  
ДРОБИ**

$$\frac{5}{6}$$



I



II

