


# Состязание № 2

**Сколько прямоугольников на этом рисунке?**



**3**

**2**

**1**


**Всего:  $3+2+1=6$  штук**

**Сколько раз понадобится  
цифра 4, чтобы записать числа  
от 1 до 100?**

**4, 14, 24, 34, 40, 41, 42, 43, 44, 45,  
46, 47, 48, 49, 54, 64, 74, 84, 94**

**Всего 20 раз.**

**Расставь 5 стульев вдоль стен  
прямоугольной комнаты, чтобы  
у каждой стенки оказалось  
по 2 стула**





# Разгадай анаграммы и найди лишнее слово

ААЛТЕРК

ТАРЕЛКА

КОЖАЛ

ЛОЖКА

ДМОНЧЕА

ЧЕМОДАН

ШКААЧ

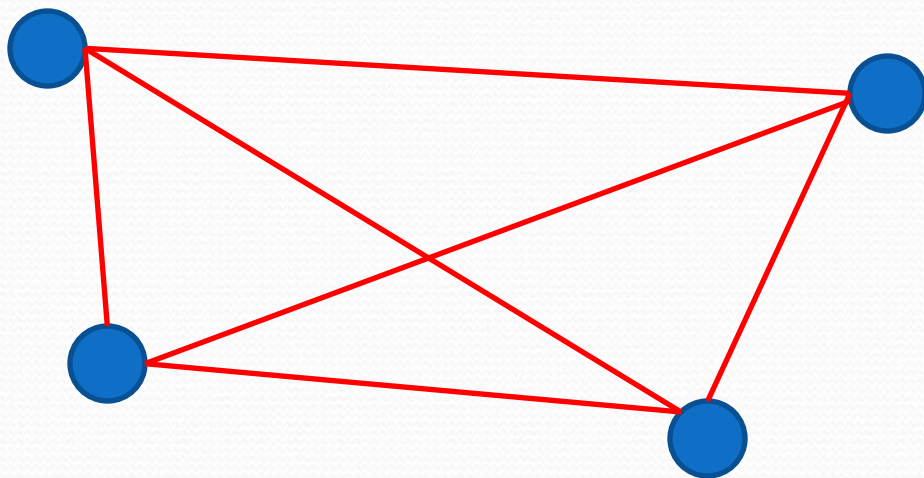
ЧАШКА

Лишнее слово - ЧЕМОДАН

**Встретились 4 человека.**

**Каждый каждому пожал руку.**

**Сколько всего получилось рукопожатий?**



**3**

**2**

**1**

**Всего 6**

**Разделить эту фигуру на 4  
равные части**

