

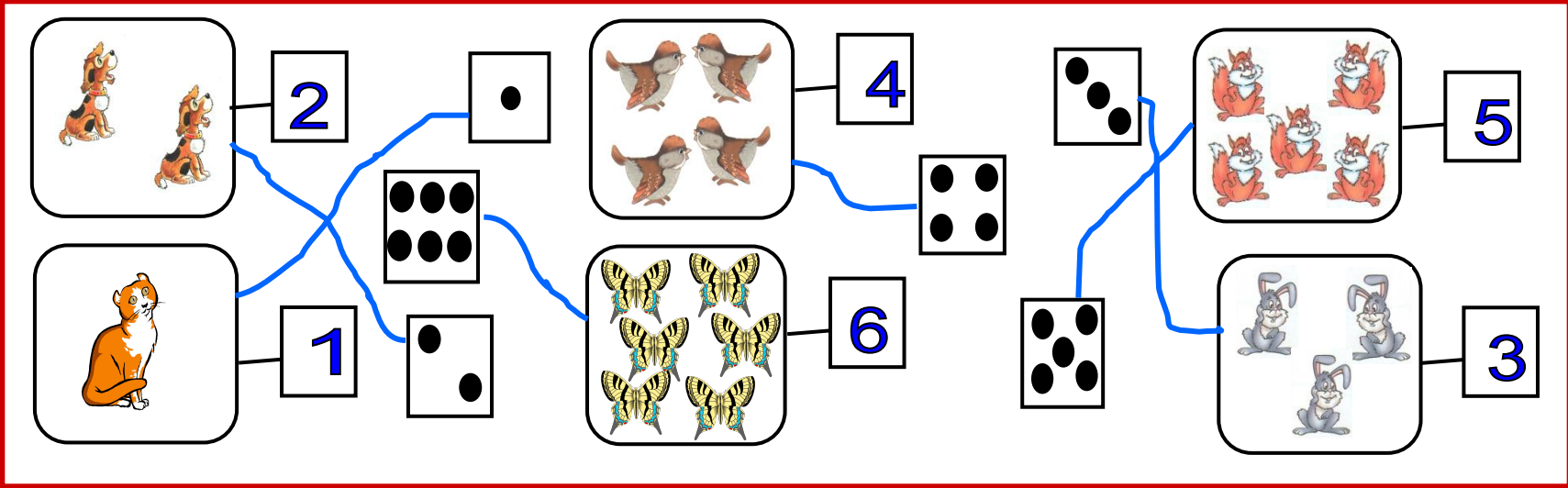


Число и цифра 7

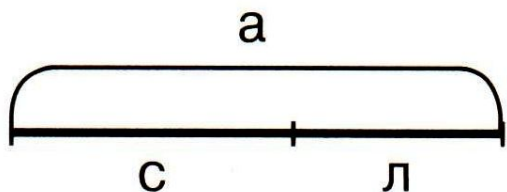
Якишина Татьяна Викторовна
учитель начальных классов

Без терпенья нет ученья!





1 На какие части разбит отрезок **а**? Допиши равенства.



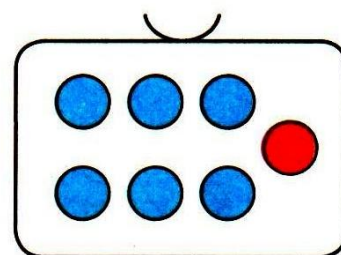
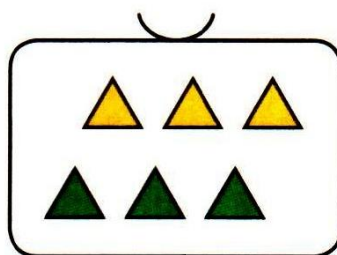

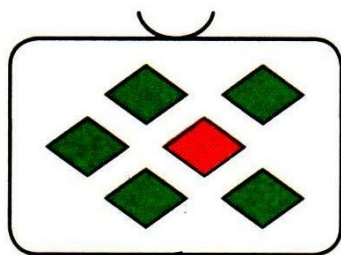
$$с + л = а$$

$$а - с = л$$

$$л + с = а$$

$$а - л = с$$

2 а) Подбери выражения и проведи линии.



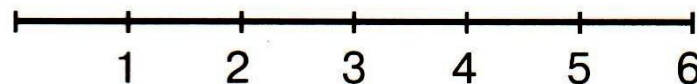
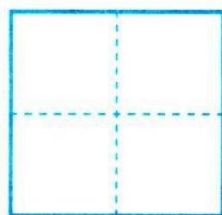
$$3 + 3$$

$$1 + 5$$

$$2 + 4$$

$$6 + 1$$

б) Запиши число $6 + 1$ с помощью точек и с помощью цифры, затем отметь его на числовом отрезке.




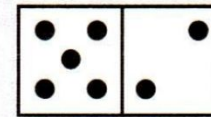
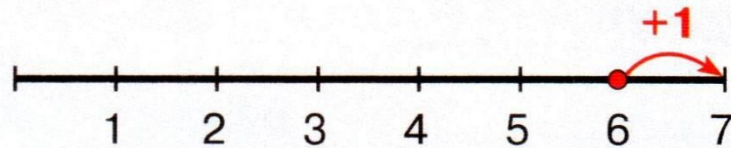
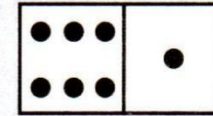

Что ты пока не знаешь? Поставь перед собой учебную **цель**. Составь и запиши символами **план**:

1.



2.

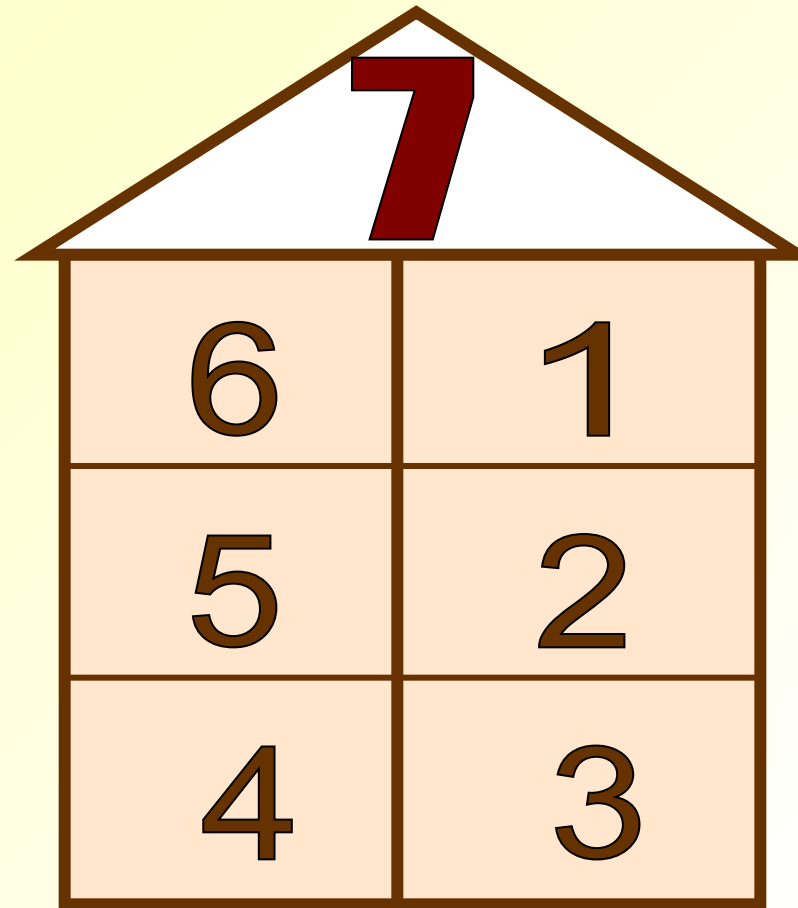

3.

4.

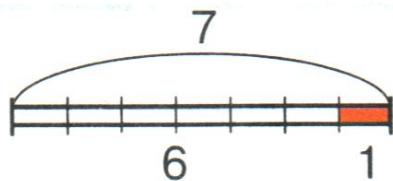


б) Запиши число $6 + 1$ с помощью точек и с помощью цифры, затем отметь его на числовом отрезке.





1

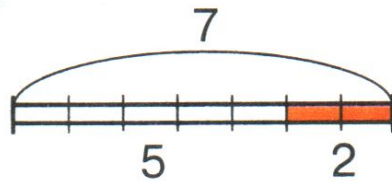


$$6 + 1 = 7$$

$$1 + 6 = 7$$

$$7 - 6 = 1$$

$$7 - 1 = 6$$

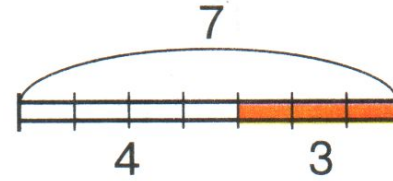


$$5 + 2 = 7$$

$$2 + 5 = 7$$

$$7 - 2 = 5$$

$$7 - 5 = 2$$



$$4 + 3 = 7$$

$$3 + 4 = 7$$

$$7 - 4 = 3$$

$$7 - 3 = 4$$

4 Обозначь числа точками и сравни. На сколько больше? На сколько меньше?

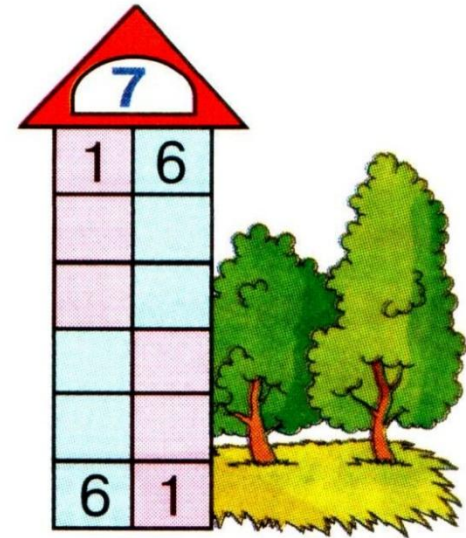
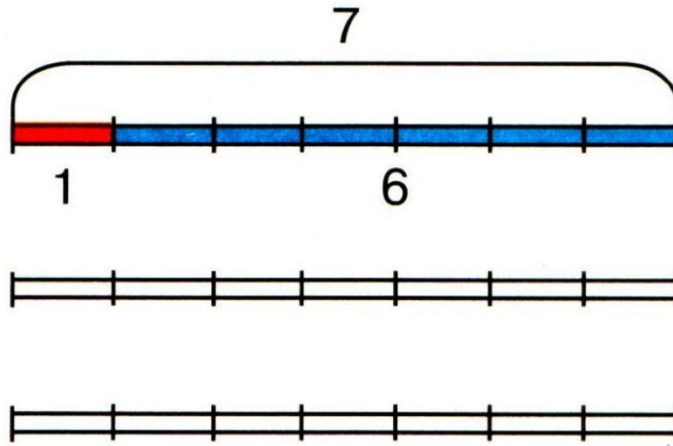
2 7

7 7

7 4

Как можно сравнить эти числа с помощью числового отрезка?

- 5 Раскрась полоски и заполни домик числа 7. На каких этажах живут одинаковые числа? Что при этом изменяется?



- 6 Заполни пропуски.

$$\square + 2 = 7$$

$$1 + \square = 7$$


$$\square + 4 = 7$$

$$5 + \square = 7$$

7 На числовом отрезке выполни действия. Запиши ответ.



$$5 + 2 - 3 = \square$$



$$7 - 4 + 1 = \square$$

8* Составь примеры на вычитание и найди ответы.

~~МЕЛОДИЯ~~

$$\square - \square = \square$$

~~УДАРНИК~~

$$\square - \square = \square$$

~~НАДЕЖДА~~

$$\square - \square = \square$$

