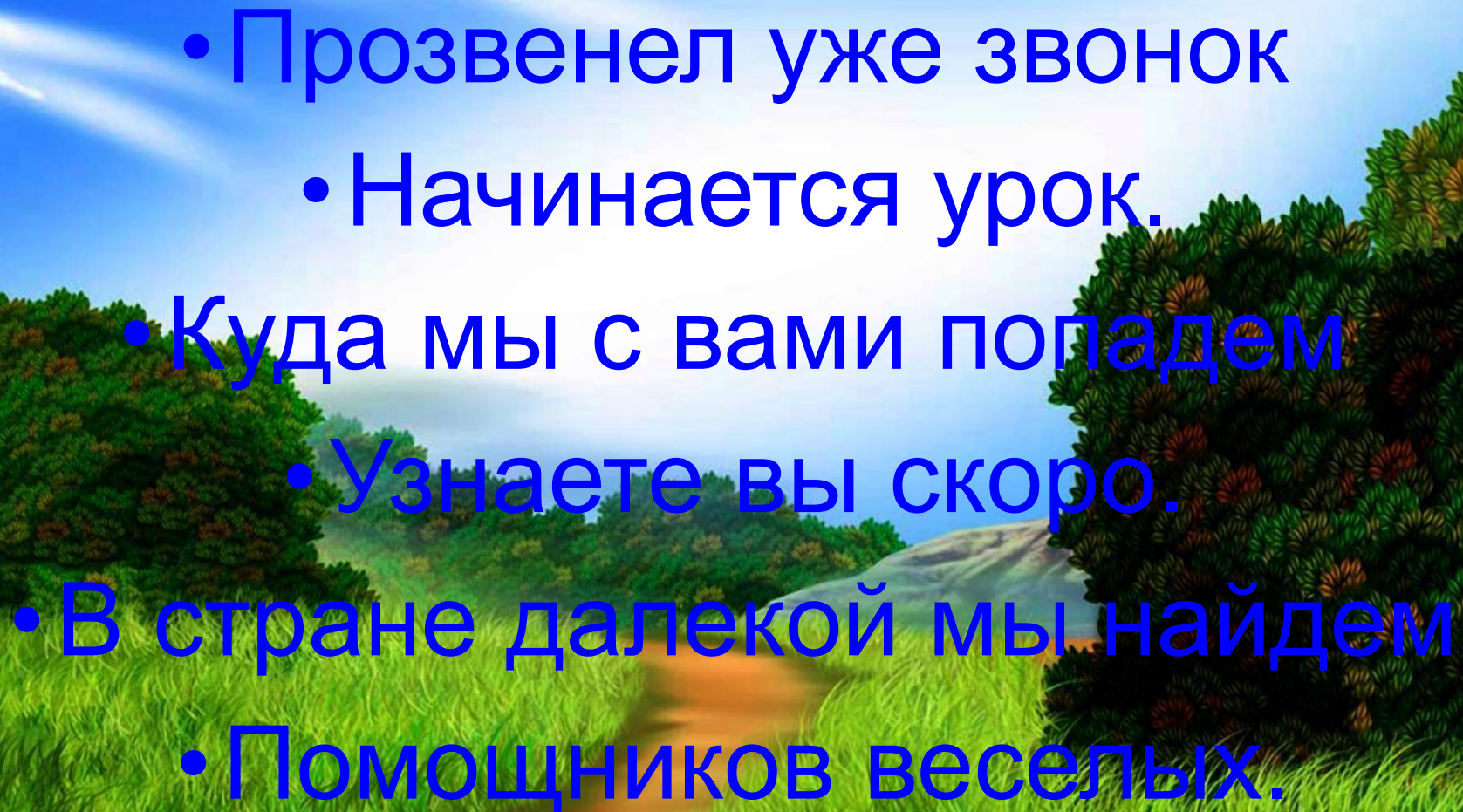


Математика 1 класс

УРОК-ПУТЕШЕСТВИЕ



Подготовил учитель
нач.классов Якубова
Гулиша М-ариповна.


- 
- Прозвенел уже звонок
 - Начинается урок.
 - Куда мы с вами попадем
 - Узнаете вы скоро.
 - В стране далекой мы найдем
 - Помощников веселых.





Замок колдуна





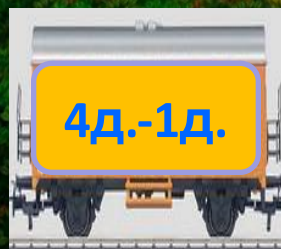
1

2


3

4

5



В добрый путь!





*«Заблудилось» число.
Найди его место
в натуральном ряду чисел.*

1 2 3 4 5 6 9 8 7 10

1 2 3 4 5 6 7 8 9 10

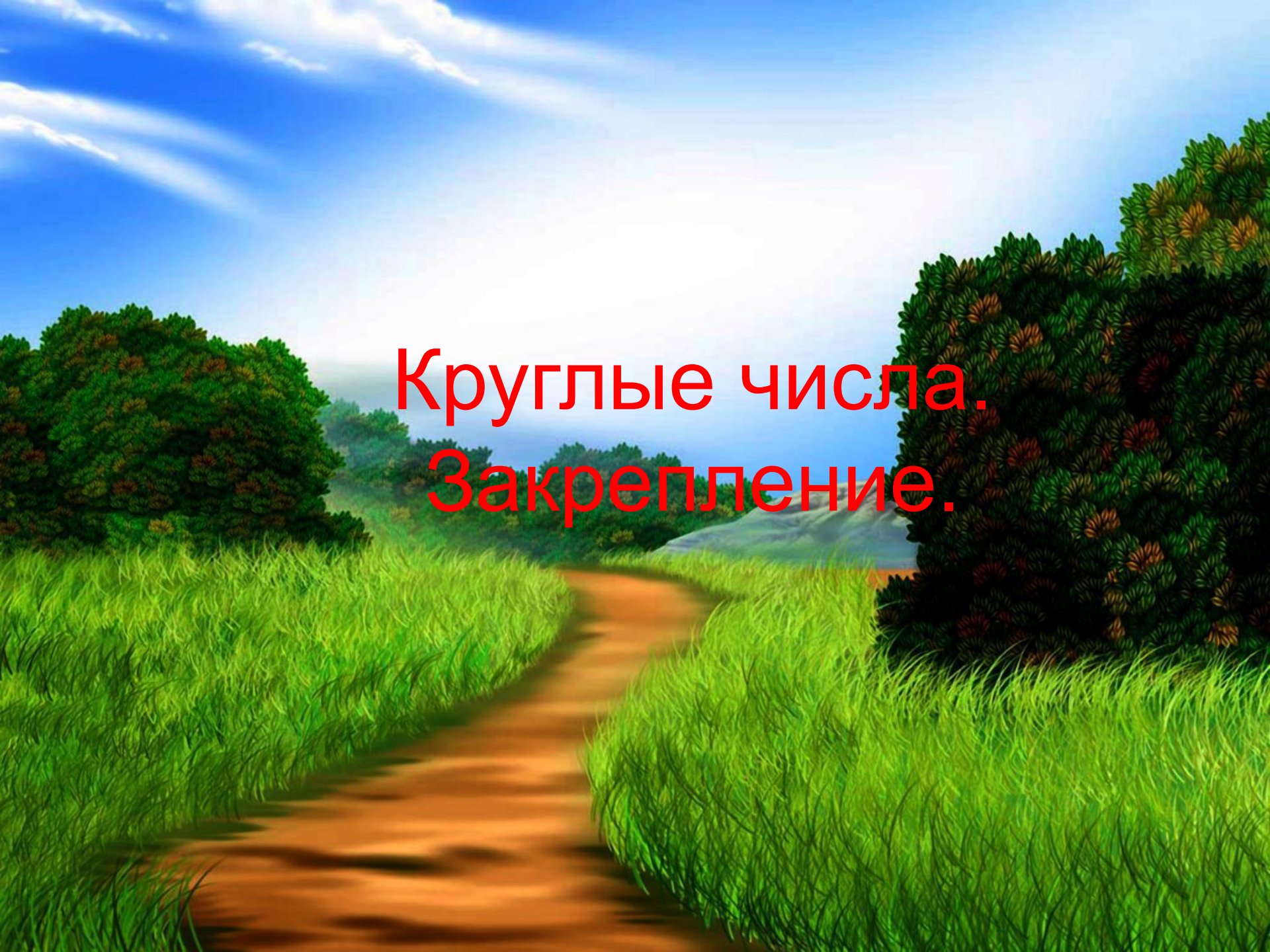
Прочитай числа:

2, 20, 3, 8, 40, 60, 0, 7, 80.


Сколько всего записано чисел?

Сколько однозначных чисел?

Сколько двузначных?

A vibrant landscape featuring a dirt path that curves through tall, green grass. In the background, there are rolling hills and a bright blue sky with wispy white clouds. The scene is framed by large, dark green bushes on both sides. The text "Круглые числа. Закрепление." is overlaid in the center in a bold, red font.

Круглые числа.
Закрепление.





Написание числа



***Сколько десятков содержит
каждое из чисел***

40, 50, 70, 60, 20, 10, 90.

Расположи числа в порядке возрастания.

№ 3 с. 81.

10, 20, 40, 50, 60, 70, 90.

Молодцы!
Поехали дальше.

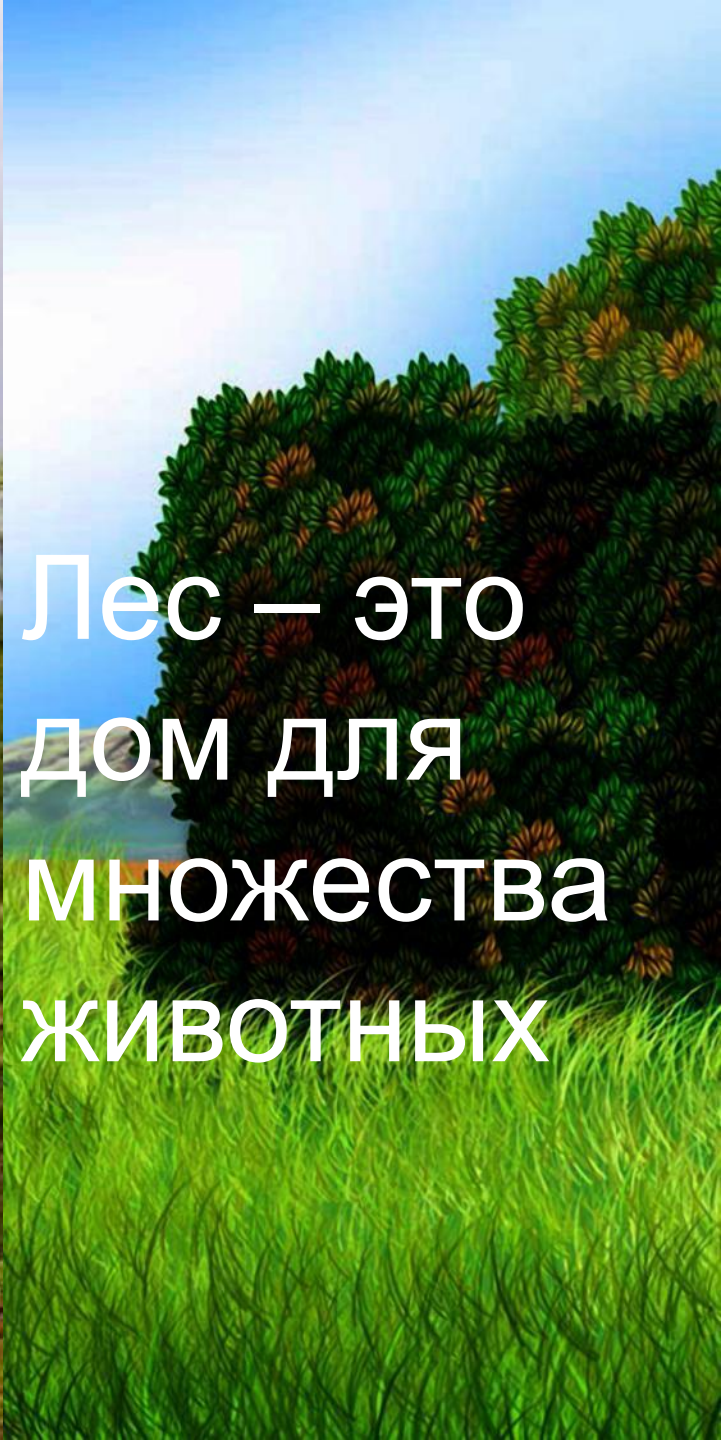




Art by AI

Правила поведения в лесу.





Лес – это
ДОМ ДЛЯ
МНОЖЕСТВА
ЖИВОТНЫХ



Здесь живут

медведь



заяц

firsova



COBA



ёжик

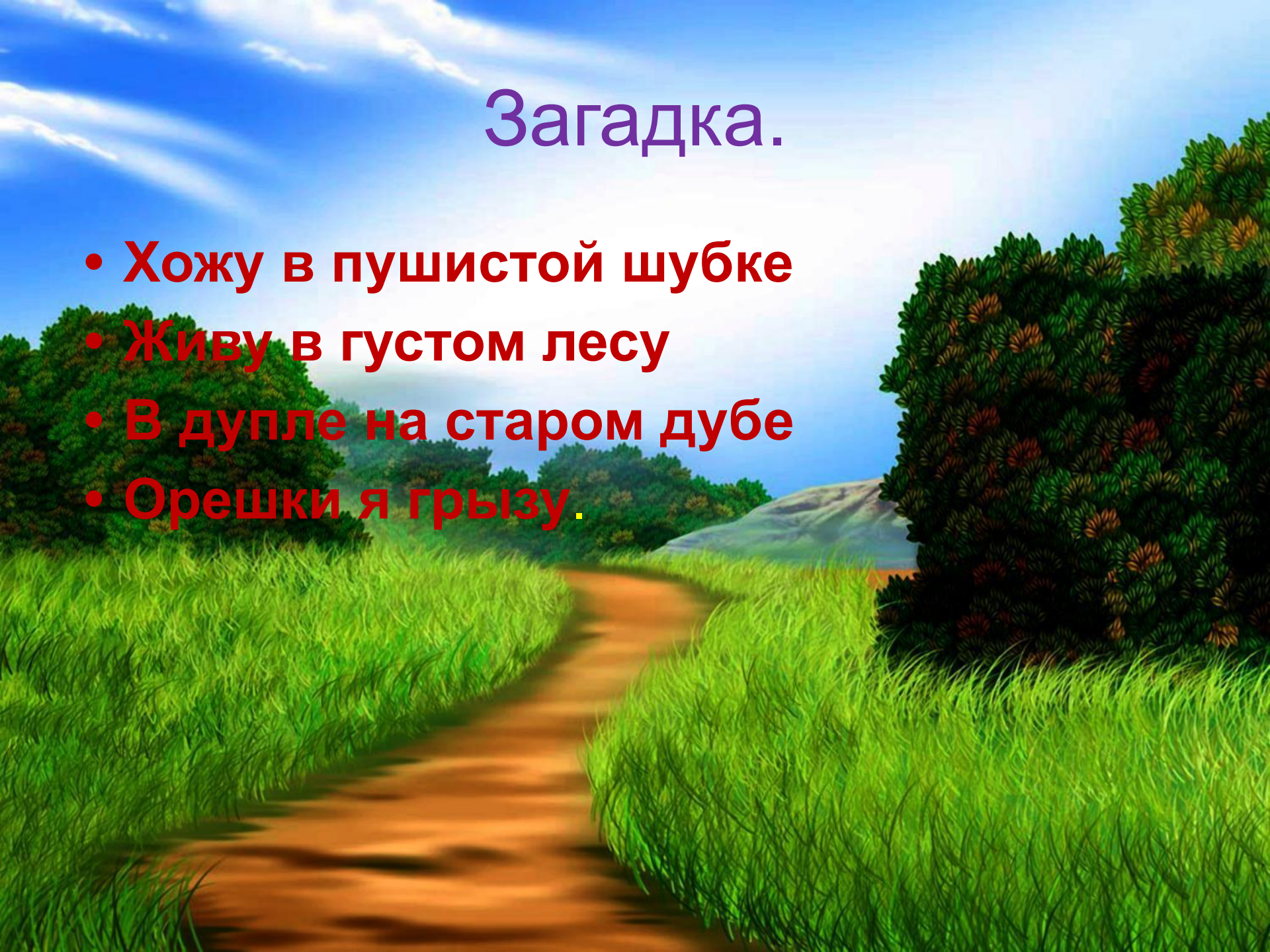
firsova



дятел

Загадка.


- **Хожу в пушистой шубке**
- **Живу в густом лесу**
- **В дупле на старом дубе**
- **Орешки я грызу.**



Поможем белочке собрать шишки?



Геометрический материал



Веселая физминутка.



The image features three cheerful cartoon rabbits running along a dirt path in a lush, green forest. The rabbits are white with pink inner ears, wearing blue shorts and black headbands. They are positioned in a line, with the largest rabbit in the foreground and two smaller ones behind it. The background shows dense green foliage, a blue sky with light clouds, and a distant mountain range. A white, scroll-like banner is draped across the top of the scene, containing the text 'Шагаем на месте.' in green, bold, sans-serif font. The banner is decorated with green leaves and yellow catkins.

Шагаем на месте.



Прыгаем.



Молодцы!!!

Озеро новых задач. Задача № 6 с. 81.

- **Жаба за час съедает 80 комариков, а её сын-на 2 десятка меньше. Сколько комариков съедает за час сын жабы?**



Озеро новых задач.

Задача № 6.

Жаба - 80 к.

Сын - ? На 2 д. <

$80 - 20 = 60$ (к.)

Ответ: 60 комариков съедает за час

сын жабы.



Деревня «Тренируйся-закрепляй»

1 уровень.

1. $1\text{д.} + 1\text{д.} =$

$2\text{д.} + 1\text{д.} =$

2. «>», «<», «=» .

10...10

20...10

2 уровень.

$3\text{д.} + 2\text{д.} =$

$4\text{д.} - 3\text{д.} =$

20...30

40...50

3 уровень.

$2\text{д.} + 2\text{д.} + 1\text{д.} =$

$5\text{д.} - 4\text{д.} + 1\text{д.} =$

50...30+10

20+10...40-20

Спасибо, ребята!



ОЦЕНИ СВОЮ РАБОТУ



ОТЛИЧНО



НЕ ОЧЕНЬ



ПЛОХО



Спасибо
за урок!

