

<b>н</b>	<b>е</b>	<b>ч</b>	<b>ы</b>	<b>и</b>	<b>и</b>	<b>в</b>	<b>л</b>

<b>в</b>	<b>е</b>	<b>л</b>	<b>и</b>	<b>ч</b>	<b>и</b>	<b>н</b>	<b>ы</b>
<b>2</b>	<b>9</b>	<b>15</b>	<b>29</b>	<b>60</b>	<b>300</b>	<b>1000</b>	<b>1600</b>

# НАЙДИ «ЛИШНЕЕ» В КАЖДОМ СТОЛБИКЕ

длина

СМ

ВКУС

КГ

масса

КМ

площадь

ДМ

объем


ММ




# ПРЕОБРАЗУЙ

$$2 \text{ км } 400 \text{ м} = \boxed{2400} \text{ м}$$

$$6 \text{ ч } 30 \text{ мин} = \boxed{390} \text{ мин}$$




# СРАВНИ

8 ц  80 кг

800 кг  80 кг

17 м  170 дм

170 дм  170 дм



# ВЫЧИСЛИ

$$125 \text{ см} - 105 \text{ см} = 20 \text{ см}$$

$$29 \text{ кв. м} + 11 \text{ кв. м} = 40 \text{ кв. м}$$

$$45 \text{ кг} + 5671 \text{ г} = ?$$



**Цель: научиться  
складывать и вычитать  
величины с разными  
единицами измерения**



1. ЗАМЕНИЮ КРУПНЫЕ ЕДИНИЦЫ МЕЛКИМИ.
2. ВЫПОЛНЮ ДЕЙСТВИЕ СТОЛБИКОМ.
3. ЗАМЕНИЮ МЕЛКИЕ ЕДИНИЦЫ КРУПНЫМИ.

$$13 \text{ т } 004 \text{ кг} - 2 \text{ т } 023 \text{ кг} = 10 \text{ т } 981 \text{ кг}$$

$$13 \text{ т } 004 \text{ кг} = 13004 \text{ кг}$$

$$2 \text{ т } 023 \text{ кг} = 2023 \text{ кг}$$

$$\begin{array}{r} \underline{13004} \\ - \quad \underline{2023} \\ \hline 10981 \end{array}$$

$$10981 \text{ кг} = 10 \text{ т } 981 \text{ кг}$$



$$45 \text{ кг} + 5671 \text{ г} =$$

$$50 \text{ кг} 671 \text{ г}$$

$$45 \text{ кг} = 45000 \text{ г}$$

$$\begin{array}{r} 45000 \\ + \underline{5671} \\ \hline 50671 \end{array}$$

$$50671 \text{ г} = 50 \text{ кг} 671 \text{ г}$$





# Физминутка



# САМОСТОЯТЕЛЬНАЯ РАБОТА

$$12 \text{ ц } 36 \text{ кг} + 7 \text{ ц } 78 \text{ кг} = 20 \text{ ц } 14 \text{ кг}$$

$$\begin{array}{r} 12 \text{ ц } 36 \text{ кг} = 1236 \text{ кг} \\ 7 \text{ ц } 78 \text{ кг} = 778 \text{ кг} \\ \hline 2014 \text{ кг} = 20 \text{ ц } 14 \text{ кг} \end{array} \quad \begin{array}{r} +1236 \\ \quad 778 \\ \hline 2014 \end{array}$$

$$24 \text{ м } 75 \text{ см} + 39 \text{ м } 85 \text{ см} = 64 \text{ м } 60 \text{ см}$$

$$\begin{array}{r} 24 \text{ м } 75 \text{ см} = 2475 \text{ см} \\ 39 \text{ м } 85 \text{ см} = 3985 \text{ см} \\ \hline 6460 \text{ см} = 64 \text{ м } 60 \text{ см} \end{array} \quad \begin{array}{r} +2475 \\ \quad 3985 \\ \hline 6460 \end{array}$$



**В МАГАЗИН ПРИВЕЗЛИ 7  
Ц 80 КГ МОРКОВИ, А  
КАПУСТЫ – НА 1Ц 50 КГ  
БОЛЬШЕ. СКОЛЬКО  
ВСЕГО ОВОЩЕЙ  
ПРИВЕЗЛИ В МАГАЗИН?**

**КГ**

$$1Ц50КГ = 100КГ + 50 КГ = 150$$

**КГ**

$$1) \ 780$$

$$+ \underline{150}$$

$$930 \text{ (КГ)}$$

$$2) \ 930$$

$$+ \underline{150}$$

$$1080 \text{ (КГ)}$$

$$1080 \text{ КГ} = 10Ц80КГ$$



**Работу могу  
выполнить сам**


**Требуется  
небольшая помощь**

**Не понял**



# МОЛОДЦЫ

!



# ДОМАШНЕЕ ЗАДАНИЕ

