





Blank white space for writing, framed by a grid border.



Актуализация знаний

Найди значения выражений

• **$90 - 24 : 4 : 3 \times 9 : 3 =$**

• **$56 : 8 \times 4 - 64 : 8 : 4 \times 9 =$**

• **$35 : 5 \times 3 + 14 : 2 \times 5 - 8 \times 4 =$**

Множитель	9		7		8	
Множитель		5	8	9		8
Произведение	63	35		36	48	72

Счёт "цепочкой"

$$63 : 7 \cdot 2 - 6 : 3 \cdot 8 : 4 = 8$$

$$80 - 40 : 8 \cdot 4 - 2 : 2 \cdot 8 = 72$$





$$72 - 32 : 4 =$$

$$36 - 18 : 2 =$$

$$48 - 24 : 3 =$$

$$64 - 16 : 8 + 8$$

$$64 - 16 : (8 + 8)$$

$$(64 - 16) : 8 + 8$$



Ц = С : К

С = Ц : К

К = С : Ц



15 руб.



? руб.


В книге поместили 24 стихотворения и 8 рассказов. Во сколько раз в книге стихотворений больше, чем рассказов?

в 16 раз

в 3 раза

в 4 раза

в 32 раза



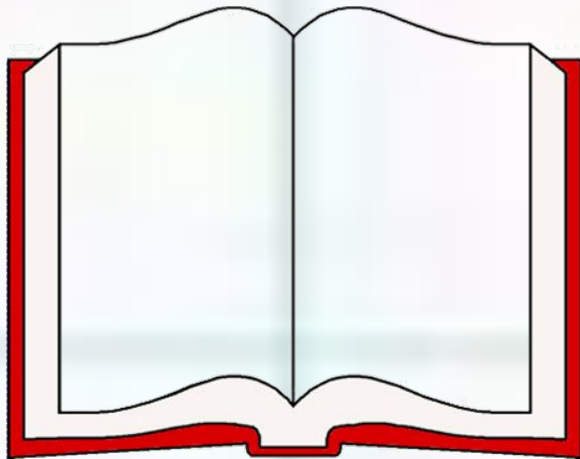
В книге поместили 24 стихотворения и 8 рассказов. На сколько в этой книге стихотворений больше, чем рассказов?

на 16

на 3

на 4

на 32




На первой полке было 27 книг, на второй полке – в 3 раза меньше, чем на первой. Сколько книг на второй полке?

8 книг

24 книги

9 книг

30 книг




На первой полке было 27 книг, на второй полке – в 3 раза меньше, чем на первой. Сколько книг на двух полках?

57 КНИГ

36 КНИГ

9 КНИГ

30 КНИГ




На первой полке было 9 книг, на второй полке – в 4 раза больше, чем на первой. Сколько книг на второй полке?

5 КНИГ

30 КНИГ

13 КНИГ

36 КНИГ




На первой полке было 9 книг, на второй полке – в 4 раза больше, чем на первой. Сколько книг на двух полках?

45 КНИГ

42 КНИГИ

22 КНИГИ

36 КНИГ



□ Составь задачу по схеме и
запиши решение. ? кг

9 кг

5 кг.



45 кг

9 кг

? кг.



45 кг

? кг

5 к.



Самостоятельная работа

1 вариант

В магазин

**привезли 6
ящичков яблок,
по 9 кг в каждом.
Сколько
килограммов
яблок привезли в
магазин?**

2 вариант

В магазин

**привезли 3 ящичка
груш,
по 7 кг в каждом.
Сколько
килограммов
груш привезли в
магазин?**

1 вариант

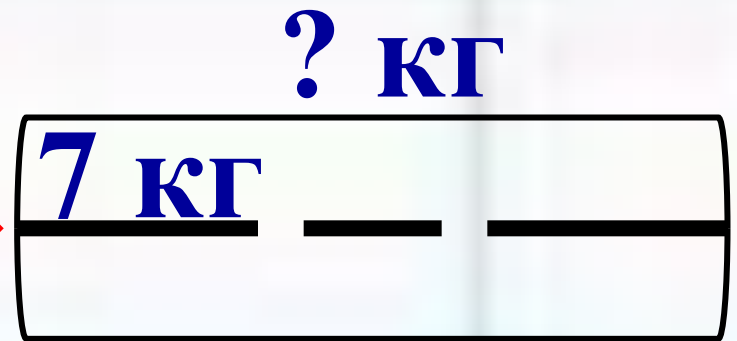


6 ящ.

$$9 \cdot 6 = 54$$

(кг)

2 вариант



3 ящ.

$$7 \cdot 3 = 21$$

(кг)



**В магазин привезли 6
ящико́в яблoк, по 9 кг в
каждом, и 3 ящика́ груш, по
7 кг в каждом. Сколько
всего килограммов фруктов
привезли в магазин?**



? кг 1)

9 кг	—	(.)

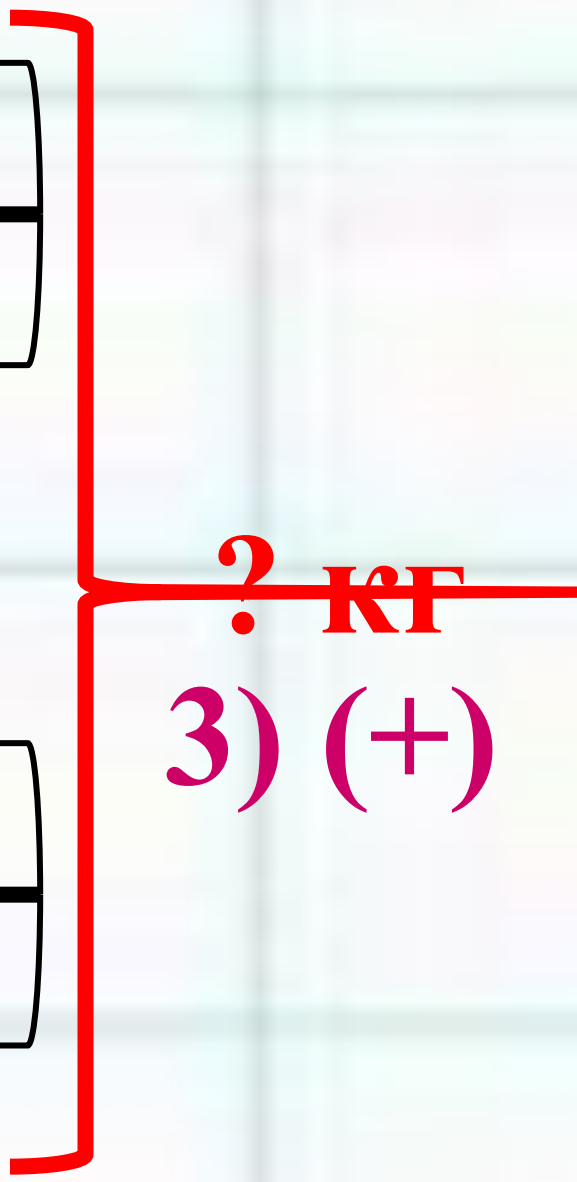
6 ящ.



? кг 2)

7 кг	—	(.)

3 ящ.



? кг
3) (+)

1) $9 \cdot 6 = 54$ (кг) – яблок

2) $7 \cdot 3 = 21$ (кг) – груш

3) $54 + 21 = 75$ (кг) – всего

**Ответ: 75 кг фруктов
привезли в магазин.**

Закрепление

За один день фермер собрал 8 корзин огурцов, по 6 кг в каждой, и 3 корзины помидоров, по 5 кг в каждой. Сколько всего кг овощей собрал фермер в этот день?

$$6 \cdot 8$$

$$6 \cdot 8 + 5 \cdot 3$$

$$5 \cdot 3$$

$$6 \cdot 8 - 5 \cdot 3$$

ИТОГ УРОКА

□ Что нового вы узнали
сегодня на уроке?

