

Математика 1 «Г» класс

Тема: Закрепление сложения и вычитания десятков

90 20 40 70 50

30

10

$$90 - 40 =$$

$$80 - 50 =$$

$$60 - 20 =$$



Проверка домашнего задания

5. Найди лишнее.



1




2



Уж тает снег, бегут ручьи,
В окно повеяло весною...
Завищут скоро соловьи,
И лес оденется листвою!
Чиста небесная лазурь,
Теплей и ярче солнце стало,
Пора метелей злых и бурь
Опять надолго миновала...

Александр Плещеев





100

10

90

20

80

30

70

40

60

50



С. Маршак



$$30+20=$$

$$60+20=$$

$$60-30=$$

$$70-30=$$

$$90\text{дм}-50\text{дм}=\text{}$$

$$100\text{дм}-60\text{дм}=\text{}$$

$$20\text{дм}+40\text{дм}$$

$$10\text{дм}+90\text{дм}=\text{}$$

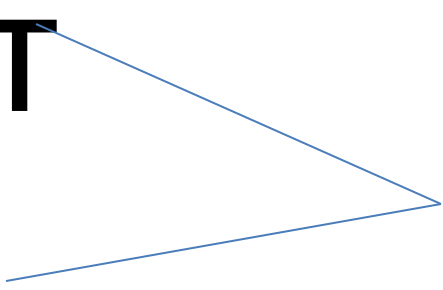
=

Молодцы





Красных-30т
Синих-?т



40т



Насекомые весной



$$30+20 * 50$$


$$60-30*40$$

$$50+20*50$$

$$40+20*70-20$$

$$30+40*60-10$$

$$30+20*80-30$$





6. Найди отличия.





Домашнее задание стр 172 №5



5. Раскрась квадраты так, чтобы в каждом ряду и в каждом столбце цвет не повторялся.

