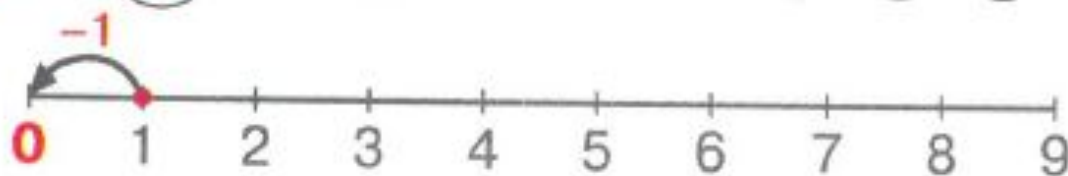


1 0 1 2 3 4 5 6 7 8 9



*Круглый ноль такой хорошенький,
Но не значит ничегошеньки!*

С. Маршак

На что похожа цифра ноль?



2 Расскажи, как всё было. Сколько морковок осталось у зайчика?




3 Верно ли фигуры разложены в мешки? Допиши равенства и объясни их.



$4 + 0 = 4$



$0 + 3 = 3$



$2 - 2 = 0$

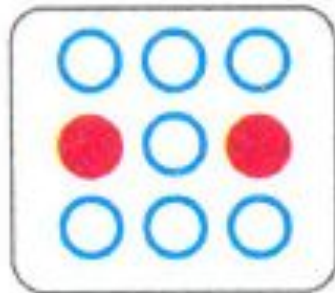


$5 - 0 = 5$


4 Допиши и дорисуй:



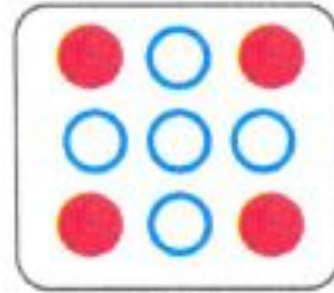
$$8 + 1 = \boxed{9}$$



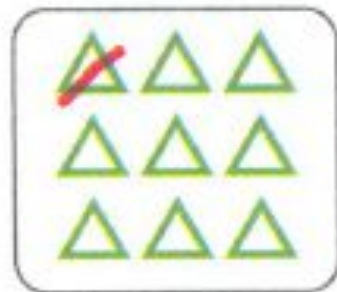
$$7 + 2 = \boxed{9}$$



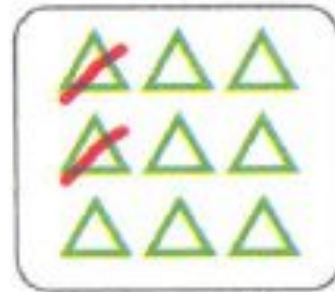
$$6 + \boxed{3} = 9$$



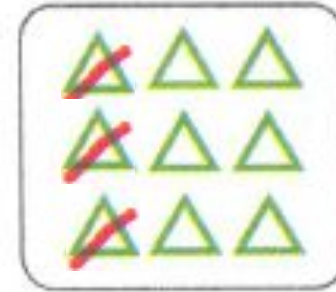
$$5 + \boxed{4} = 9$$



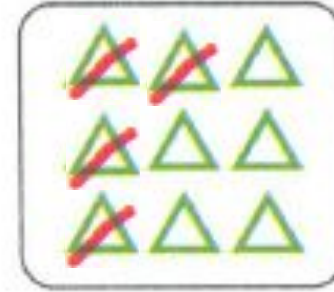
$$9 - 1 = \boxed{8}$$



$$9 - \boxed{2} = \boxed{7}$$

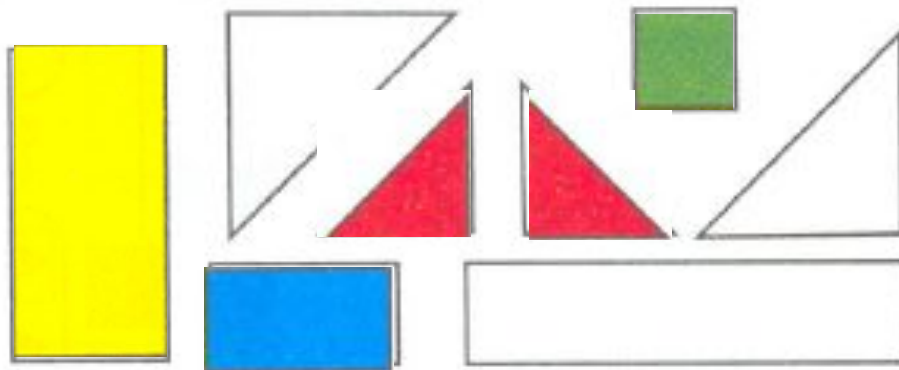


$$9 - 3 = \boxed{6}$$



$$9 - 4 = \boxed{5}$$

5* Из набора справа выбери фигуры, из которых построен кораблик, и раскрась.



6* Раскрась все цветы так же, как первый цветок.



1	○	2	○	○	3	○	○	○	4										
▲	●	●		●	●	▲	△	○	○	○	○	△							