


Урок - турнир

Тема:

«Решение
радиционных
задач»




План урока:

- Ребусы

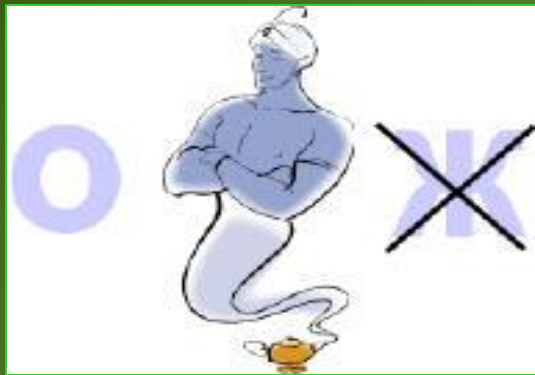
Задачи на
смекалку

Игры с числами




Помогите Незнайке разгадать
математические ребусы.





1



8



СТОГ



число



счёт



2



5



задача

МИНУС



ТОЧКА

Задачи на смекалку




1) Надо разделить поровну 4 яблока между 13 детьми.

Как лучше всего это сделать?



Лучше всего сделать яблочный сок.

2) Температура тела у человека меньше температуры тела голубя, но больше температуры тела слона. У кого из них термометр покажет самую высокую температуру?



У голубя.

3) Какой длины получится дорожка, если разрезать квадратный метр на квадратные сантиметры и выложить их один за другим?

10 000 см


4) Лежали конфеты в кучке. Две матери, две дочери да бабушка с внучкой взяли конфет по одной штучке, и не стало этой кучки.

Сколько конфет было в кучке?

3 конфеты.



Два ковши воды – это половина ведёрка,
а три чашки – это половина ковши.
Тогда два ведёрка - это



А) 24 чашки

В) 48 чашек

(С) 12 чашек

(D) 36 чашек

(E) 72 чашки

Тренируем память



Играем с числами



Играем с числами

Магические квадраты:

*Заполните пустые
клетки числами
так, чтобы суммы
во всех
горизонтальных и
вертикальных
рядах были равны
между собой*

23	40	37
	52	
61		

Проверка

23	40	37
16	52	32
61	8	31

Играем с числами

Расставьте знаки действий «+» и «-» так, чтобы равенства были верными.

$$2 \quad 6 \quad 3 \quad 4 \quad 5 \quad 8 \quad = \quad 12$$


$$9 \quad 8 \quad 1 \quad 3 \quad 5 \quad 2 \quad = \quad 12$$

Проверка

$$2 + 6 - 3 + 4 - 5 + 8 = 12$$

$$9 + 8 + 1 - 3 - 5 + 2 = 12$$

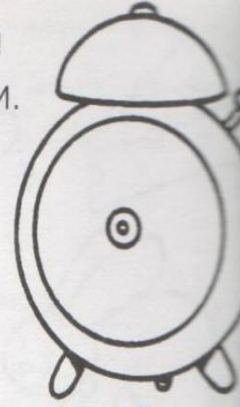
Игры с карандашом



+



=



Определи время
и нарисуй стрелки.

18ч. 45 мин.



+



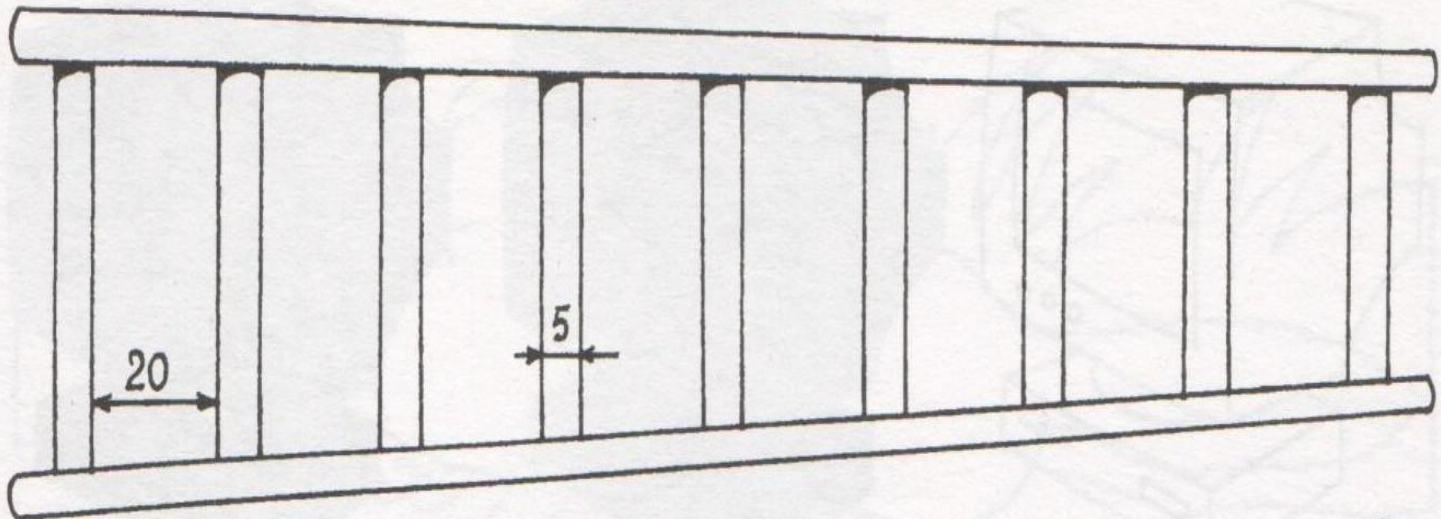
=




15 ч. 45 мин.

Игры с карандашом

Какова длина этой лестницы?



Игры с карандашом



Задачи с палочками


Помогите Незнайке переложить две палочки так, чтобы листики оказались вне «лопатки»




Проверка



*Постройте из палочек такой домик.
Поверните его к нам другой стороной,
передвинув только две палочки.*



Проверка.



Вы, ребята,
сегодня

МОЛОДЦЫ!



Оценки :



Ермакова Лиза


Канашкин Марат

Мамедова Полина

Подзолкова Настя

Симонов Саша





Ребята, берегите зрение!

