



Тақырыбы:

“ Өткенді қайталау.

**100 көлеміндегі сандарды
қосу және азайту.”**



Психологиялық дайындық:

**Күннің көзі ашылып
Көкке шуақ шашылып
Құтты қонақ келіпті
Төрімізге еніпті.
Амандасу үлкенге
Тәрбиенің басы ғой,
Ал кәнеки бәріміз.
Сәлем дейік үлкенге.
Сәлеметсіздер ме, апайлар!**



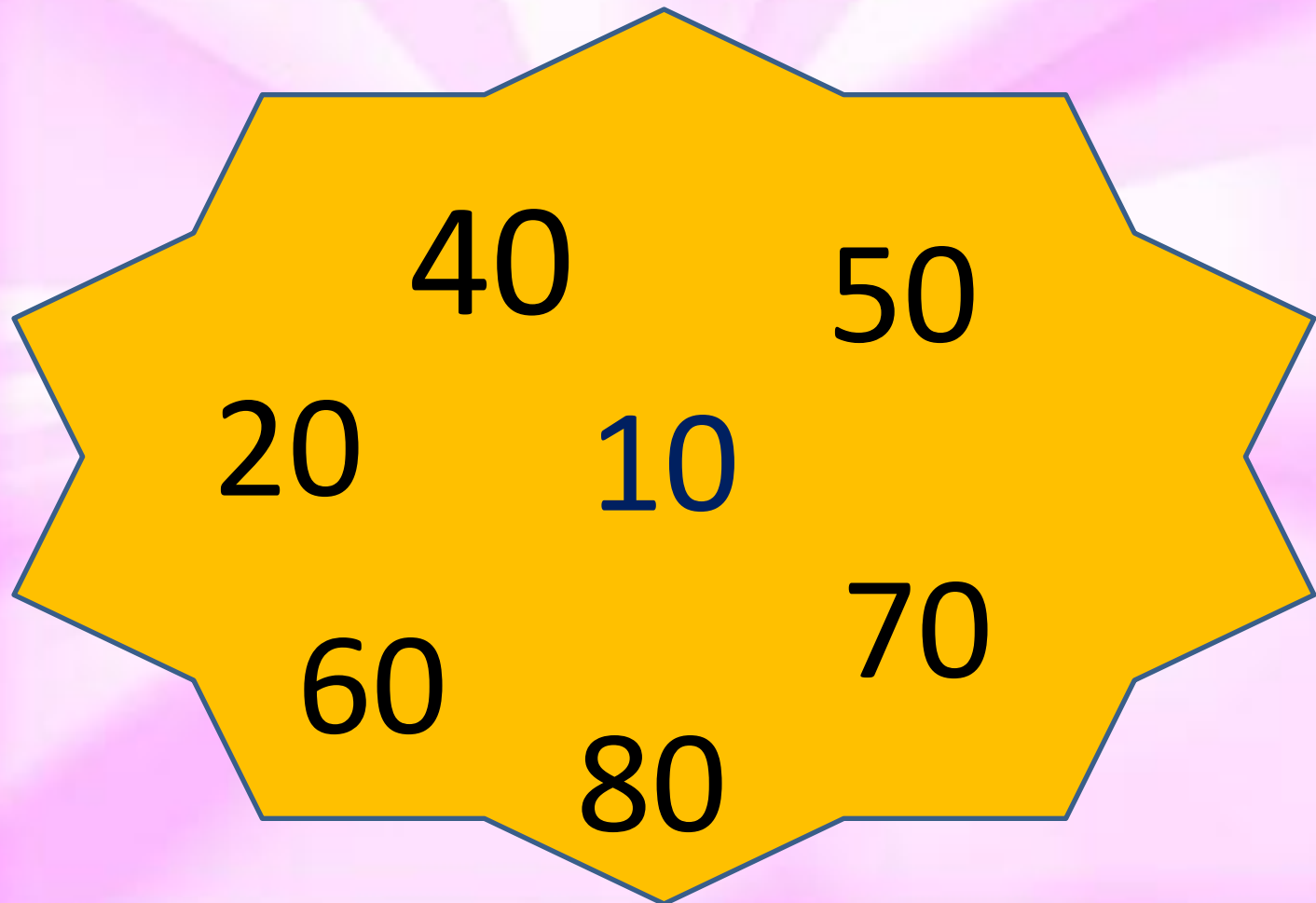
*Бұтадан – бұтаға
секірген,
кішкентай ғана
шапшаң аң.*



A vibrant, cartoon-style illustration of a forest scene. In the center-left, there is a small, light green house with a brown, shingled roof and a red door. A blue oval with the number '10' is overlaid on the house. To the right, a red squirrel with a large, bushy tail is standing and looking towards the house. The background features large, detailed trees and a lush green landscape with small white and pink flowers.

10

САНДАРДЫ ӨСУ ЖӘНЕ КЕМУ РЕТІМЕН ОРНАЛАСТЫР



*Қалқизан ұзын құлағы,
Елеңдеп қорқып тұрады..*





20

**Оқулықпен
жұмыс
№ 3, 199 бет
Есептерді
шығар**



*Жатып – жатып инелер,
Жүгіріп жаныңа тез келер.*





30

Өрнектердің мәнін

$a+20$

тап $80 - b$

$a = 30, 40, 50$

$b = 10, 30, 60$

Өзіңді

$a+20$

$a = 30, 40, 60$

$$30+20 = 50$$

$$40+20 = 60$$

$$60+20 = 80$$

тексер:

$80 - b$

$b = 10, 30, 60$

$$80 - 10 = 70$$

$$80 - 30 = 50$$

$$80 - 60 = 20$$

Сергіту сәті




Қанша болады?

Алдында үш
балапан,
Артында үш балапан.
Ақ тауық пен
балапан,
Айтшы санын,
балақай.

Бес көжекке достасқан
Сәбіз бердім қос-қостан.
Бір сәбізім соңында
Қалып қойды қолымда.
сәбізімді әуелгі
санап берші ал енді.

Көлден ұшты жеті қаз,
Қайтып қонды екі қаз.
Қонбады оның
нешеуі,
Қане, кім тез шешеді?


*Орманда тұрады,өзі бір қу,
Жүрген жері айғай мен шу.*





40

Өрнектер құрастыр:






*Тәтті көрсе бас салар,
Айнымайды баладан.
Үн-үлкен болып жасқанар,
Кіп-кішкене арадан.*





50



“Жоғалған

сандар”

10		30		50		70		
----	--	----	--	----	--	----	--	--

10		8		6		4		2
----	--	---	--	---	--	---	--	---



*Күші десең, күші бар,
Тісі десең, тісі бар.
Торуылдап ауылды,
Түнде жортар ісі бар.*



Салыстыру:

$$8-1 * 8$$

$$9-2 * 9-6$$

$$8+2 * 3+5$$

$$1+9 * 9+1$$

$$20-10 * 5+5$$

$$10+30 * 30$$




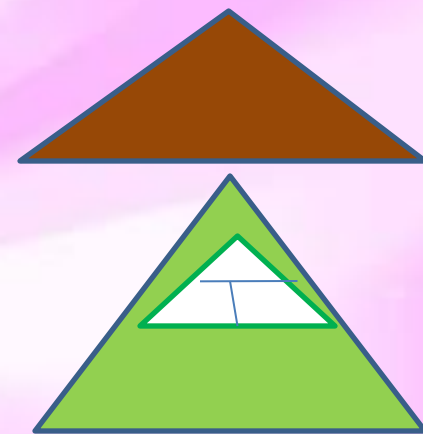
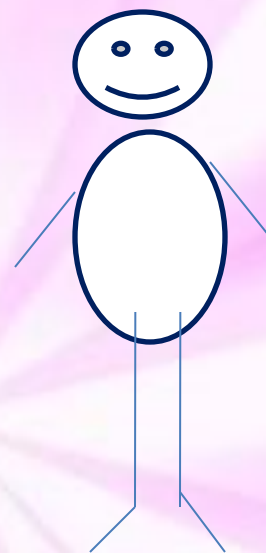

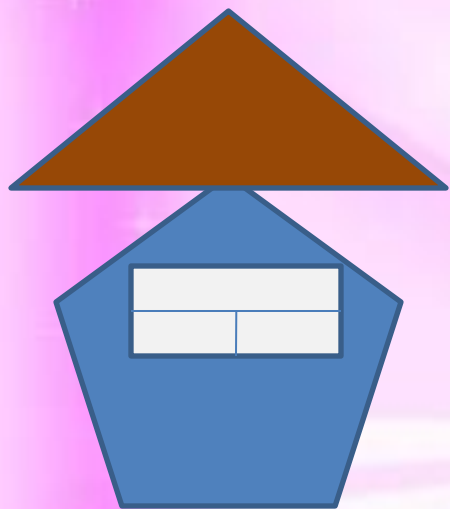
$$20+60 * 20+80$$

$$90-20 * 90-30$$

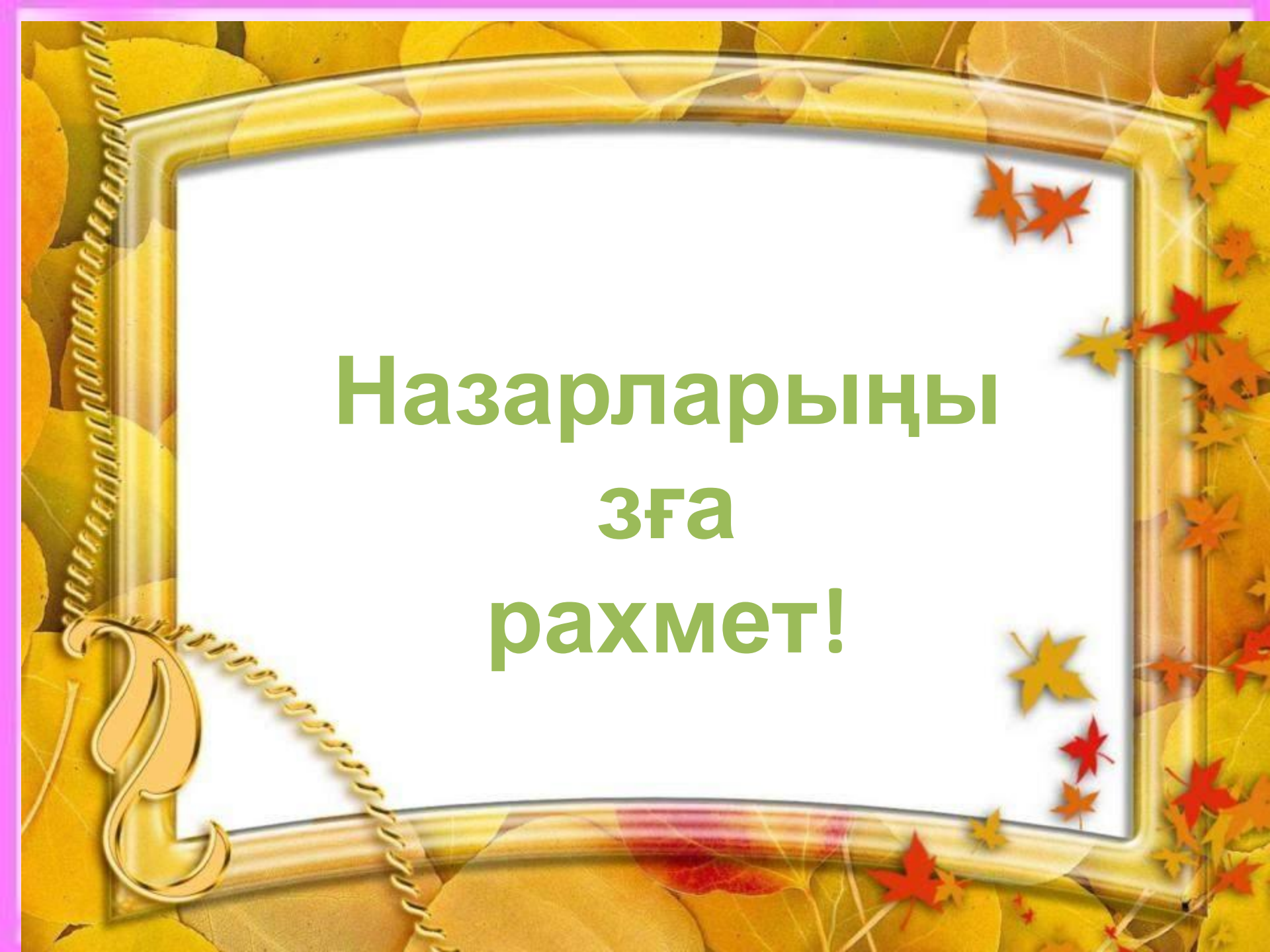


60

“Үйді табуға көмектес”



ҮЙ
ТАПСЫРМАСЫ:
№ 5, 199 БЕТ



**Назарларыңы
зға
рахмет!**

