



# **Тема:** Умножение и деление. Закрепление



$$3+2+3+5$$

$$3+3+3$$


$$6+6+6+6$$

$$15+15+15+15+15$$

В космос отправили три космических корабля по 6 космонавтов в каждом. Сколько космонавтов полетели в космос?



**Из цветной бумаги вырезали  
10 звездочек , их раздали  
пятерым детям. Сколько  
звездочек получил каждый  
ребенок**



Полина с Кристиной считали звезды на небе.


Кристина насчитала 13 звезд, а Полина 30.

На

сколько больше Полина сосчитала  
чем

Кристина ?

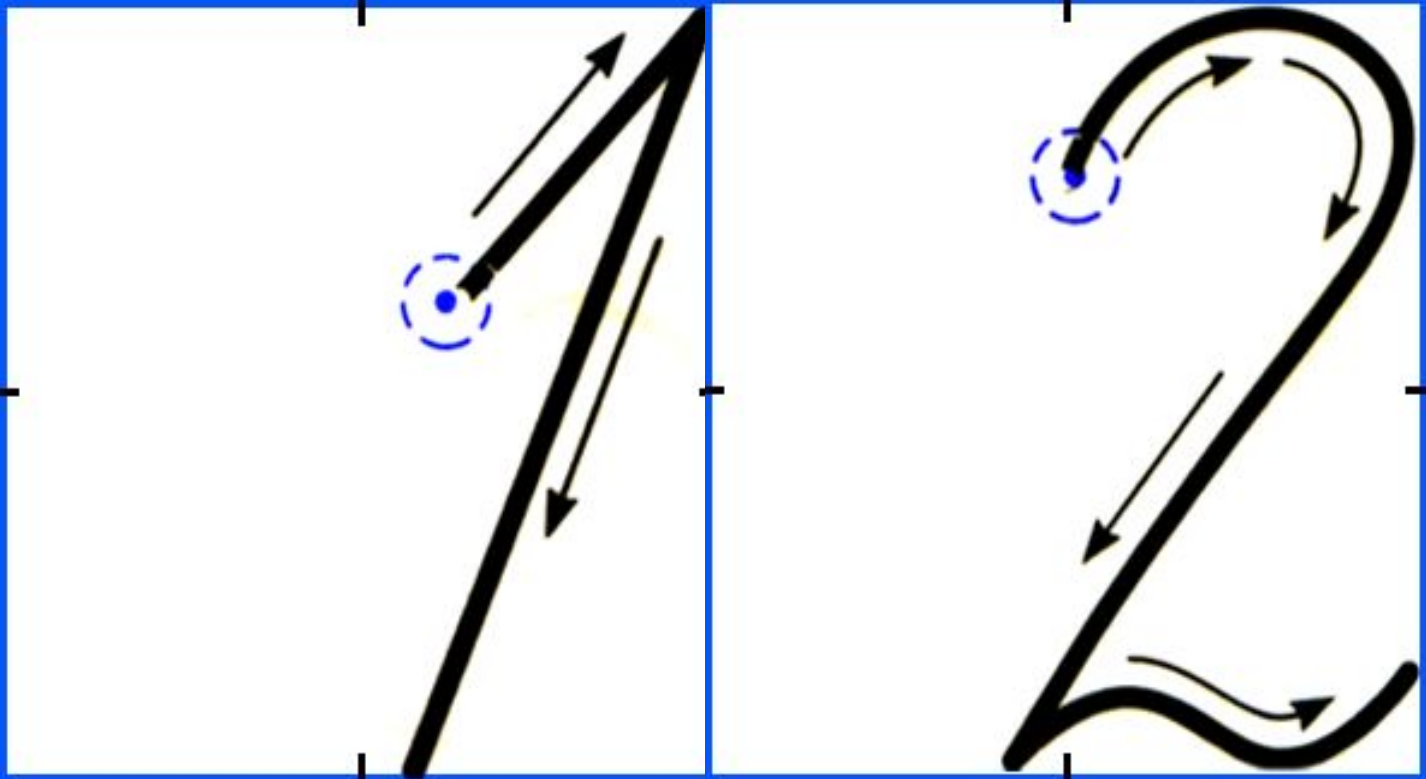




**15, 18, 20, 2 , 45, 37.**










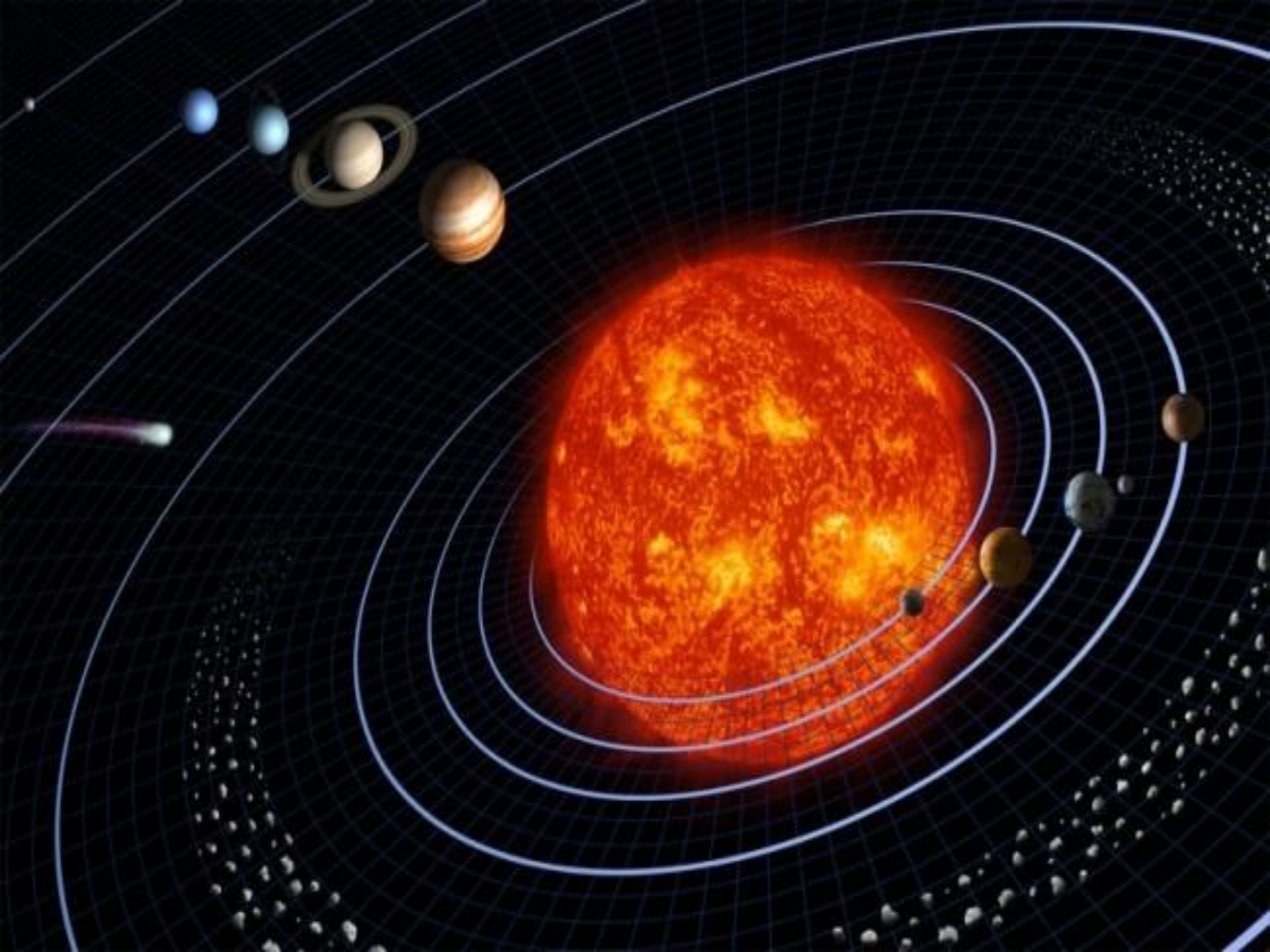
dobort.ru  
ВЫСТАВКИ

brankar.ru  
ХУДОЖНИК  
МАЯ ПУШКИН



by DA







OPEN.AZ









**I ряд**

$$0 \times 8 =$$

$$17 \times 1 =$$

$$14 - 0 =$$

$$24 : 1 =$$

$$29 + 0 =$$

$$16 + 14 =$$

**II ряд**

$$2 \times 7 =$$

$$9 \times 2 =$$

$$13 \times 0 =$$

$$5 \times 1 =$$

$$10 \times 2 =$$

$$17 + 0 =$$

$$35 \times 1 =$$

**III ряд**

$$3 \times 6 =$$

$$13 \times 1 =$$

$$50 - 0 =$$

$$10 : 2 =$$

$$2 : 2 =$$

$$27 \times 0 =$$

$$34 + 20 =$$

# I ряд

$0 \times 8 = 0$

$17 \times 1 = 17$

$14 - 0 = 14$

$24 : 1 = 24$

$29 + 0 = 29$

$16 + 14 = 30$

# II ряд

$2 \times 7 = 14$

$9 \times 2 = 18$

$13 \times 0 = 0$

$5 \times 1 = 5$

$10 \times 2 = 20$

$17 + 0 = 17$

$35 \times 1 = 35$

# III ряд

$3 \times 6 = 18$

$13 \times 1 = 13$

$50 - 0 = 50$

$10 : 2 = 5$

$2 : 2 = 1$

$27 \times 0 = 0$

$34 + 20 = 54$

**I ряд**    0    17    14    24    29    30

|    |    |    |    |    |

ж    л    ё    т    а    я

**II ряд**    14    18    0    5    20    17    35

|    |    |    |    |    |    |

л    б    г    о    а    у    я

**III ряд**    18    13    50    5    1    54    0

|    |    |    |    |    |    |

н    с    а    а    р    я    к

(с) у-Дачный.рф




# ЗАДАЧА

## 31

Ромашки - 15 цв.

Васильки - ? цв.

35 цв.



на ? > цв.



# Сравните

**3см 5мм \* 35 мм  
мм**

**2см 4мм \* 42**

**7дм 6см \* 8 дм**

**1дм 9см \* 15см**



# Сравните

$$3\text{ см } 5\text{ мм} = 35\text{ мм}$$

мм

$$2\text{ см } 4\text{ мм} < 42$$

$$7\text{ дм } 6\text{ см} < 8\text{ дм}$$

$$1\text{ дм } 9\text{ см} > 15\text{ см}$$

=

<

<

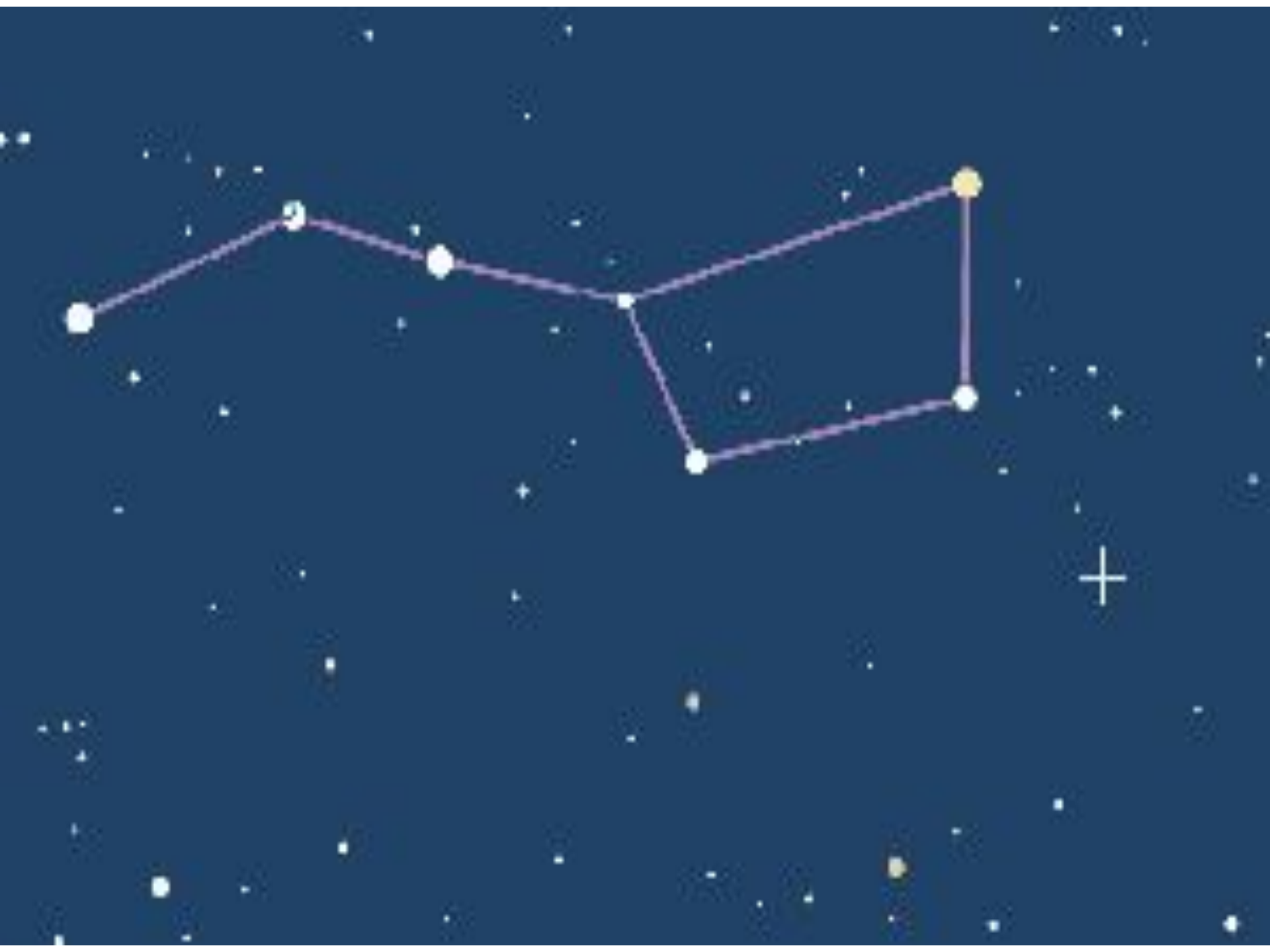
>

*со*

*л*

*н*

*це*



**« МЫ ВМЕСТЕ »**



# « МЫ ВМЕСТЕ »



# КРЫМ



