








**Устный счёт
для урока математики
2кл**


 $20 - 3$


 $15 - 9$


 $13 - 8$


 $17 - 11$

 $36 - 30$

 $39 - 34$

 $28 - 22$

 $12 - 6$

 $14 - 8$

 $12 - 5$

Микки Маус играл в баскетбол. Он забросил только те мячи, возле которых находятся примеры, где в результате вычитания получится

6

Посчитай примеры и узнай, какие мячи забросил Микки Маус.



17 20 - 3

15 - 9

5 13 - 8

17-11

36-30

5 39-34

28-22

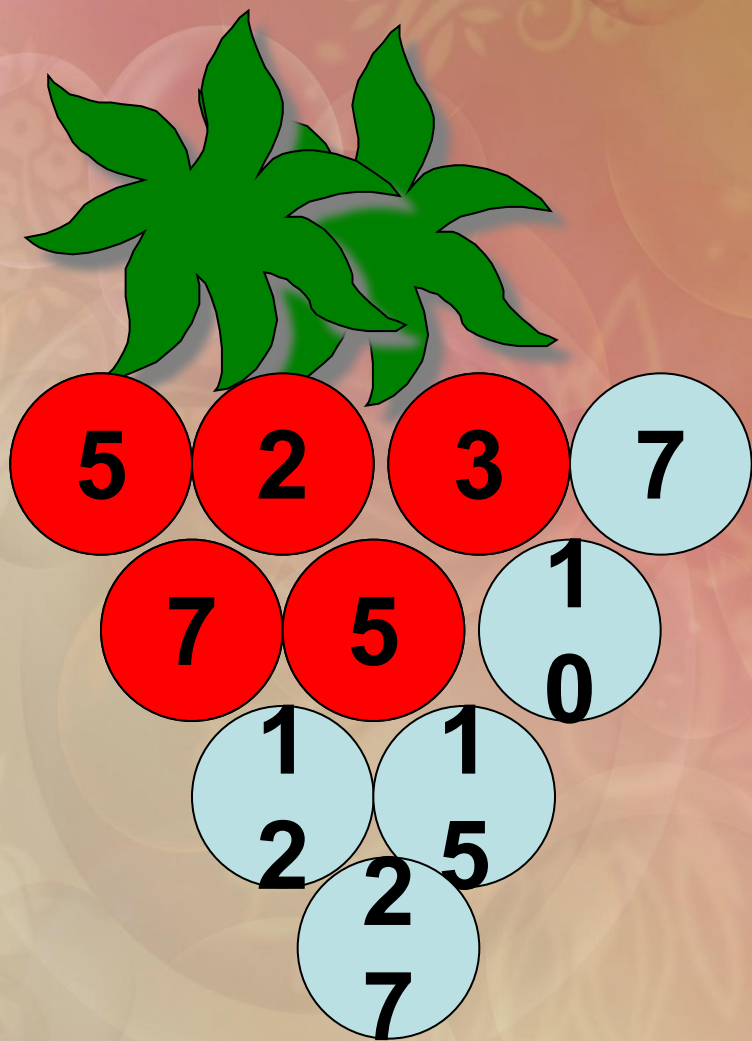
12 - 6

14 - 8


7 12 - 5



14 - 8
12 - 6
28-22
36-30
17-11
15 - 9



Посмотри, как
заполнена гроздь
винограда числами:
вверху два
слагаемых, внизу
между ними их
сумма.



По тому же правилу заполни
числами эти грозди.



**Определи какие примеры
записаны в виде суммы
разрядных слагаемых. Они
останутся на облаках, а
другие прольются дождём на
землю. Тучки развеются, и я
смогу добраться до цветка.**





$$29 = 20 + 9$$

$$37 = 35 + 2$$

$$11 = 11 + 0$$

$$48 = 40 + 8$$

$$63 = 3 + 60$$

$$76 = 60 + 16$$

$$50 = 40 + 10$$

$$95 = 90 + 5$$

$$37 = 35 + 2$$





$$29 = 20 + 9$$

$$11 = 11 + 0$$

$$48 = 40 + 8$$

$$63 = 3 + 60$$

$$76 = 60 + 16$$

$$50 = 40 + 10$$

$$95 = 90 + 5$$

$$11 = 11 + 0$$

$$37 = 35 + 2$$





$$29 = 20 + 9$$

$$48 = 40 + 8$$

$$95 = 90 + 5$$

$$76 = 60 + 16$$

$$50 = 40 + 10$$

$$63 = 3 + 60$$

$$11 = 11 + 0$$

$$37 = 35 + 2$$





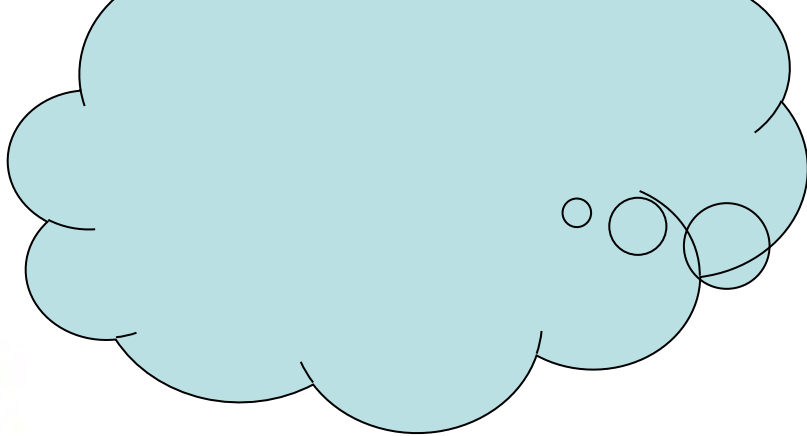
$$29 = 20 + 9$$
$$48 = 40 + 8$$

$$95 = 90 + 5$$
$$76 = 60 + 16$$
$$50 = 40 + 10$$
$$63 = 3 + 60$$


$$11 = 11 + 0$$
$$37 = 35 + 2$$

$$76 = 60 + 16$$






$$29 = 20 + 9$$
$$48 = 40 + 8$$

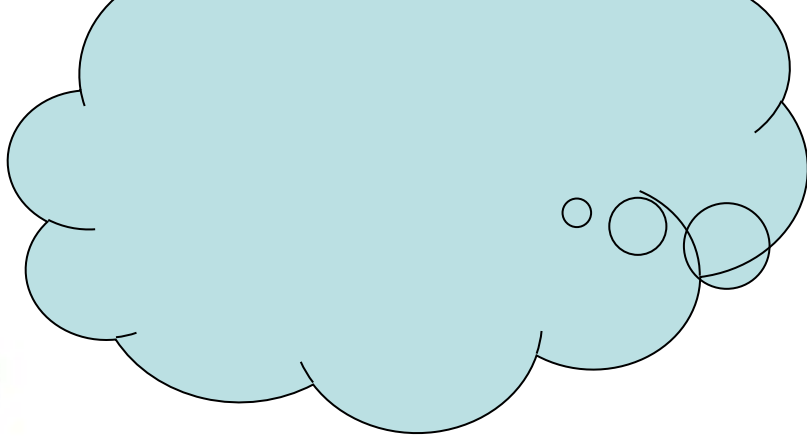


$$95 = 90 + 5$$
$$50 = 40 + 10$$
$$63 = 3 + 60$$



$$11 = 11 + 0$$
$$37 = 35 + 2$$

$$50 = 40 + 10$$
$$76 = 60 + 16$$



$$29 = 20 + 9$$

$$48 = 40 + 8$$

$$95 = 90 + 5$$

$$63 = 3 + 60$$

апо!



$$11 = 11 + 0$$
$$37 = 35 + 2$$

$$50 = 40 + 10$$
$$76 = 60 + 16$$

Замени числа суммой
разрядных слагаемых.

$$89 = 80 + 9$$

$$74 = 70 + 4$$

$$93 = 90 + 3$$

$$68 = 60 + 8$$

Молодцы!!!