

3 класс



Математик

а

Лукаш Татьяна Владимировна
учитель начальных классов
МБОУ «Гимназия №5
г. Морозовска»
Ростовской области





1. Выбери число, в котором 23 сотни и 8 единиц.

1



2308

2



2380

3



238





2. 40 сотен уменьши в 10 раз. Выбери соответствующее равенство.

1



$$4000 : 10 = 400$$

2



$$4000 : 40$$

3



$$400 : 10 = 40$$





3. Выбери цифру, пропущенную в записи:
 $5043 > \dots 043$.

1



5

2



6

3



4



4. Уменьши 5000 на 1. какое число получится?



1



4000

2



4999

3



4990





5. На сколько 630 больше, чем 540?

1



на 180

2




на 270

3



на 90





6. Увеличь 453 на 7 тысяч. Какое число получилось?

1



460

2




7453

3



523





7. Выбери пропущенный знак, чтобы получилась верная запись: $2359 \dots 2459 - 1$.

1



>

2



<

3



=





8. Что пропущено в записи:
 $1 \text{ м } 5 \dots = 150 \text{ см} ?$

1



см

2




дм

3



м





9. Как можно прочитать число 5320?

1



532 сотни

2




5 тысяч 2 десятка

3



53 сотни 2 десятка





10. На сколько нужно уменьшить число 8243, чтобы оно не изменилось?

1



на 1

2



на 0

3



на 10

