

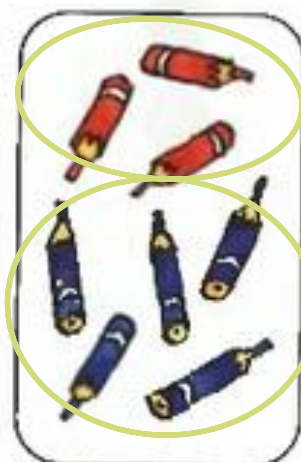
30

## Занятие 16. ЧИСЛО 8. ЦИФРА 8


- 1 Сколько всего предметов? Как их можно сгруппировать? Сделай записи.



$$\boxed{7} + \boxed{1}$$



$$\boxed{5} + \boxed{3}$$

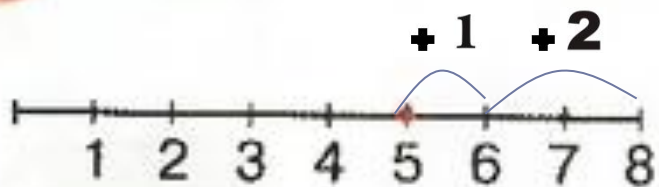


$$\boxed{4} + \boxed{4}$$

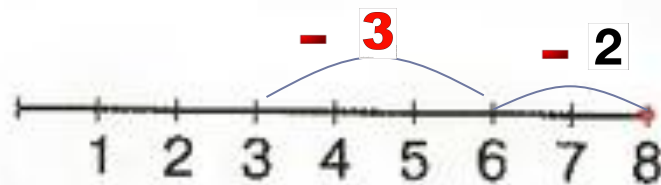


$$\boxed{6} + \boxed{2}$$

2\* Проведи стрелки и запиши ответы:



$$5 + 1 + 2 = \boxed{8}$$



$$8 - 2 - 3 = \boxed{3}$$

**3**

\* Поставь вместо звёздочек знак «+» или «-».  
Проверь с помощью числового отрезка.

$6 + 2 = 8$

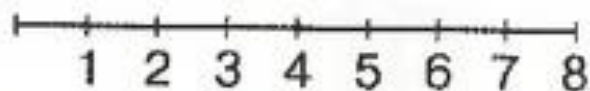
$7 + 1 = 8$

$8 - 4 = 4$


$8 - 5 = 3$

$5 + 3 = 8$

$6 - 3 = 3$



- 4 Масса утёнка 1 кг, а масса зайчонка 3 кг. Кто легче? Кто тяжелее? Как уравновесить весы? Сделай записи.




$$\boxed{1} \text{ кг} < \boxed{3} \text{ кг} \quad \mathbf{3} \text{ кг} > \mathbf{1} \text{ кг}$$

$$\boxed{1} \text{ кг} + \mathbf{2} \text{ кг} = \boxed{3} \text{ кг}$$

5

Измерь стороны треугольника и сосчитай, сколько всего сантиметров получится.



$$\square \text{ CM} + \square \text{ CM} + \square \text{ CM} = \square \text{ CM}$$



6

# Игра «Зеркало».

