


# *Кері есептер және өзара кері есептер*

ЖББ № 65 орта мектебі КММ  
1 Б сыныбы



# *Сабақтың мақсаты*




- Кері есептер жайлы мәлімет беру;
- Бір есептен бірнеше есеп құрастыруды үйрету;
- Ауызша есептеуге, шығармашылыққа баулу.



# *Үй тапсырмасын тексеру*


- №2
- №3
- №4



# Көбелек аула



$10 - 3$	7
$10 - 4$	6
$10 - 5$	5
$10 - 6$	4
$10 - 7$	3
$10 - 8$	2
$10 - 2$	8
$10 - 1$	9
$9 - 9$	0
$9 - 6$	3
$9 - 5$	4
$9 - 4$	5



# Сәуірдің 18-і

## Сынып жұмысы



- *Кері есептер және өзара кері есептер*

- №1

Әкесі-50 (ж)

Баласы-20 (ж) ↓ ? кіші

Ш:

Ж:

-50 (ж)

-?, (ж) кіші

Ш:

Ж:

-?, 30 (ж) үлкен

-20 (ж)

Ш:

Ж:



# Есеп құрастыру, кері есеп құрастыру



# Сергіту сәті

*Біздер тату баламыз,  
Гүлдей жайнап жанамыз.*

*Жаттығулар жасасақ,  
Жақсы сергіп қаламыз.*

*Орнымыздан тұрамыз,*

*Қолды белге қоямыз,*

*Бұрыламыз оңға бір,*

*Бұрыламыз солға бір.*

*Бір, екі, үш, төрт.*

*Жоғары қолды созамыз*

*Аяқ ұшында тұрамыз.*

*Бір, екі, үш, төрт.*




# Оқулықпен жұмыс

№2 Теңдеулерді шеш:

$$7 + x = 10$$


$$90 - x = 60$$

$$x + 10 = 50$$





# *Оқулықпен жұмыс*



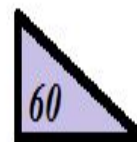


*№ 3*

- Ең кіші ондықты ата;*
- Ең үлкен ондықты ата;*
- 40 пен 60-тың арасындағы сан;*
- 30-дың көрші ондықтарын ата.*



# Оқулықпен жұмыс

№4 Үшбұрыштардың нөмірлерін ата



# *Tup*

$6 + 3$

$5 + 4$

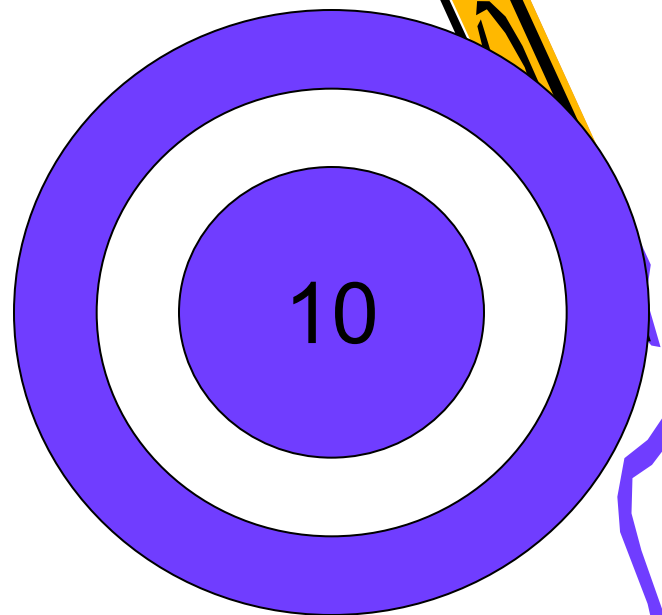
$7 + 3$

$8 + 0$

$1 + 9$

$6 + 1$

$3 + 5$



# Өтілген сабақты нысықтау

- *Есепті қалай құрастырамыз?*
- *Кері есеп дегеніміз не?*
- *Есеп құрастыр:*

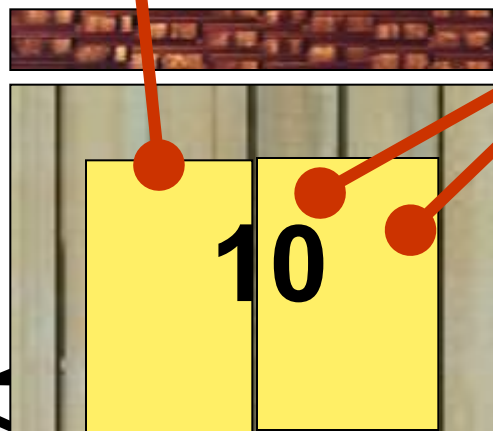

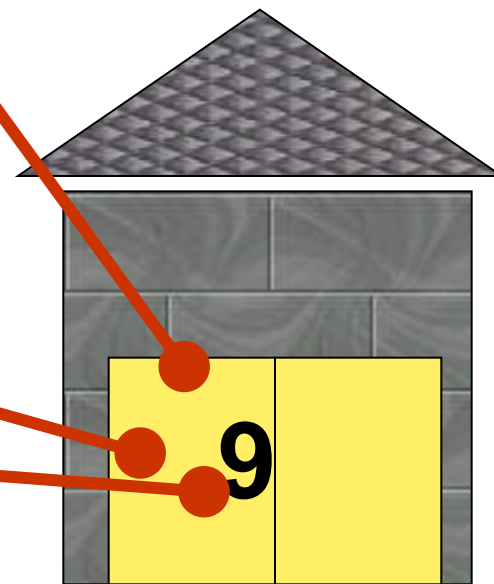



Асанда -




Үсенде -





# Гараж




# Гүлдерді жина

$10 - 7 =$  


$10 - 4 =$  


$6 + 4 =$  


$2 + 8 = 10$

$3 + 7 =$  

$5 + 5 = 10$



$10 - 5 =$  

$8 + 2 = 10$  



# *Үйге тапсырма*

*№5,6 193 бет.*

*Қосындының мәнін, айырманың мәнін  
табуға байланысты кестені толтыру.*





# Балық аулау



$10 - 5$

$1 + 4$

**7 балық!**


$3 + 2$

$8 - 3$

$2 + 3$

$6 - 1$

$9 - 4$



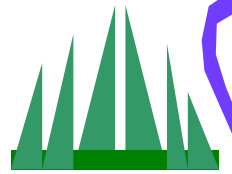





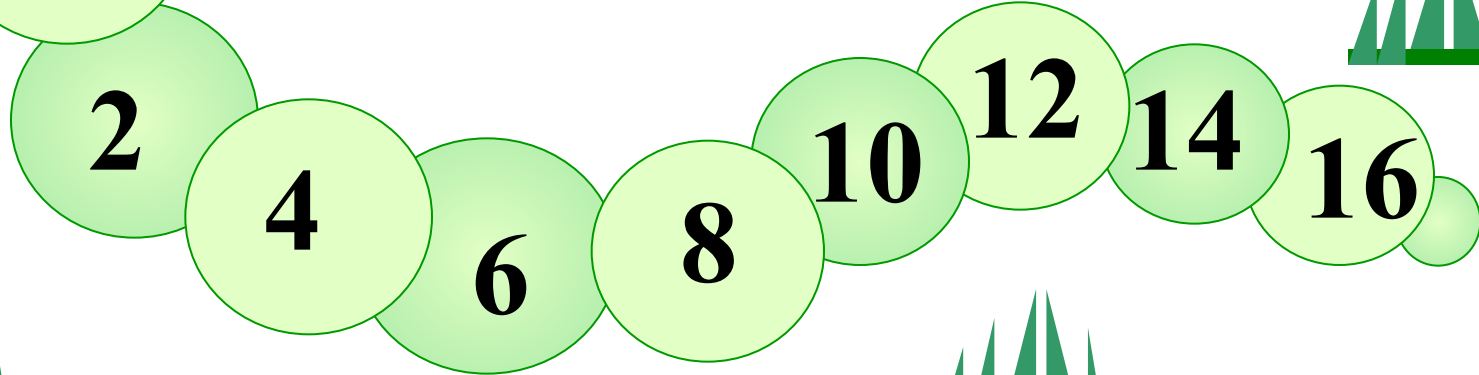



**Балықшы қанша балық аулады?**






# *Жоғалған сандарды тап*





# Ауаға шарларды орналасстыр


$3+3$



$2-1$



$6-2$



$6-1$

$4-2$

$6-3$





$10 - 8$

# Қайықты орналастыр



4

5

9

2

10

6

7

$1 + 3$



$5 + 5$



$4 + 3$



$3 + 3$



$2 + 3$

$5 + 4$



*Назарларыңызға  
рахмет!*

