




математика





Есептеуге жүйірік болсаң жасыңнан,
Математикаға орын берсең
басыңнан,
Барлық ғылым саған үйір болады,
Досың солар табылатын қасыңнан!



**Сабақтың
тақырыбы:
Бөлу амалына берілетін бір амалмен
шығарылатын есептер**




Сабақтың мақсаты:

Білімділігі: оқушыларға бөлу амалына берілетін бір амалмен шығарылатын есептерді шығару арқылы білім, білік, дағдыны қалыптастыру.

Дамутышылығы: оқушылардың математикалық білімі арқылы ойлау қабілетін дамыту; есептеу машықтарын жетілдіру; өздіктерінен жұмыс істеуге, жұмыста шапшандылық танытуға машықтандыру.

Тәрбиелігі: өзін-өзі басқаруға, ұжымдалыққа, белсенділікке тәрбиелеу. Жауапкершілікті сезіне білуге үйрету.





5
Б

I. Өткен шаққа саяхат

II. Осы шаққа саяхат

III. Келер шаққа саяхат



I. Өткен шаққа

1. Көбейту компоненттерін атайық
2. Белгісіз көбейткішті қалай табамыз?
3. Бөлудің компоненттерін атайық
4. Бөлінгіш белгісіз болса қалай табамыз?
5. Бөлгіш белгісіз болса қалай табамыз?



Математикалық диктант

$4 * 2 = \square$

$18 : 2 = \square$

$6 * \square = 12$

$6 * 2 = \square$

$16 : 2 = \square$


$18 : \square = 9$

$9 * 2 = \square$

$10 : 2 = \square$

$\square : 2 = 8$





II. Осы шаққа саяхат




?

18

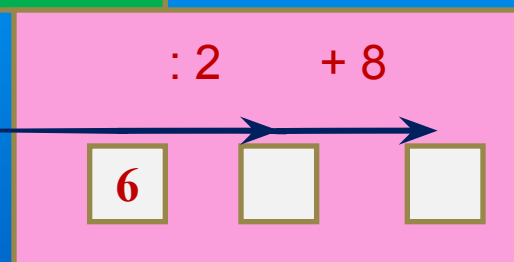
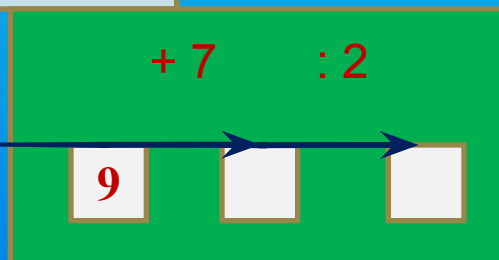
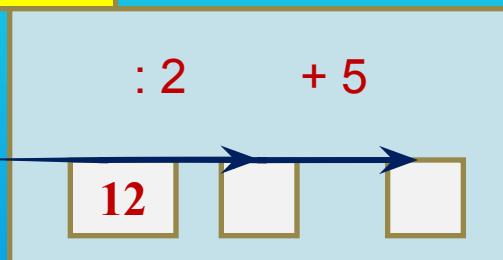
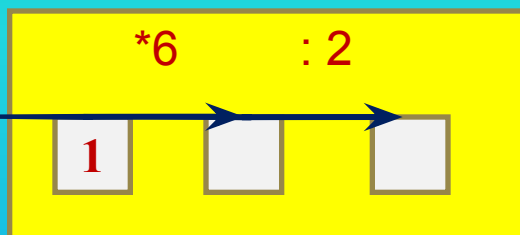
:

2



№ 2

Бос тор көзде тұруға тиісті санды ата:



Деңгейлік тапсырма:

$$18 : x = 28 - 26$$

$$3 * x = 15 - 3$$



Сергіту сәті



Құсқа ұқсап бәріміз,
Қане, қанат жаяйық.

Құс сияқты қалықтап,
Ұшып-ұшып алайық!

Өзіндік жұмыс




Ең тапқыр кім?

№ 1

Шаруашылықта әрбір 4 жылқыға 2 күтушіден бекітілген. Егер шаруашылықта 8 күтуші жұмыс істейтін болса, осы шаруашылықта неше жылқы бар?

№ 2

Орман алаңқайында көктемнің алғашқы гүлдері гүлдеп жатыр: інжугүл, қызғалдақ, бәйшешек, өгейшөп. Егер өгейшөп інжугүлден бұрын, қызғалдақ бәйшешектен кейін, бірақ өгейшөптен бұрын, ал бәйшешек інжугүлден бұрын гүлдесе, аталған гүлдердің қайсысы ең соңында гүлдейді?



III. Келер шаққа саяхат



Үйге тапсырма:

55 бет



2-нің көбейту
кестесін жаттау

№ 9 есеп

КӨНЦІЛ БӨЛГЕНДЕРІҢІЗГЕ РАХМЕТ

