


Больше. Меньше. Столько же.



***Королева Ирина Николаевна
учитель начальных классов
МКОУ СОШ №2
г.Нефтекумск***



ВОСКРЕ-СЕ-НЬЕ

ЧЕТ-ВЕРГ

ПО-НЕ-ДЕ-ЛЬ-НИК

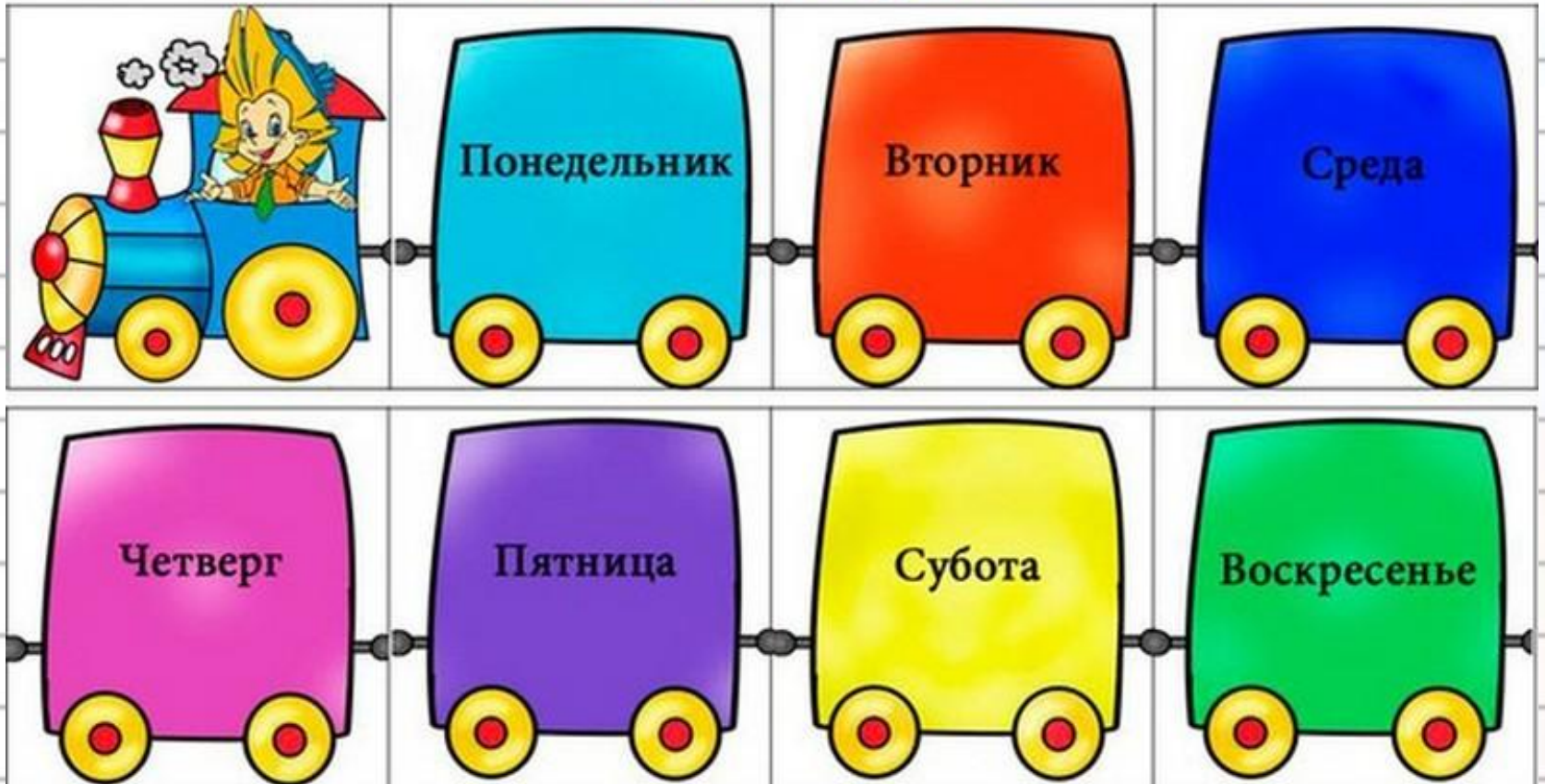
ВТОР-НИК

СРЕ-ДА

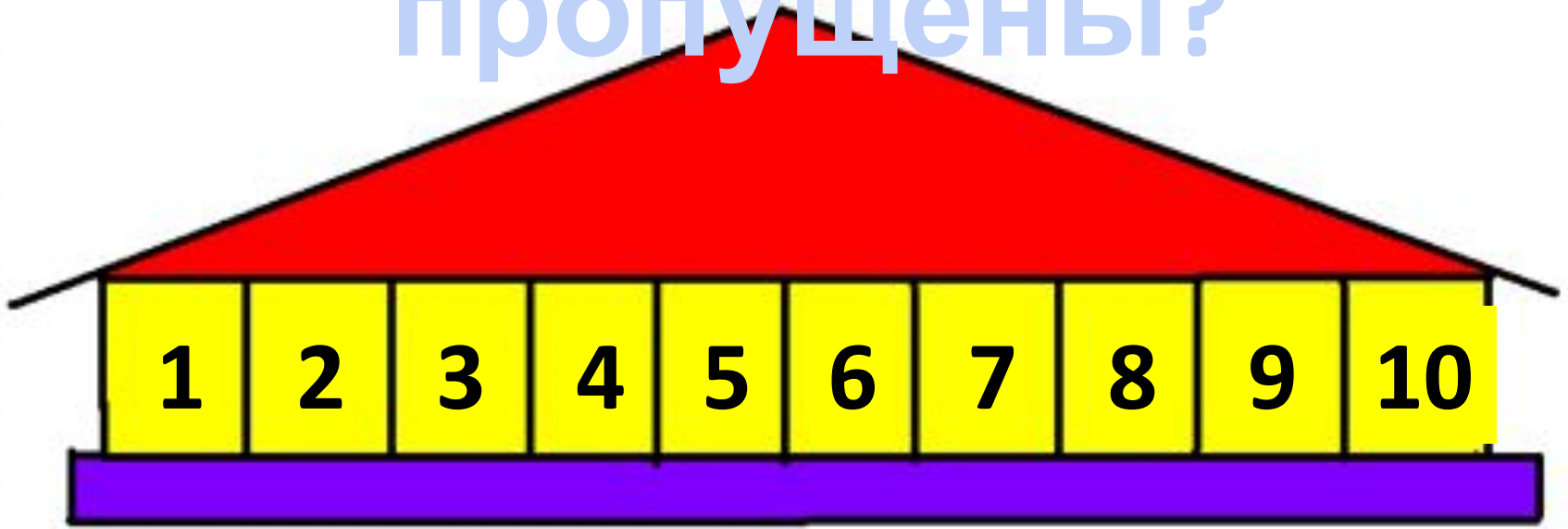
ПЯТ-НИ-ЦА

СУБ-БО-ТА

Учим дни недели



Какие числа
пропущены?



● Расскажите, чем деревья на рисунке Пети отличаются друг от друга. Какое дерево выше всех? Тоньше всех?



сосна

осин

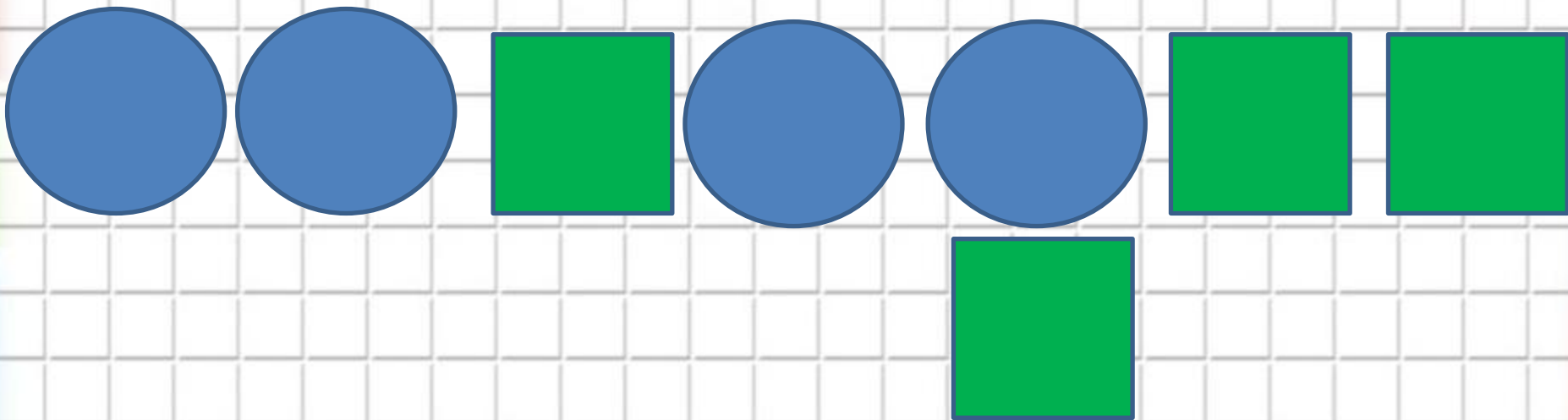
дуб

Под самым большим деревом спрятался
грибок.

Под каким?


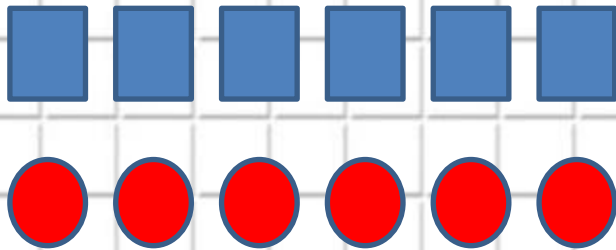


На какие группы можно разбить фигуры?



Сравн

и

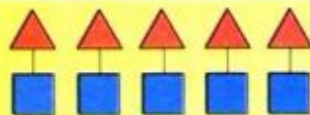


Столько же. Больше. Меньше


Будем учиться отвечать на вопросы «Больше?», «Меньше?», «Столько же?».



Рассмотри рисунок. Рассуждай:
Домиков столько же, сколько
Поросят столько же,



столько же



меньше

больше

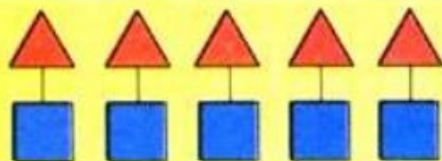


Рассмотри рисунки матрёшек.
Сделай вывод: больше? меньше? столько же?
Объясни, как составлены пары. Используй
слова: *слева, справа, вверху, внизу.*



Рассмотри рисунок. Рассуждай:
Домиков столько же, сколько
Поросят столько же,





столько же



меньше



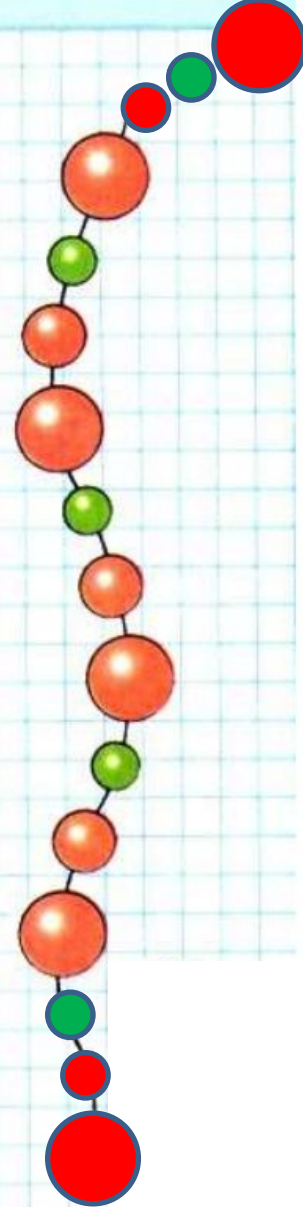
больше

Рассмотри рисунки матрёшек.
Сделай вывод: больше? меньше? столько же?
Объясни, как составлены пары. Используй
слова: *слева, справа, вверху, внизу.*



Рассмотри рисунок. О чём можно сказать: столько же? больше? меньше? Объясни почему.

Проследи, как начали составлять бусы. Определи, как можно их продолжить. Какую бусинку нужно надеть на нитку первой? второй? третьей? Найди два способа.



Чего больше: чашек или блюдце? ложек или блюдце? Чего меньше: чашек или ложек? Объясни свой ответ.

?

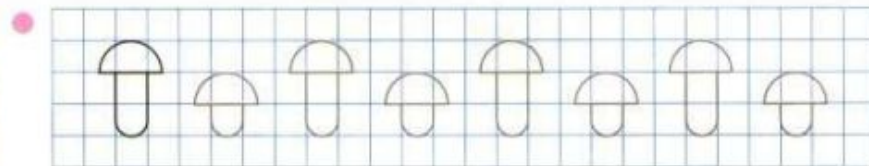


11



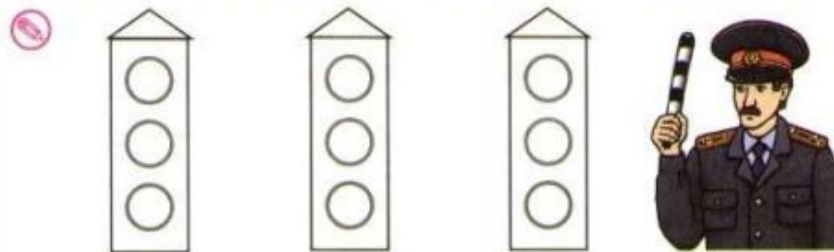
Столько же. Больше. Меньше

- В каком ряду листьев меньше? Дорисуй так, чтобы в двух рядах листьев стало поровну.



Проследи, что изменяется. Раскрась шляпки грибов так, чтобы менялся ещё и их цвет.


- Покажи сигналы на светофорах, раскрась их.



верхний
красный

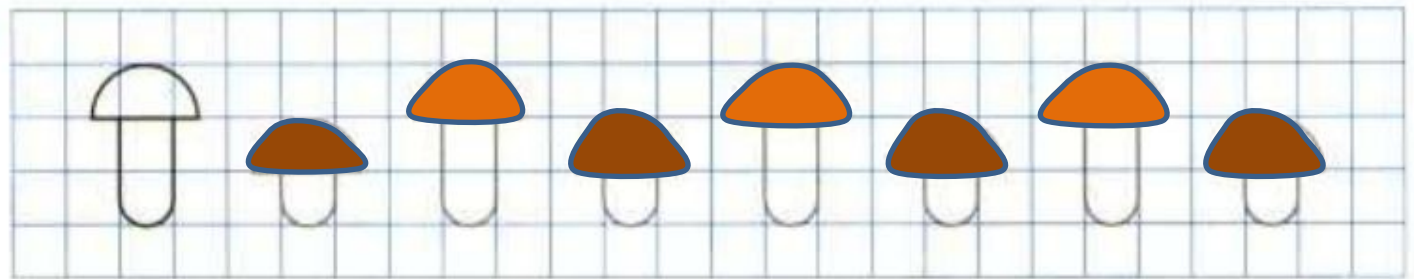

средний
жёлтый

нижний
зелёный



Столько же. Больше. Меньше


- В каком ряду листьев меньше? Дорисуй так, чтобы в двух рядах листьев стало поровну.




Проследи, что изменяется. Раскрась шляпки грибов так, чтобы менялся ещё и их цвет.




Покажи сигналы на светофорах, раскрась их.




верхний
красный




средний
жёлтый



нижний
зелёный



Светофор - твой друг дорожный:



Видишь **красный**? Просто ждем,

Желтый цвет – готовим ножки,

На **зеленый** мы идем!



Красный – запрещает
движение,

Зеленый - разрешает



Источник

<https://fs01.urokimatematiki.ru/e/000668-001.jpg> - фон

<http://fotomagiks.ru/img-q5y5x5n4g40414l5h4r484w5z504o4s4/images/2016/vospitatel/konspekti/2/zanyatie-v-sredney-gruppe-zima-6.jpg> - дни недели

<http://womansk.net/upload/content/2016-01/1/64/871cf6df1bba1a28b8dca226f9b8073f.jpg> - неделя

http://pictureloop.ru/images/748033_chislovoi-ryad-do-10.jpg - домик

https://ds03.infourok.ru/uploads/ex/0e90/0001470f-eebbe547/hello_html_31331dbb.jpg - гриб

<http://borisova.3dn.ru/kartinki/gribi/94.png> - мухомор

<https://fs00.infourok.ru/images/doc/247/251576/img7.jpg> - сигналы светофора

