



Ұйымдастыру кезеңі

Үлкенге де сіз,

Кішіге де сіз.

Бар адамды құрметтеп,

Бас иеміз біз.



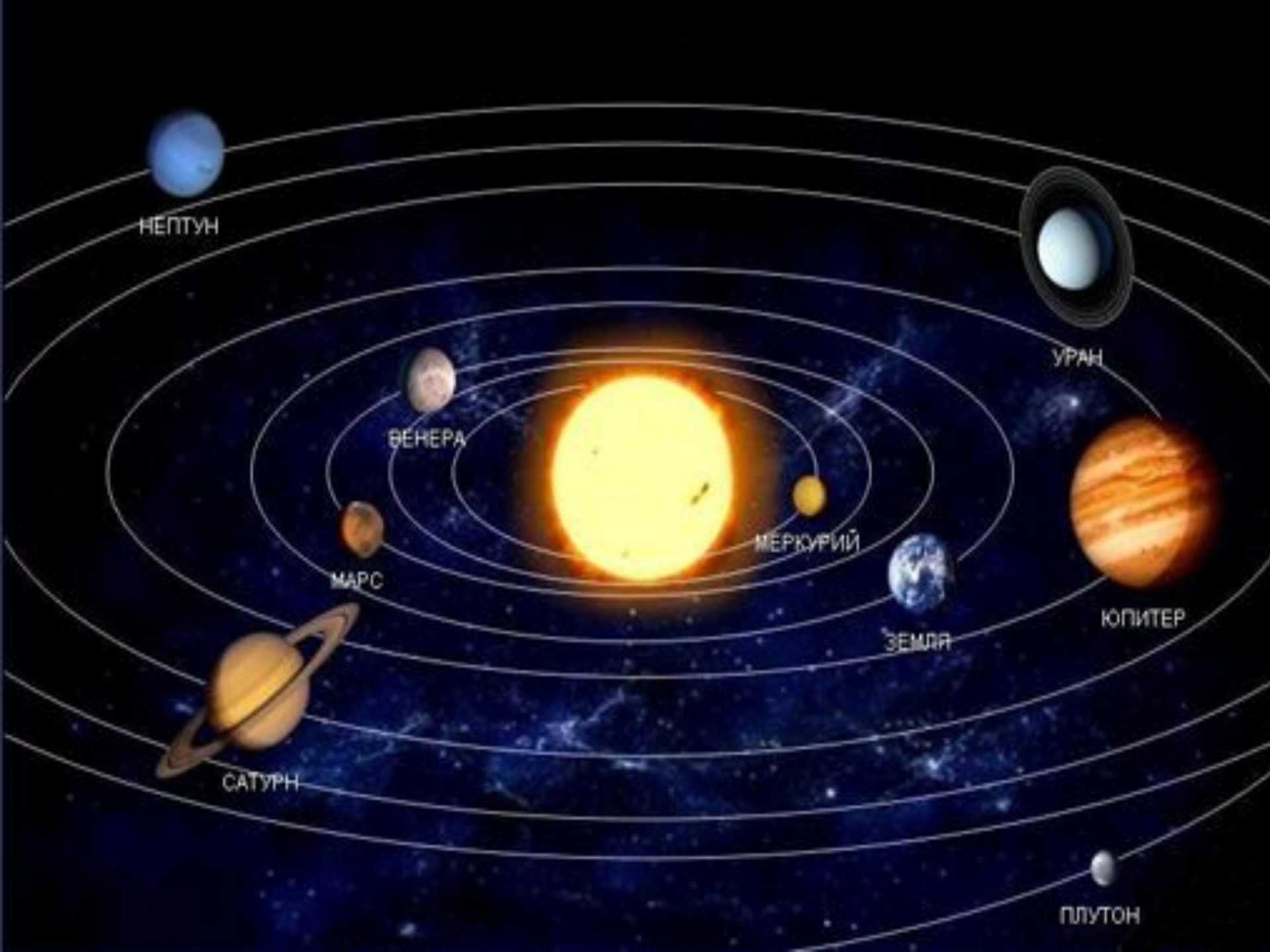
Ғарыш әлеміне саяхат



Үй тапсырмасын тексеру

Кубизм. Семантикалық карта

	Санды өрнек	Әріпті өрнек	Теңдік	Теңсіз- дік	Қосынды	Айырма
$7 + a$		+				
$4 = 4$			+			
$8 - 4$	+					+
$3 < 7$				+		
$4 - a$		+				
$7 + 2$	+				+	
$8 > 3$				+		
$7 = 7$			+			



НЕПТУН

УРАН

ВЕНЕРА

МЕРКУРИЙ

ЮПИТЕР

МАРС

ЗЕМЛЯ

САТУРН

ПЛУТОН

Юрий

Гарин



Тоқтар Әубәкіров



Талғат Мұсабаев





**Меркурий
планетасы**

Математикалық ДИКТАНТ

10,20,50,80,90,40



**Юпитер
планетасы**

№ 1

“Көршісін тап”

10 20 30 40 50 60 70 80 90 100

100 90 80 70 60 50 40 30 20 10

20 30 40 40 50 60 60 70 80





Сатурн
планетасы

№ 2

I қатар

$$60 - 20 = 40$$

$$6 \text{ дм} - 2 \text{ дм} = 4 \text{ дм}$$

II қатар

$$40 + 20 = 60$$

$$40 \text{ см} - 20 \text{ см} = 20 \text{ см}$$

III қатар

$$60 - 40 = 20$$

$$6 \text{ дм} - 4 \text{ дм} = 2 \text{ дм}$$



**Венера
планетасы**

№ 3

$$30 + 20 = 50$$

$$20 + 30 = 50$$

$$50 - 20 = 30$$

$$50 - 30 = 20$$

$$50 + 20$$

$$\underline{\quad} + \underline{\quad}$$

$$70 - \underline{\quad}$$

$$70 - \underline{\quad}$$

$$40 + 30$$

$$\underline{\quad} + \underline{\quad}$$

$$70 - \underline{\quad}$$

$$70 - \underline{\quad}$$

$$60 + 30$$

$$\underline{\quad} + \underline{\quad}$$

$$\underline{\quad} - \underline{\quad}$$

$$\underline{\quad} - 60$$



Нептун
планетасы

Сергіту сәті






**Марс
планетасы**

mars

№ 4

**5 және 4 сандарын
пайдаланып,
қосу амалына
есептер құрастыр**





Уран
планетасы

“Ойлан, тап!”

$$30+20*50$$

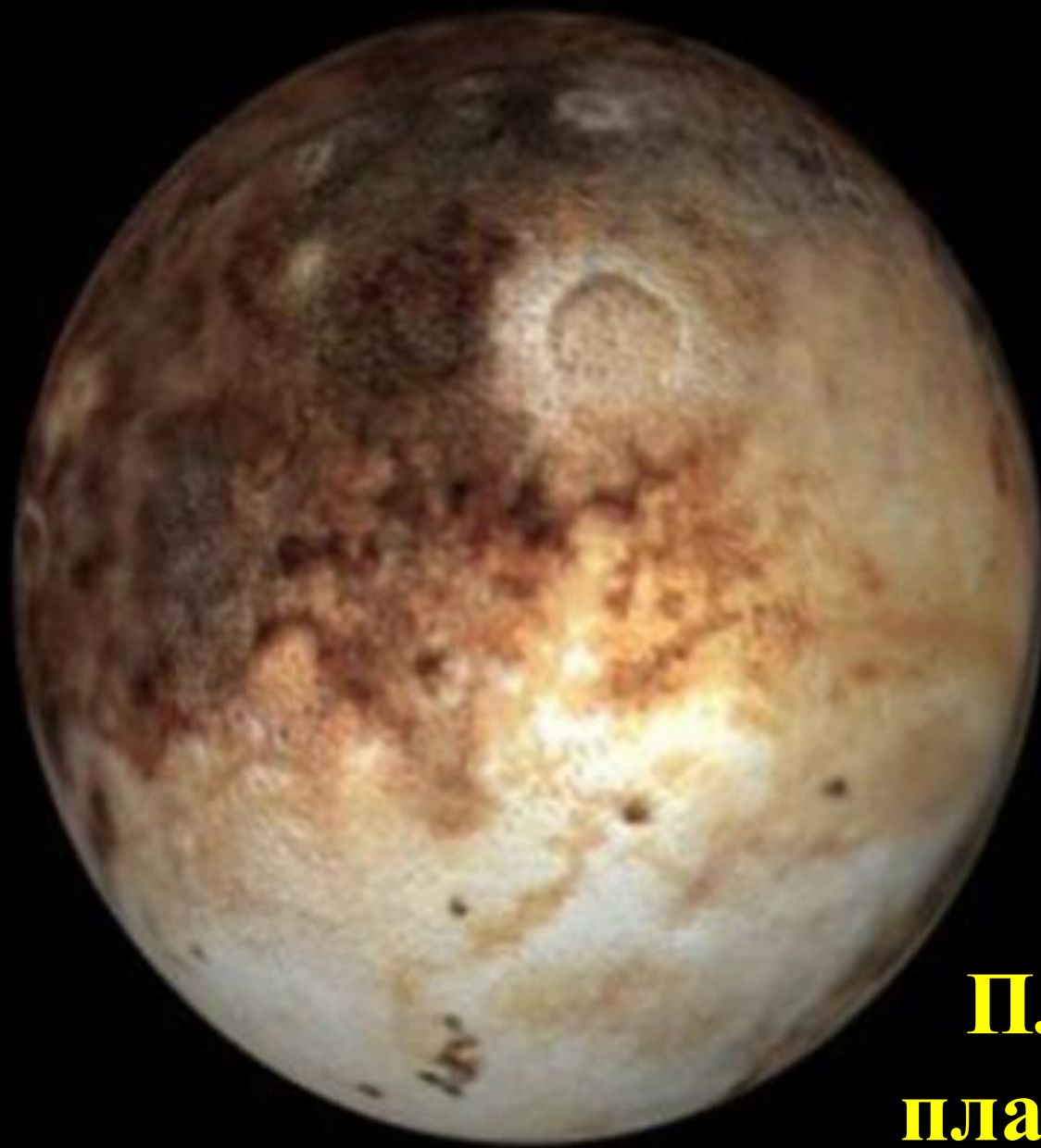
$$40+20*70$$

$$60-30*40$$

$$40*60-10$$

$$50+20*50$$

$$30+20*80$$



Плутон
планетасы

“Логикалық есептер”



**1. Төрт алманың екеуін,
Досың сұрап алады.
Айтшы сонда нешеуі,
Өз қолыңда қалады?**

**2. Аулада 6 үйрек,
Қорада 2 үйрек,
1 үйрек тығылды,
1 үйрек жығылды
Қалғаны неше үйрек?**

**3. Екеуі қызыл, екеуі сары
Оң қолымда неше алма?
Төртеуі жасыл, төртеуі қызыл
Сол қолымда неше алма?**

- Шөптің ортасында қояндар тығылып отыр. Олардың сегіз құлағы көрініп тұр. Қояндар саны нешеу?

- Екі сиырдың неше мүйізі бар?

- Екі бүркітте қанша қанат бар?

- Үш қаздың аяғы нешеу?

- Ағашта бірнеше құс отыр. Оларда 8 қанат болды. Ағашта неше құс отыр?

- Үстел бетінде төрт бұрыш бар. Бір бұрышын кесіп тастады, енді неше бұрыш бар?

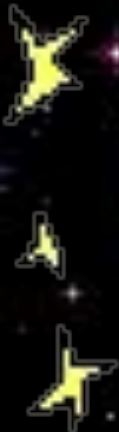
Сабақты бекіту

«Кім жылдам?»

















Жер



Бағалау



Үйге тапсырма

№ 5 , 180 б





Рахмет!

Сау болыңыздар!





