

Урок-сказка на тему «Сложение и вычитание в пределах 100»



4			K			
3		C			A	
2			K			
1		3			A	
		1		2		3
						4

(1,3) (2,4) (3,3) (1,1) (2,2) (3,1)

(C)

(A)

(K)

(K)

(A)

(3)



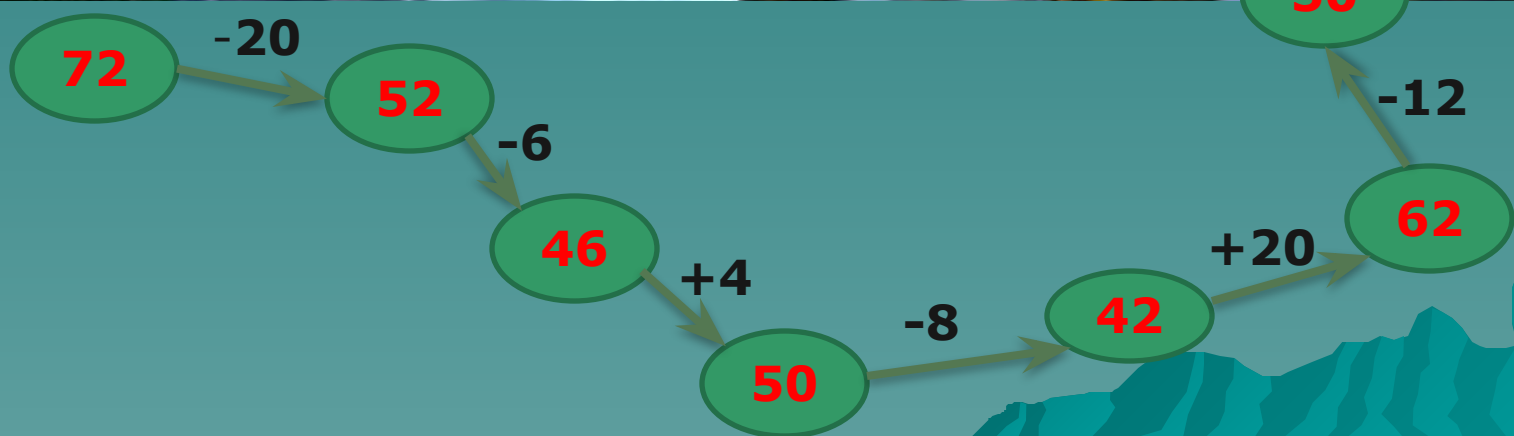
3

33



333











$$33 - (6 + 2)$$

$$25 + (12 - 2)$$

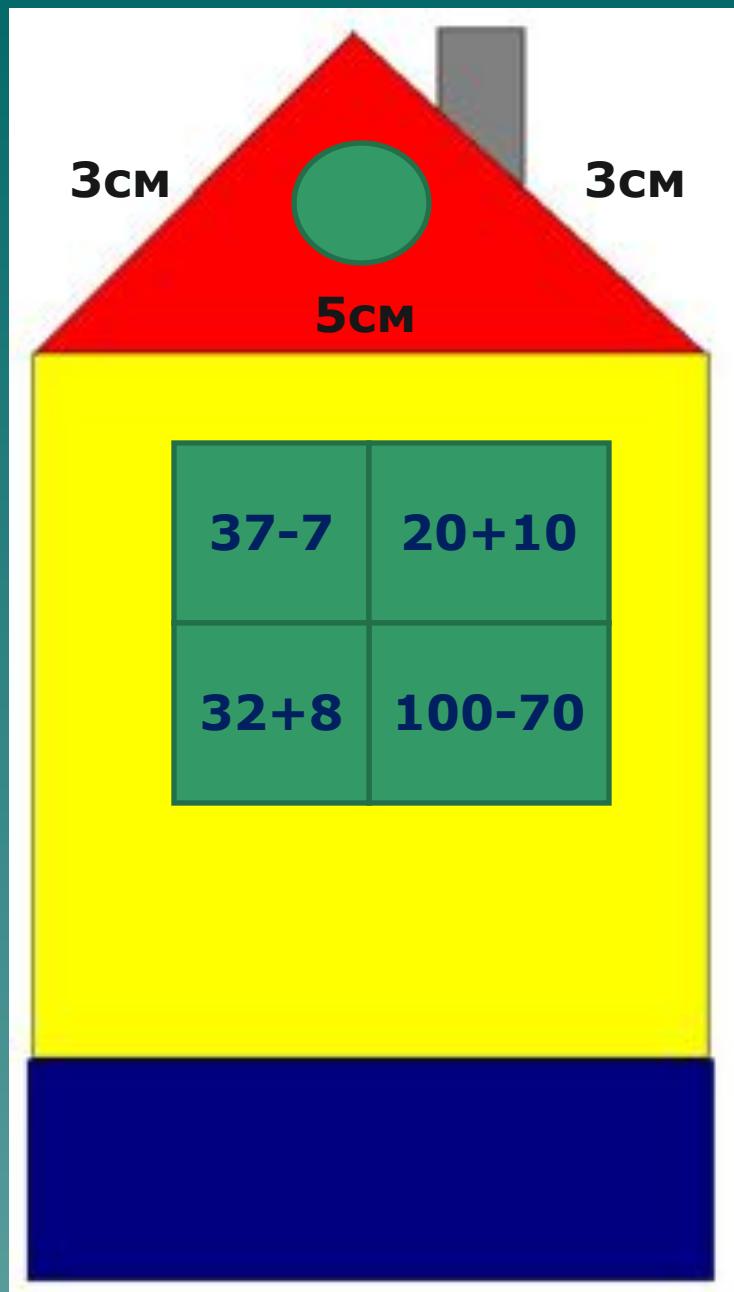
$$30 * \square = 47$$

$$42 * \square = 30$$


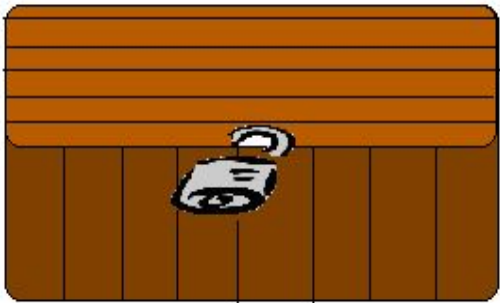


**Чему равны длины звеньев, если
ломаная из трёх звеньев
равна 15см?**













1 ДРОГА


2 ДРОГА

3 ДРОГА

ТРИ ДРОГАИ,
ПРОЙДЕШЬ,
ПУТЬ К КОЩЕЮ
НАЙДЕШЬ


ПРОПАСТЬ

В моём саду яблоня растёт с золотыми и серебряными яблоками. Золотых- 25 яблоч, а серебряных на 15 меньше. Сколько всего яблоч растёт на яблоне?



Золотые-

Серебряные- ? (25-15) яб.



Змей Горыныч приказал кузнецу сделать 3 замка и к каждому замку по 3 ключа-медный, серебряный, золотой. Сколько всего ключей должен сделать кузнец?

В услужении у Кощея 28 летучих мышей, а змей 20. На сколько больше летучих мышей, чем змей?

По дороге от Бабы-Яги к Кощею бежали 9 верных её слуг - карликов, а навстречу им 4 карлика. Сколько карликов бежали к Кощею?



ВЫЧИСЛИ (ЗАПИСЫВАЙ СТОЛБИКОМ)



$$96-25$$

$$46+23$$

$$89-85$$



$$72-28$$

$$54+37$$

$$70-36$$



$$*2+4*=58$$

$$68-*3=4*$$

$$6*+*6=100$$





Настроение



Интересно

Занимательно

Скучно

Грустно

Печально

Радостно



Спасибо за работу!

