

**Муниципальное общеобразовательное учреждение**

**«Школа № 20» г. Пласта**

# **Урок математики**

**1 класс**


**Тема урока :**

**«Прибавить и вычесть число 3»**

**Назарова Елена Владимировна**

**учитель начальных классов**

1 1 1



3

1


2



3

2

1



3



# Станция «Числовая»



Назови числа в порядке возрастания.

--	--	--	--	--	--

7

5

10

4

2

8

Назови числа в порядке возрастания.

2					
---	--	--	--	--	--

7      5      10      4      2      8

Назови числа в порядке возрастания.

2	4				
---	---	--	--	--	--

7      5      10      4      2      8

Назови числа в порядке возрастания.

2	4	5			
---	---	---	--	--	--

7      5      10      4      2      8



Назови числа в порядке возрастания.

2	4	5	7		
---	---	---	---	--	--

7 5 10 4 2 8

Назови числа в порядке возрастания.

2	4	5	7	8	
---	---	---	---	---	--

7 5 10 4 2 8


Назови числа в порядке возрастания.

2	4	5	7	8	10
---	---	---	---	---	----

7 5 10 4 2 8



# Станция «Задачкино»





**Семь ребят катались с горки.**

**Ушли Маша и Егорка.**

**А потом ушёл Андрей.**

**Сколько на горке осталось детей?**

**Ну-ка, сколько всех ребят  
На горе катается?  
Трое в саночках сидят  
Трое дожидаются?**










# Станция «Фигурная»



# Выбери и вставь нужную фигуру



# Выбери и вставь нужную фигуру






# Станция «Познавательная»

С. 124 № 24, 25, 27





$$8 - 3 =$$



$$5 + 2 =$$



$$9 - 3 =$$




$$3 + 7 =$$






# Станция «Практическая»









# Проверь!

$$6 + 2 = 8$$

$$7 + 3 = 10$$

$$4 + 3 = 7$$

$$5 + 2 = 7$$

$$9 + 0 = 9$$

$$6 - 6 = 0$$

# Станция «Новогодняя»





Спасибо за урок!

