

Қайталау

Мақсаты

- Оқушылардың өткен сабақтар бойынша алған білімдерін пысықтау, білім-білік дағдыларын анықтау.

Тест жауаптары

- 1000 г
- 1000 кг
- 100 см
- 60 мин
- 24 сағ
- 100 жыл
- 10 см
- 18 см
- 2 онд 4 бірл
- 70



- $6+3(3+1)*(6+3)+$
- $(3+7)-2*3+(7-2)$
- $(10-6)+1*10-(6+1)$
 $60+(30+10)*(60+30)+10$
- $(30+70)-20*30+(70-20)$
- $(100-60)+10*100-(60+10)$
- $4 \text{ дм} + 9 \text{ см} * 40 \text{ см} + 9 \text{ см}$
- $87 \text{ см} - 7 \text{ см} * 8 \text{ дм} 7 \text{ см} - 7 \text{ см}$

Теңдеу шешу


- **$x+9=10$**

- **$10-x=1$**

- **$x-1=9$**

- **4-пен 3-тің қосындысынан 2-ні азайту;**
- **40-пен 30-дың қосындысынан 20-ны азайту;**
- **8-ге 7-мен 6-ның айырмасын қосу;**
- **80-ге 70-пен 60-тың айырмасын қосу;**
- **25-пен 20-ның айырмасына 5-ті қосу;**
- **9-ға 36-мен 6-ның айырмасын қосу.**



Сергіту сәті



- Бір ыдыста тұздалған 10 қызанақ бар, ал екінші ыдыста одан 4 қызанақ артық.
- Мәтінді есепке айналдыр және оны шығар.
- Осыған кері есеп құрастыр және шығар.

***Заңдылықты тап және
кестені толтыр.***

3	5	35	53	33	55
4	9				
		75			
2	0				



Не білдік? Не

