

2 - сынып

Қызықты математика

Оңдықтар	Бірліктер	Санның оқылуы	Санның жазылуы
2	4	Жиырма төрт	24
3	9	Отыз тоғыз	39
7	2	Жетпіс екі	72
4	0	Қырық	40

Бірдей жауапты тап:



$4+5$

$9-8$



$0+8$

$7+0$



$6-6$

$5+4$





$8-7$

$4-4$

$3+4$

$10-2$

Ханның қоржынында 10 ділдә,
ал Алладинде одан 3 ділдә кем.
Алладинде неше ділдә бар?



(Кері есеп құрастыр)

Тест

1. Екі ондық жеті бірліктен тұратын санды тап

А. 38

Ә. 51

Б. 27

2. Ең үлкен санды тап

А. 11

Ә. 47

Б. 20

3. Ондығы бірлігінен екі санға кем болатын санды тап

А. 47

Ә. 46

Б. 85

4. Мәні онға тең болатын қосындыларды тап

А. $8+1$

Ә. $7+2$

Б. $4+6$

5. Самат 7 дәптер, ал Дулат одан 3 дәптер артық сатып алды. Дулат неше дәптер сатып алды?

А. 10 дәптер

Ә. 4 дәптер

Б. 8 дәптер

Есіңе сақта!



$$1 \text{ кг} = 1000 \text{ г}$$

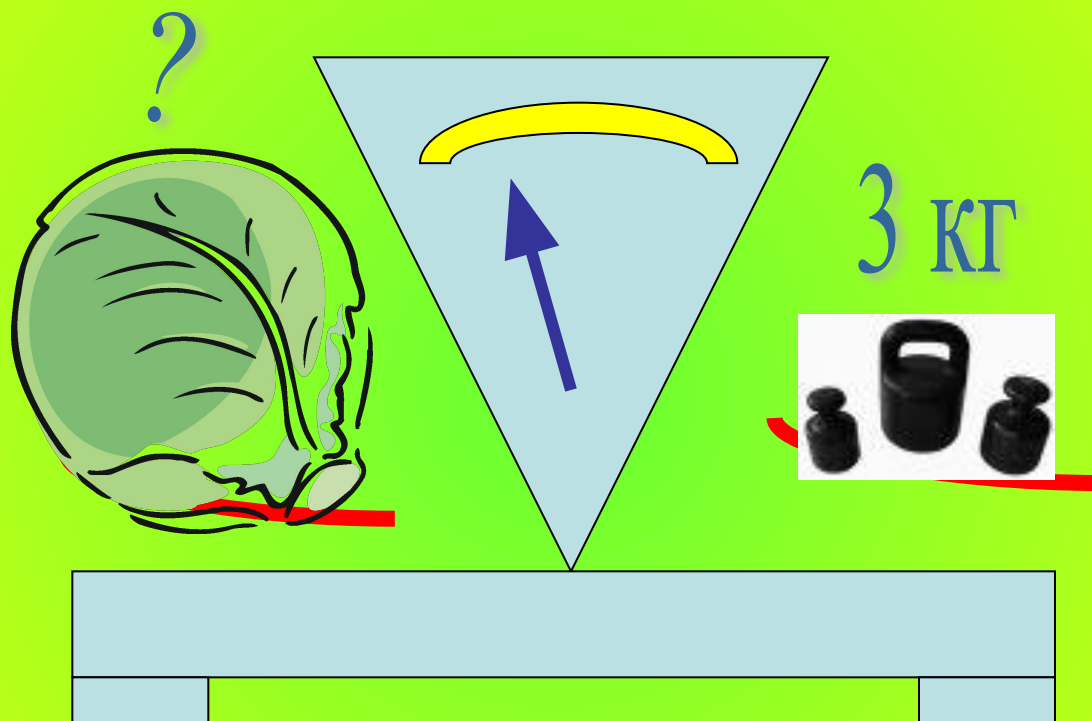
$$1 \text{ ц} = 100 \text{ кг}$$

$$1 \text{ т} = 10 \text{ ц}$$

$$1 \text{ т} = 1000 \text{ кг}$$




Есеп құрастыр және шығар:




Салыстыр:

5 кг



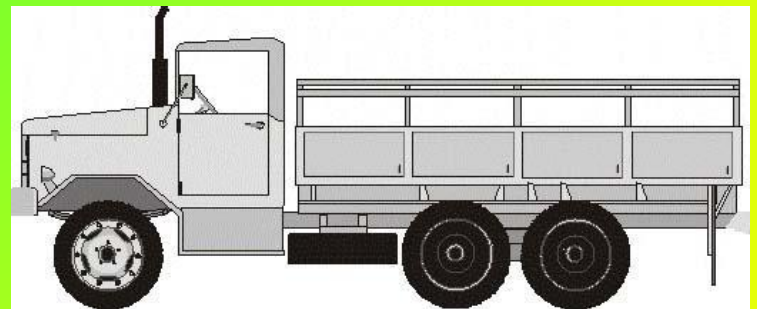
3 кг



4 т



7 т



Килограммен өрнектеп жаз:

 1 т = ? кг

 7 ц = ? кг

Есіңе сақта!

$$1 \text{ км} = 1000 \text{ м}$$

$$1 \text{ м} = 10 \text{ дм}$$


$$1 \text{ дм} = 10 \text{ см}$$

$$1 \text{ м} = 100 \text{ см}$$

$$1 \text{ см} = 10 \text{ мм}$$




Суреттердегі сызықтарды ата



Бір қабырғасы 5 см болатын
шаршының периметрін тап.

$$P = a + a + a + a$$




Ұзындығы 4 см, ені 2 см
болатын тік төртбұрыштың
периметрін тап.



$$P = a + b + a + b$$




Бір қабырғасы 3 см, екінші
қабырғасы 2 см, ал үшінші
қабырғасы 4 см болатын
үшбұрыштың периметрін тап.



$$P = a + b + c$$

Көне заманғы ұзындық өлшем бірліктері:



Бір сүйем - бармақ
пен сұқ саусақтың керген
аралығы 21 -22см





1 құлаш - жай созған
екі қол басының
арасы 1,50 - 1,55 м





Төрт елі - қатар төрт
саусақтың еніне
тең 8 см



TEOT

1. 3 дм неше см бар ?

10 см

13 см



30 см

2. Көп нүктенің орнына тиісті
белгіні қой *16 см ... 6 дм*

>

<

=

3. Бос төр көздің ішіне тең болатындай санды қой

$$7 \text{ дм } 4 \text{ см} = \quad \text{см}$$

47

14

74

4. СЫНЫҚ СЫЗЫҚТЫҢ ҰЗЫНДЫҒЫН
5 см, 2 см и 6 см тап ?

11 см

13 см


7 см

5. Бірінші кесінді 8 см, ал екінші 12 см. Бірінші кесінді екінші кесіндіге қарағанда неше см қысқа?



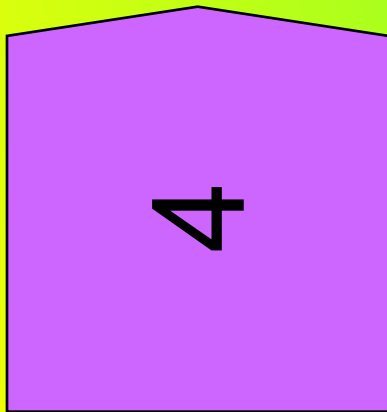
4 см -ге

3 см-ге



20 см-ге






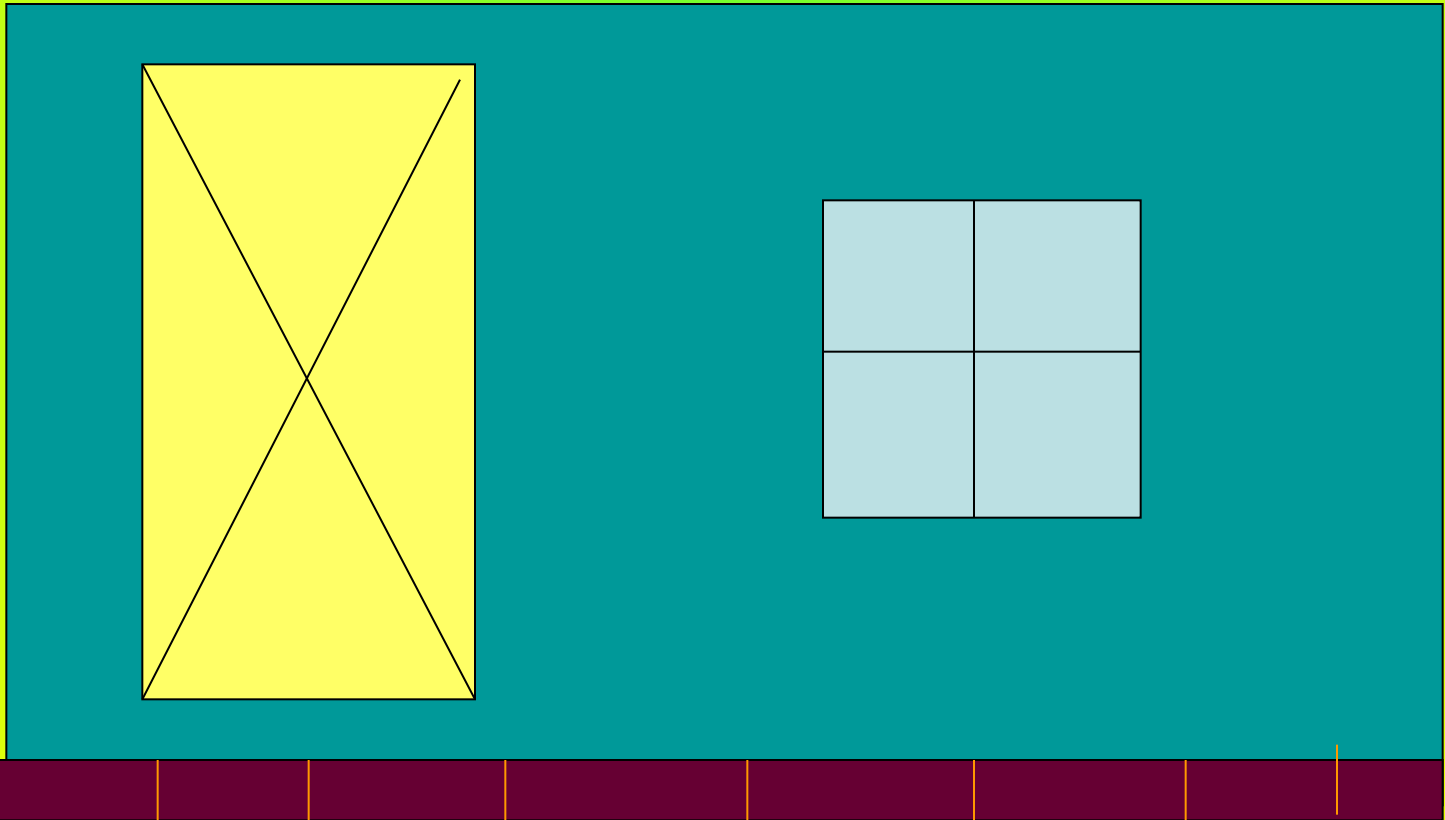
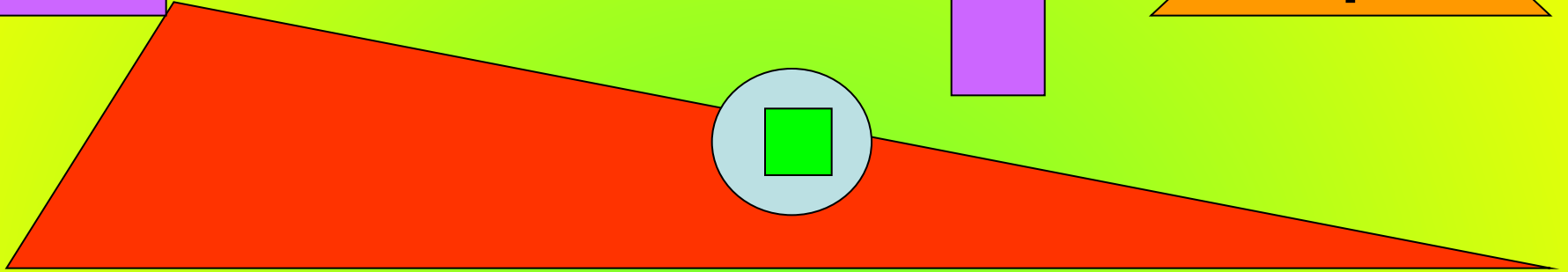
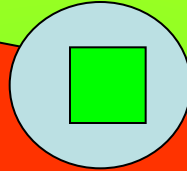



Фигураларды ата, дәлелде:



Ойлан, тап!








Teet

6. Берілген фигураларды бір сөзбен қалай атауға болады ?

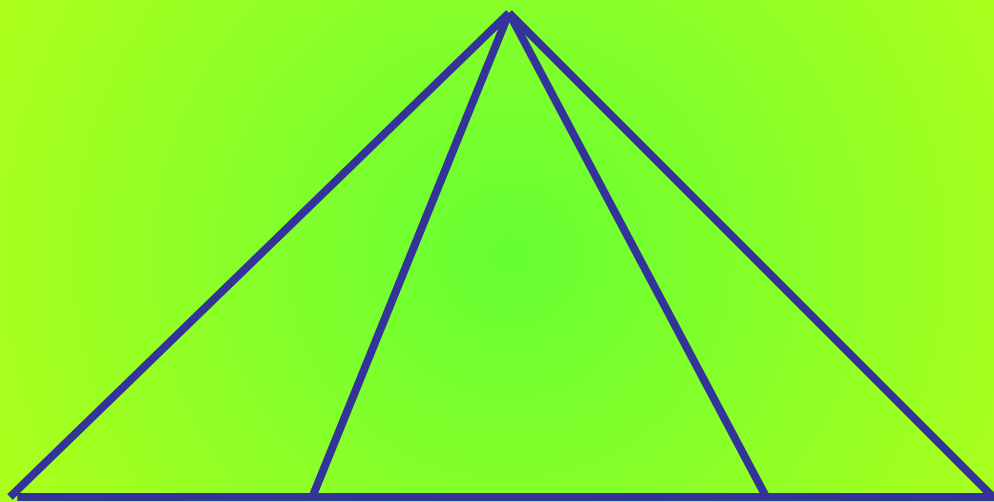
Төртбұрыш

Бесбұрыш

Көпбұрыш



15. Суретте неше үшбұрыш бар?




3

6

4

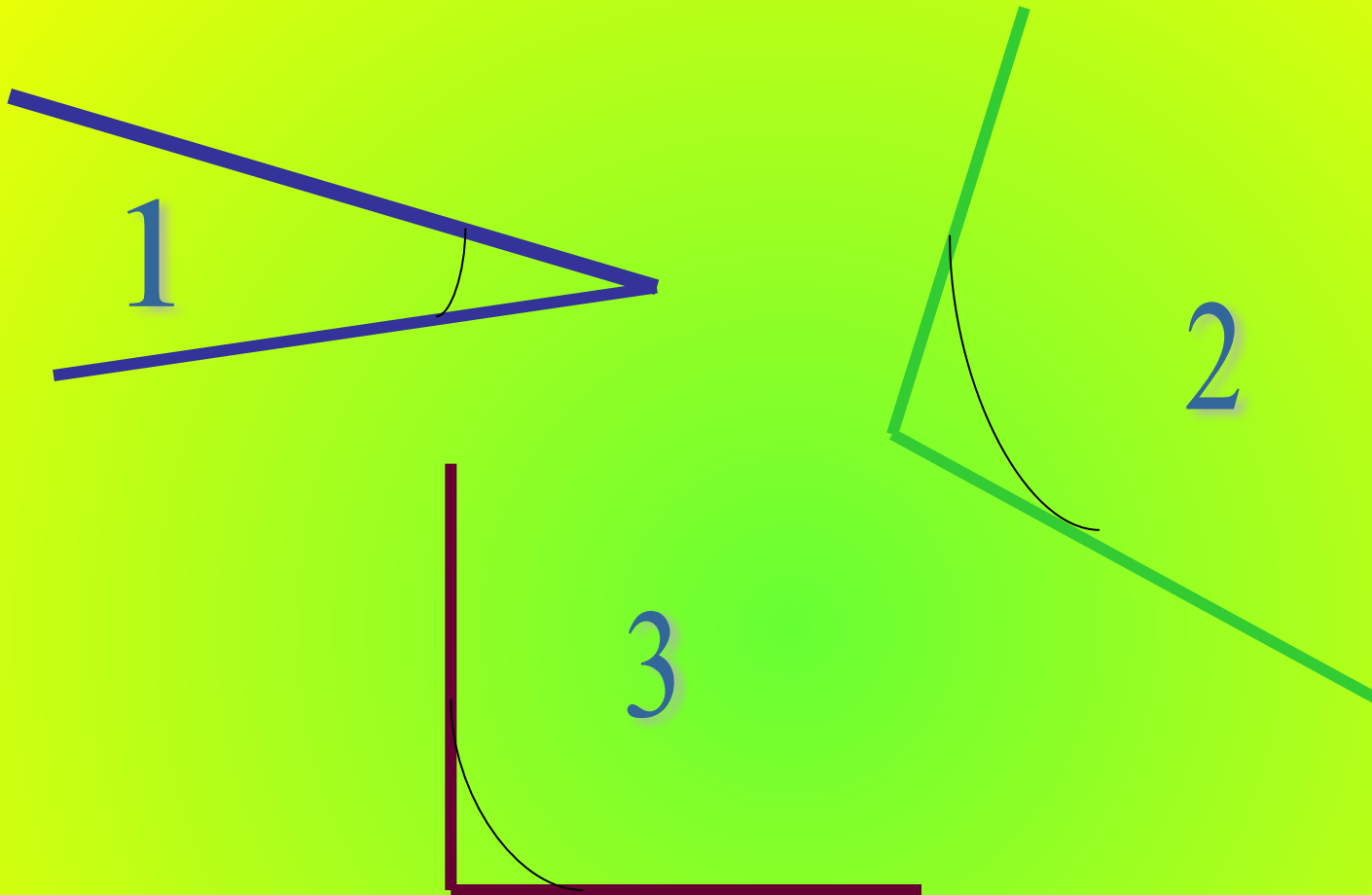
16. Неше кесінді бар?



6 кесінді


4 кесінді

2 кесінді








1- сүйір, 2 – доғал, 3- тік

Барлығы неше бұрыш бар?



Әр фигураның бұрыштарын ата:












ОНД. + 1












ОНД. + 1

**“Әйнекшелердің” орнындағы
сандарды тауып, жаз:**

 $60 + 0 = \boxed{}$ 

 $\boxed{} - 0 = \boxed{}$ 

$60 - \boxed{} = \boxed{}$ 

$0 + 60 = \boxed{}$ 

**“Әйнекшелердің” орнындағы
сандарды тауып, жаз:**





$$40 + 4 = \boxed{}$$




$$\boxed{} - 4 = \boxed{}$$




$$44 - \boxed{} = \boxed{}$$







$$4 + 40 = \boxed{}$$

**“Әйнекшелердің” орнындағы
сандарды тауып, жаз:**

 $60 + 0 = \square$ 

 $\square - 0 = \square$ 

 $60 - \square = \square$ 


$0 + 60 = \square$ 

Салыстыр:



2 онд. 3 бірл. ★ 2 онд.8 бірл.
5 онд. 5 бірл ★ 6 онд. 5 бірл.
76 ★ 70 + 9




2 дм 3 см ★ 2 дм 8 см
5 дм 5 см ★ 6 дм 5 см
76 см ★ 70 см + 9 см



—










—



?







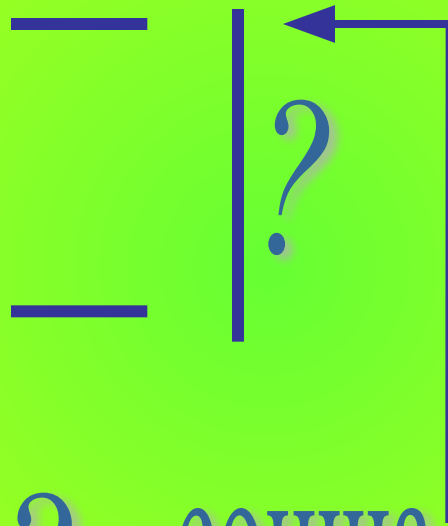



Болғаны —

—



Қалды — ?





? сонша





?

>





Есте сақта!



1 мин = 60 с

1 сағ = 60 мин

1 тәулік = 24 сағ

1 апта = 7 тәулік

1 жыл = 12 ай

1 жыл = 365 не 366 тәулік

1 мүшел = 12 жыл

1 ғасыр = 100 жыл



1 тәул
5 сағ

2 апта
6 күн

1 мин
30 сек

110
жыл

1
ғасыр
10
жыл

Жұптар
ын
тап

90
мин

90 сек

20 күн

1 сағ
30
мин

29 сағ



3 ғасыр


200 жыл





**Инкубациялық
уақыты 60 күннен
110 күне дейін
созылады. Неше ай
болады?**





1 сек – 10 м жүгірсе

3 сек неше метрге дейін жүгіреді?




Ұшақ 7 сағ 35 минутта ұшып кетіп, 10 сағ 20 минуттан кейін ұшып келді. Ұшақ сағат нешеде ұшып келді?





Спектакль кешкі
10 сағ 50 минутте
бітті. Егер ол 3 сағ 20 минут
болса, сағат нешеде басталды?.

A detailed illustration of a pink rose with several green leaves and a stem, positioned at the bottom left of the text area.

Теннис бойынша жарыс 4 сағ 10 минутте бітті.

Егер оның ұзақтығы

5 сағ 40 минутке созылса, нешеде басталған?



Разрядтар жэне кластар

Разряд	IX	VIII	VII	VI	V	IV	III	II	I
К Л А С С	III			II			I		
	миллиондар			мыңдықтар			бірліктер		

Оқы және жаз!

жүзд. 0 онд 1 бірл

1 жүзд онд 8 бірл

3 жүзд 4 онд бірл

6 жүзд онд бірл



Көршісін тап!

800

199

548

407

100

789



Отбасында 10 бала бар.
Ең үлкен бала 20 жаста,
ал әр келесі баланың жасы 2жасқа
кіші. Ең кіші бала
неше жаста?



Дүкен алдында Қайрат қағазға 3 үшбұрыш пен
2 төртбұрыш салды. Ол неше кесінді жүргізді?



Бір айда Самал Айжанға
қарағанда 3 кітап артық
оқыды, ал Мадинаға
қарағанда екі кітап кем
оқыды. Әр қайсысы неше
кітап оқыды?



Әкесі мен баласының
жастарын бірге санағанда 40
жас болады. Үш жылдан
кейін екеуінің жастарын бірге
санағанда неше жас
болады?





Айдос үйдің 6-қабатында тұрады, ал Жандос осы подъяездің 3-қабатында тұрады. Егер Айдосқа дейін 60 баспалдақ болса, Жандосқа дейін неше баспалдақ бар?





4 түзу сызықтармен бір нүктеден жүргізу арқылы қағазды неше бөлікке бөлуге болады?

Геологтар әрқайсысының массалары 1кг, 2кг, 3кг, 4кг, 5кг және 6кг болатын алты тас тауып алды.

Тастарды үш қапшыққа салды, оларды әрқайсысындағы тастардың массасы бірдей болатындай етіп, қалай бөліп салуға болады?



Қанаттың сөмкесі саматтың
сөмкесіне сияды, ал
Саматтың сөмкесі Ерланның
сөмкесіне сияды. Кімнің
сөмкесі үлкен, кімнің сөмкесі
кішкентай?



Жерде Қытай Үндіге
қарағанда көп орын алады,
ал Ресейге қарағанда аз
орын алады.Ең үлкен
мемлекет қайсы?



Жұмыртқаны домалақтай
пісіру үшін 5 минут керек.

1 қапшық жұмыртқаны пісіру
үшін неше минут керек?





Қытайда Үндіге қарағанда адам көп тұрады, ал Үндіде Ресейге қарағанда адам көп тұрады. Қай елде адам көп тұрады?



Анасы балаларына
1 алмадан берді. Әнелдің
алмасы Анардікінен ауыр, ал
Анардікі Айгүлдікінен жеңіл.
Кімнің алмасы үлкен, кімдікі
кішкентай?

