

Муниципальное бюджетное общеобразовательное учреждение  
средняя общеобразовательная школа с. Селихово

Тема: «Задача. Условие и требование»

1 класс

Предмет: Математика

«Перспективная начальная школа»

Составитель: Расева Светлана Ивановна,  
учитель начальных классов




2013-2014 учебный год

**«Повторять да  
учить – ум точить»**





# обери лимоны



$$4+2=6$$

$$3+5=8$$

$$6-4=2$$

$$7-2=5$$

**Числа  
от 0 до 10**

**Знаки  
+ - < >**

**Состав  
числа**

**Знаем  
Умеем**

**Выполнять  
математические  
действия**

**?  
Решать  
ЗАДАЧИ**



**1. На болоте играли 3 лягушонка.  
К ним прискакали ещё 2 лягушонка.**

**2. На болоте играли 3 лягушонка.  
К ним прискакали ещё 2 лягушонка.  
Сколько всего лягушат стало на болоте?**



**На болоте играли 3 лягушонка.**

**К ним прискакали ещё 2  
лягушонка.**

**Сколько всего лягушат стало  
на болоте?**



Сравни два текста.

Какой из них является задачей?

1. В прятки играли 6 детей. Из них 4 мальчика и 2 девочки.

2. В прятки играли 4 мальчика и 2 девочки. Сколько детей играли в прятки?

**К данным УСЛОВИЯМ придумай  
ТРЕБОВАНИЯ, чтобы получились задачи**

- На одном берегу реки было 7 домов, а на другом – 6 домов.
- 2. В классе было 10 учеников, а потом пришли ещё 5 учеников.

3. В одной вазе лежало 6 яблок, а в другой – 2, а в третьей - 4.

4. Зерно вывозили 9 машин, а потом 1 машина сломалась.

**К данным ТРЕБОВАНИЯМ придумай УСЛОВИЯ, чтобы получились задачи**

- 1. Сколько всего коров было в стаде?**
- 2. Сколько ромашек осталось в вазе для цветов?**

**У Нюши было 4 цветка.  
Бараш подарил ей ещё 3 цветочка.  
Сколько цветов стало у Нюши?**









- **Я узнал ...**
- **Мне понравилось...**
- **Было трудно...**

# Ресурсы:

- Интернет
- Автор слайда «Собери лимоны» Белова Л. С., учитель начальных классов МБОУ ООШ № 7 г. Белово Кемеровской области.