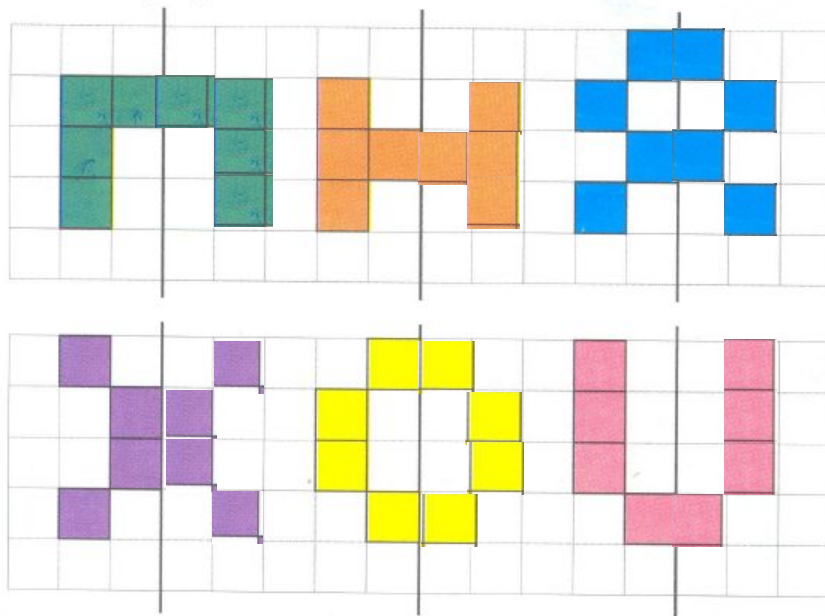


1  – квадрат-мерка (квадратный сантиметр).

Игра «Зеркало». Дорисуй фигуры и сосчитай, сколько квадратов-мерок в каждой из них. Что общего во всех этих фигурах?



2 Допиши равенства. Что ты замечаешь?

$$\begin{array}{|c|c|c|} \hline \text{●} & \text{●} & \text{●} \\ \hline \end{array} + \begin{array}{|c|} \hline \square \\ \hline \end{array} = \begin{array}{|c|c|c|c|} \hline \text{●} & \text{●} & \text{●} & \square \\ \hline \end{array}$$

$$3 + 1 = \boxed{4}$$

$$\begin{array}{|c|c|c|c|} \hline \text{●} & \text{●} & \text{●} & \square \\ \hline \end{array} - \begin{array}{|c|c|c|} \hline \text{●} & \text{●} & \text{●} \\ \hline \end{array} = \begin{array}{|c|} \hline \square \\ \hline \end{array}$$

$$4 - 3 = \boxed{1}$$

$$\begin{array}{|c|c|c|c|} \hline \text{●} & \text{●} & \text{●} & \square \\ \hline \end{array} - \begin{array}{|c|} \hline \square \\ \hline \end{array} = \begin{array}{|c|c|c|} \hline \text{●} & \text{●} & \text{●} \\ \hline \end{array}$$

$$4 - 1 = \boxed{3}$$

Занятие 24. ИЗМЕРЕНИЕ ПЛОЩАДИ

47

- 3 Вставь пропущенные числа. Раскрась одинаковые полоски одним цветом.

1	2	3	4	5	6	7	8	9
---	---	---	---	---	---	---	---	---

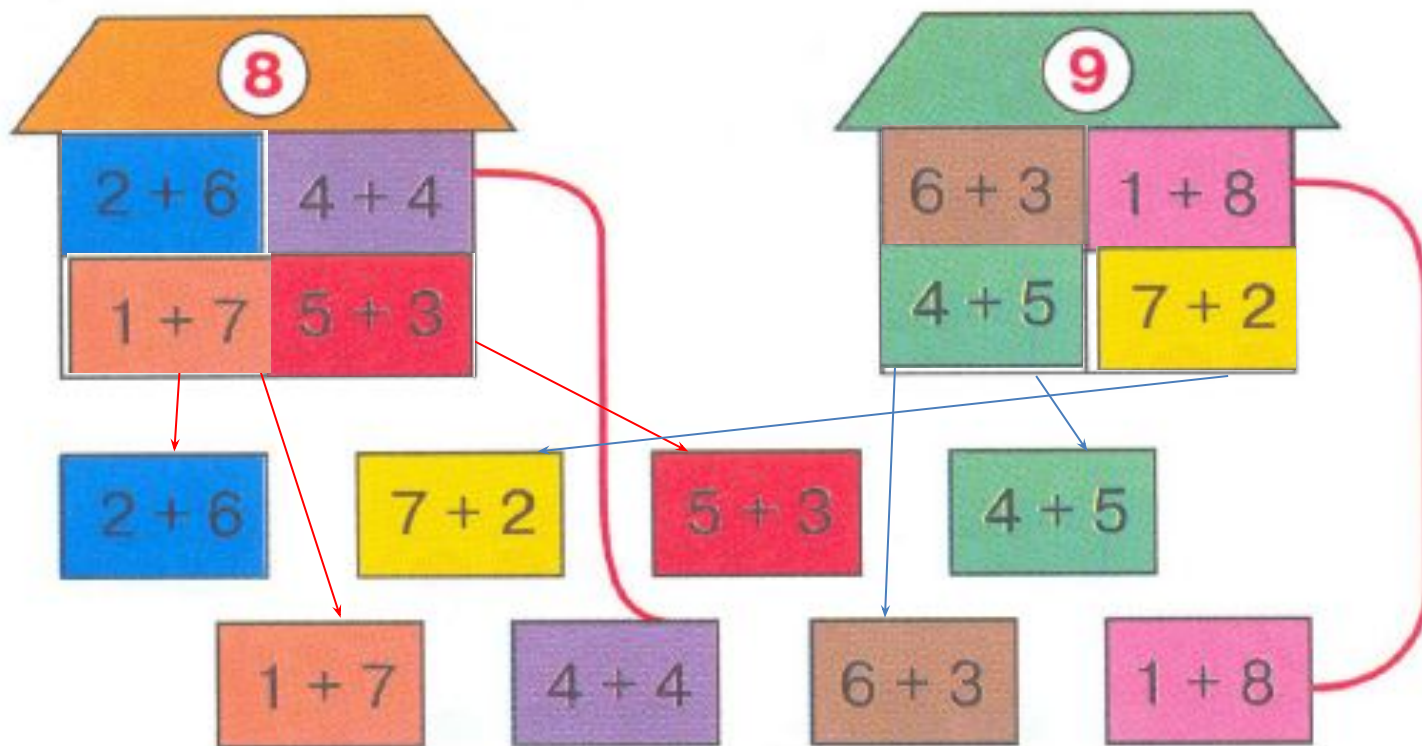
9	8	7	6	5	4	3	2	1
---	---	---	---	---	---	---	---	---

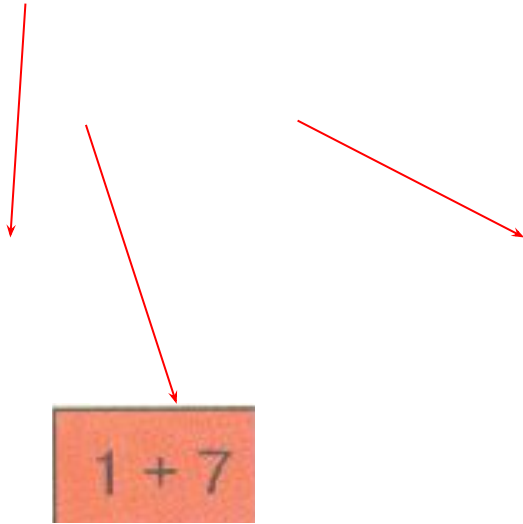
1	2	3	4	5	6	7	8	9
---	---	---	---	---	---	---	---	---

9	8	7	6	5	4	3	2	1
---	---	---	---	---	---	---	---	---



- 4*** Игра «Строим домики».
Построй домики по образцу.





$1 + 7$

