


Тема: «Закрепление пройденного материала».

Цели урока:

1. Совершенствовать устные и письменные вычислительные навыки.
2. Развивать умение работать самостоятельно.
3. Воспитывать культуру поведения в общественных местах, любовь к животным.

1.



2.



3.



4.



5.



6.



7.



8.



9.



10.



11.



12.



Идём в зоопарк

$(3700 + 300) : 100$



№40

$$X + 320 = 80 \cdot 7$$

$$X - 180 = 240 : 3$$

$$400 - x = 275 + 25$$



$$X + 320 = 80 \cdot 7$$

$$X + 320 = 560$$

$$X = 560 - 320$$

$$X = 240$$

$$240 + 320 = 80 \cdot 7$$

$$560 = 560$$



$$X - 180 = 240 : 3$$

$$X - 180 = 80$$

$$X = 180 + 80$$

$$X = 260$$

$$260 - 180 = 240 : 3$$

$$80 = 80$$



$$400 - x = 275 + 25$$


$$400 - x = 300$$

$$x = 400 - 300$$

$$x = 100$$

$$400 - 100 = 275 + 25$$


$$300 = 300$$



$$(460+380+20):10$$



№ 86



312 · 1





№312

380

170

265

276

192

130

148

290

367

Лось - 580

Гепард - 800

Заяц - 735



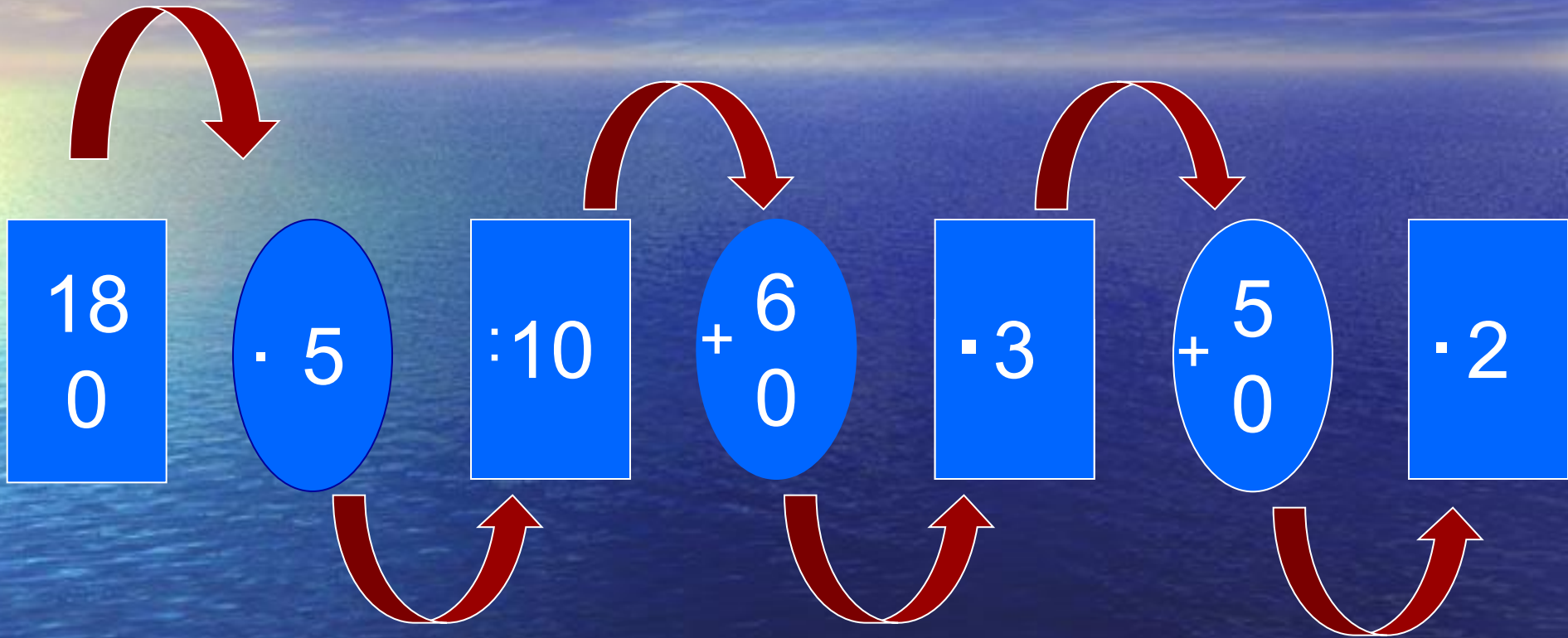
№312

64+29+61+36



№190

В зоопарке я бывал,
обезьянок там считал:
125 играют на песке,
100 уселись на доске,
А 4 спинки греют.
Сколько всех их ?...



Орангутанг - 800

Горилла - 1000

Игрунка - 1250







Зч 15мин - 45мин



№150

Задачки- «лакомки»

1. На кустике земляники висят 10 ягод. Сколько ягод висит на 2000 кустиках?

2. У Мишки были орехи.
Когда он съел 2500
орехов, у него осталось
1300. Сколько орехов
было у Мишки?

3. Первый раз с ульев собрали 400 кг меда, а во второй - в 60 раз больше. Сколько килограммов меда собрали во второй раз?

$$1 \text{ см}^2 = \square \text{ мм}^2$$

$$1 \text{ дм}^2 = \square \text{ см}^2$$

$$1 \text{ м}^2 = \square \text{ дм}^2$$

$$1 \text{ а} = \square \text{ м}^2$$

$$1 \text{ га} = \square \text{ а}$$

$$1 \text{ км}^2 = \square \text{ га}$$



№100

1. Фермер собрал 740 ц моркови, а свёклы – на 380 ц больше. Сколько центнеров свёклы он собрал?

2. Ребята посадили около зоопарка 70 кустов сирени, а шиповника в 2 раза больше. Сколько всего кустов посадили ребята?

$$85 \cdot 7 + 5$$



№600

ГОЛОВОЛОМКА:

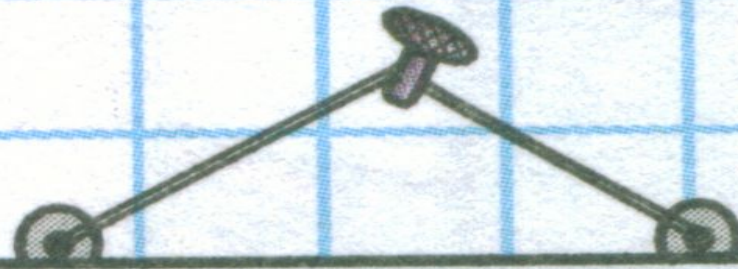
$$\triangle ? \square ? \bigcirc ?$$

$$\triangle - \square = \bigcirc$$

$$\square + 18 = 29$$

$$\square - \bigcirc = 2$$

РЕБУС:



* * * + 1 = * * * *

ЭКОЛОГИЯ

*Давайте будем
К тому стремиться,
Чтоб нас любили
И зверь, и птица.*

***И доверяли
Повсюду нам,
Как самым верным
Своим друзьям!***

*Давайте будем
Беречь планету
Во всей Вселенной
Похожей нету:*

*Во всей Вселенной
Совсем одна,
Что будет делать
Без нас она?..*

И.

Мазнин