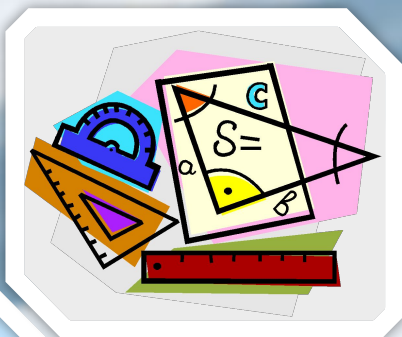



Проект по математике:

“КВАДРАТЫ И
ТРЕУГОЛЬНИКИ В
СТРАНЕ
ГЕОМЕТРИИ”



Г е о м е т р и я

Жили - были

квадраты и треугольники.

Они жили в одной большой стране **Геометрии**.

И они все ссорились.

Тогда им пришлось разделить страну на 2 части.

Квадраты жили в левой
стороне страны,

Среди квадратов жил
маленький квадратик Глюк.






а треугольники - в правой.

Глюк дружил с маленьким

треугольником Гео.

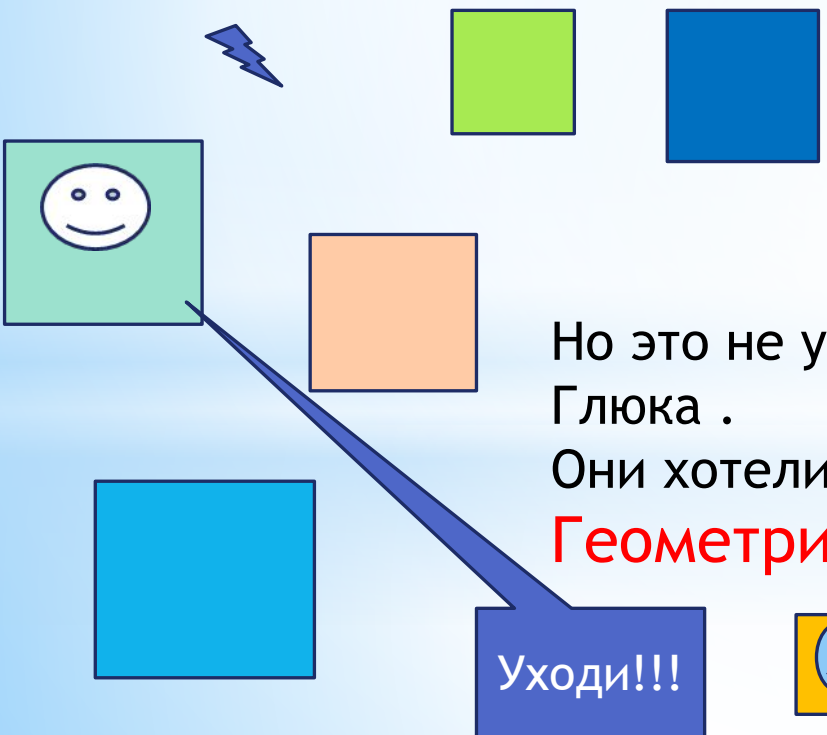


Они часто ходили друг другу в гости.


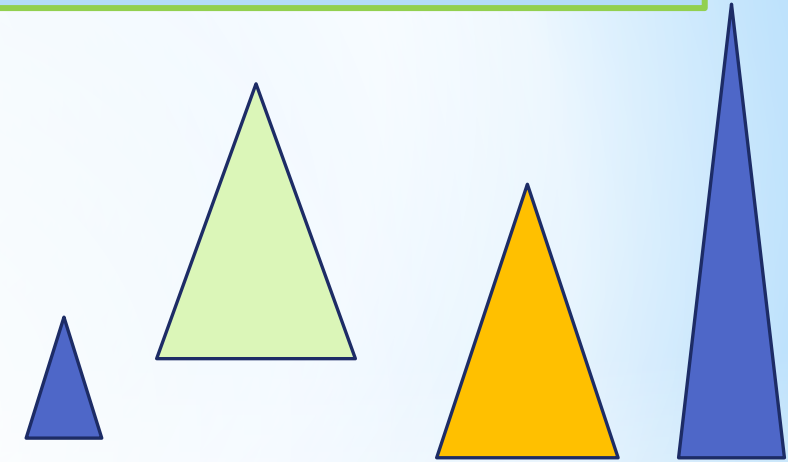


Квадрат Глюк любил свою страну и страну треугольников. ВЗРОСЛЫЕ говорили Глюку : “У треугольников плохая страна - уходи из неё!”

А треугольники говорили треугольнику Гео : “У них даже нет заводов, они бедняки. Не ходи к ним!”



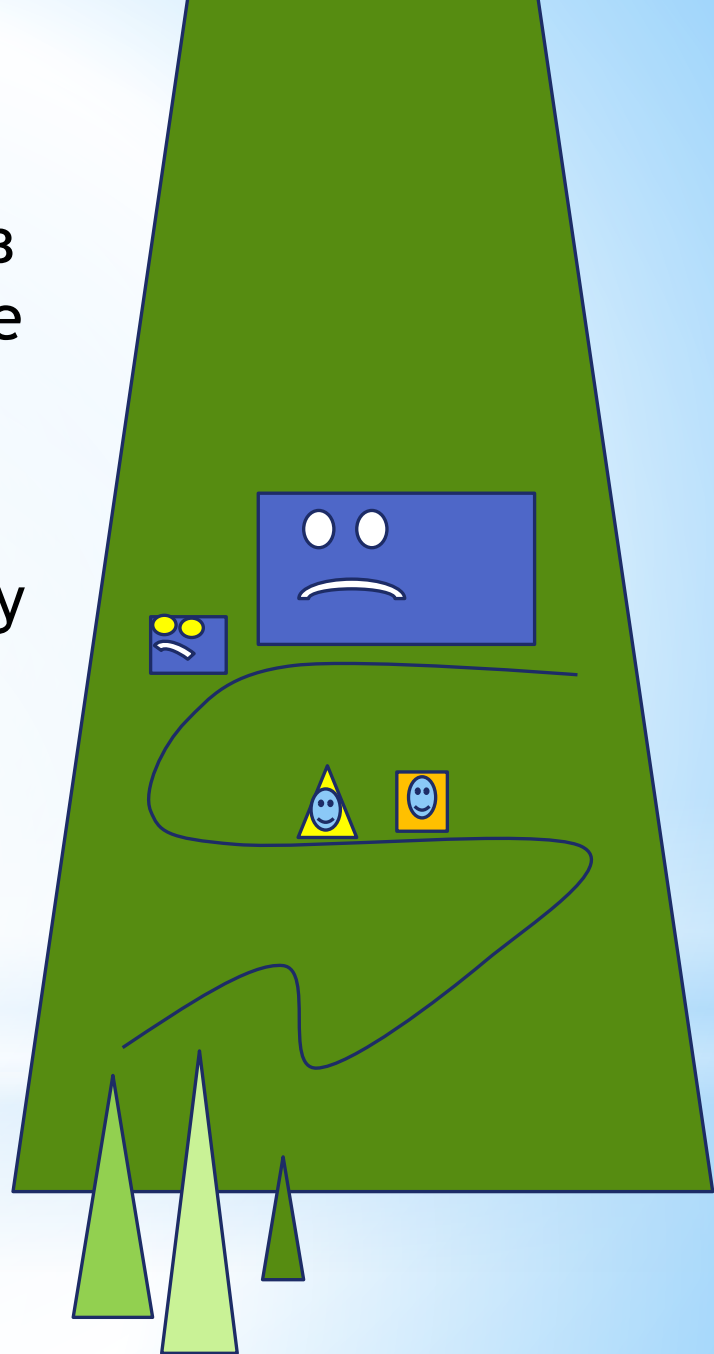
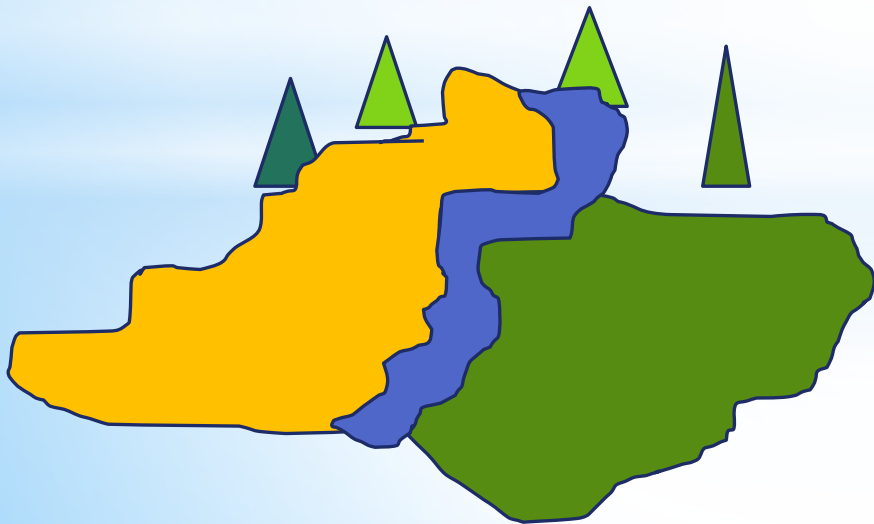
Но это не у страивало Гео и Глюка . Они хотели, чтобы в их стране **Геометрии** всегда был мир!!!



Не ходи к ним!!!


Тогда они отправились на высокую гору к **Прямоугольнику**, которого выгнали из страны квадратов, т.к. его стороны не были равны.

Долго ли коротко ли шли они по песку вдоль реки, через лес, и еле-еле дошли до высокой зеленой горы, где жил Прямоугольник.



-Здравствуйте, Великий
Прямоугольник!

Мы хотим квадраты и
треугольники помирить, но у нас
не получается. Помогите нам,
пожалуйста!



-Я готов помочь вам! - сказал Прямоугольник , -а вы
помогите, пожалуйста, мне.




Моего сына хочет заколдовать злой Мистер X-
продолжал говорить Прямоугольник,- и если я не отгадаю
задачи, которые он мне оставил, то он моего сына
превратит в маленькую неуклюжую точку .

Если вы всё отгадаете правильно, то я вам дам волшебное
зелье, которое спасёт страну Геометрию.

Пожалуйста, помогите выполнить **5 заданий**. И мой сын будет спасен!

- Давайте задания, мы постараемся!-ответили отважные друзья!



Задания:



В каждом из 4 углов комнаты сидит кошка. Напротив каждой из этих кошек сидят три кошки. Сколько всего в этой комнате кошек?

2

Столько книжек у ребяток,
Сколько у Никиты пяток.
Принесла ребяткам Галя
Мячик, книжку, мишек.
Вы, ребята, посчитали,
Сколько стало книжек?




3

К трем лягушкам у болота
Прибежали два енота,
Прискакала тетя жаба
И пришла наседка Ряба.
Сколько в камышах болотных
Оказалось земноводных?



4

Сестре 4 года, брату 6 лет.
Сколько лет будет брату,
когда сестре исполнится
6 лет?



5

$$66+54-20:4= ?$$

ОТВЕТЫ:

1. Ответ: 4

2. Ответ: 3

3. Ответ: четверо

4. Ответ: 8 лет


5. Ответ: 115



-Вы выполнили задания? Молодцы!

Мой сын спасён!

Он останется прямоугольником!
Теперь я помогу вам!



Возьмите это зелье и вылейте его под старый вековой дуб, который растёт у реки! Это зелье могут открыть и вылить только руки смелых и добрых детей!



Я думаю, что вы такие дети!

Когда дуб напьётся этой жидкости, то будет издавать великолепный аромат. Вдыхая этот аромат, все станут жить мирно и счастливо!



-Огромное спасибо!- сказали ребята и отправились к старому дубу.

Они
вылили
зелье под старый дуб и стали ждать, что произойдет
дальше.



Через некоторое время всё случилось так, как
сказал прямоугольник!

Теперь в геометрии все живут мирно и счастливо!!!!



Квадраты и треугольники стали лучшими друзьями.
А прямоугольник со своим сыном вернулся в свой
родной дом и был очень благодарен маленьким
друзьям треугольнику Гео и Квадратику Глюку.

