


3 класс



Мир - животные



В мире животных



# Найди ошибки:



1.  $400\text{ мм} = 4\text{ см}$
2.  $3\text{ км} = 300\text{ м}$
3.  $3\text{ дм}6\text{ см} = 360\text{ см}$
4.  $9000\text{ см} = 9\text{ м}$
5.  $2\text{ м}3\text{ см} = 23\text{ см}$
6.  $4\text{ кг} = 4000\text{ м}$

**Единицы длины**



54

Священный  
ибис

Найди периметр треугольника,  
если одна сторона 25см,  
вторая в 5 раз меньше,  
а третья сторона на 7см больше,  
чем вторая.

**Какую птицу называют  
птицей – легендой?**



45

Венценосный  
журавль



42

Белый и черный  
аисты



# Выполните действия и вы узнаете чья длина тела больше



1



2



3



4



5



6



7




8



Лошадь пробежала 6000м, а гепард за это время 8 км. На сколько м гепард пробежал дальше?



На  
2000м



# Какой кошке поклонялись древние индейцы?



**Ягуа  
р**

499



**Рысь**

501



**Гепар  
д**

432

350

+70

420

-90

330

+170

500

-1

499





# Восстанови картинку

3см	7дм	1см5мм
4дм	6дм2мм	80см
14см	15дм	1м

1.

2.


3.



602



1500



700



800



400



15




1000



30



140



# Задача

- Попрыгунья Стрекоза 13дней красного лета спала, 26 дней – танцевала, 53дня – пела. Остальное время она решила посвятить подготовке к зиме. Сколько дней Стрекоза готовилась к зиме?



# Физкультминутка

- *В названии какой птицы сорок гласных?*



# Физкультминутка

- *Эту птицу называют «лесным доктором»*



# Физкультминутка

- *Самая большая птица в мире*



**Помогите обезьянам!**





*Решите примеры и вы узнаете, у  
какого насекомого усы длиннее ног*



*У какого насекомого усы  
длиннее ног ?*

**Т А Р А К А Н**








Сегодня на уроке я

- научился...
- повторил...
- узнал...



# Сегодня на уроке я





Самое большое животное!