

МОСКОВСКИЙ
ГОРОДСКОЙ
УНИВЕРСИТЕТ
МГПУ

ИНСТИТУТ СРЕДНЕГО
ПРОФЕССИОНАЛЬНОГО
ОБРАЗОВАНИЯ
ИМ. К. Д. УШИНСКОГО
МГПУ

Колледж «Черёмушки»

Родительское собрание на тему: «ВЫБОР УМК ПО ИНФОРМАТИКЕ»

Подготовила:
Оськина Юлия

Москва, 2018


УМК «Школа 2100»

Горячев А.В., Горина К.И.,

Волкова Т.О.

Информатика в играх и задачах

1 класс



* 20 Раскрась прямоугольник подходящим цветом.




21 Дорисуй ряды. Все маленькие предметы раскрась зелёным цветом, а большие – жёлтым.



22 Зачеркни лишнюю фигуру.



2 класс



2 Выбери и подчини под картинками правильные слова:
стая, рой, стадо, косяк, букет.



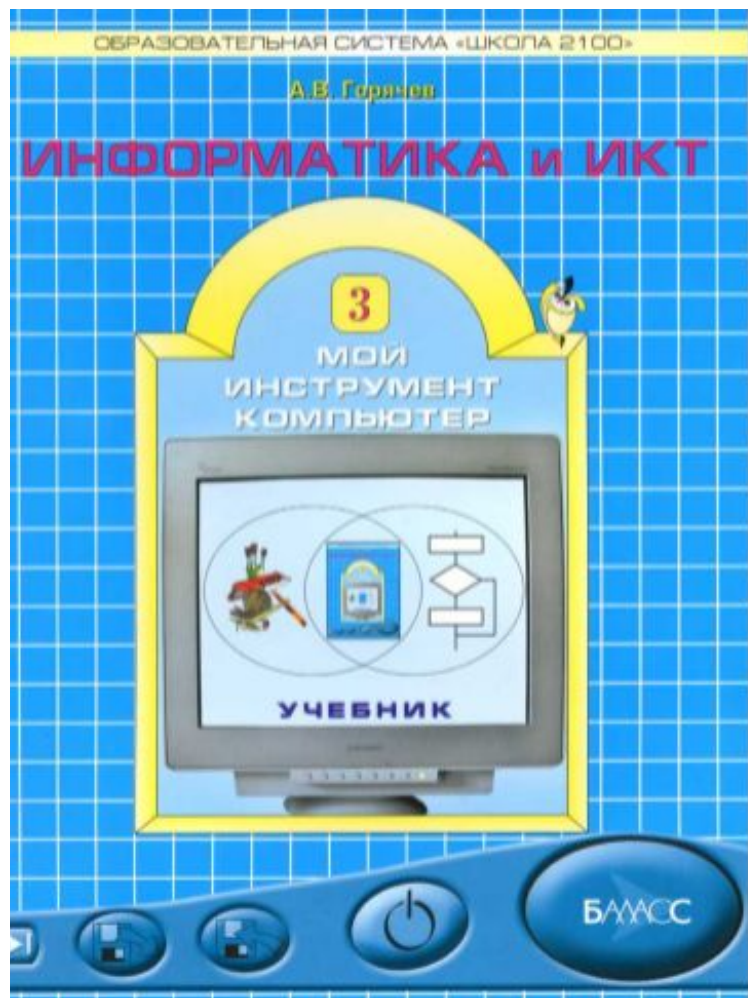
3 В школе есть живой уголок. Кто лишний в клетке?
Вычеркни его. Назови множество оставшихся животных.



4 Незнайка вычеркнул фигуру. Почему он решил,
что она лишняя? Какую фигуру вычеркнешь ты? Почему?



3 класс



3 класс



Янт уже знает, что такое ёлочка. Что ещё ему нужно объяснить?

Пожалуйста, принеси мою чашку!



- Все предметы одной группы имеют не только общее название и общий набор составных частей и действий, но и одинаковый набор признаков
- Отдельные предметы в группе отличаются набором значений признаков



Назови отдельные предметы

Кроссовки					
Состав	Действия	Признаки	Катини	Патини	Мамини
Подшлёп	Надевать	Размер	23	27	25
Шнурки	Снимать	Цвет	голубой	чёрный	розовый
Верх	Завязывать шнурки	Цвет шнурков	серый	серый	белый
Язык	Чистить	Шнурки завязаны?	нет	да	нет

Назови признаки

Значения признаков

1 Для каждого названия признака (слева) выбери его возможные значения (справа).

- Цвет
- Высота
- Материал
- Есть лифт?
- Цена
- Вес
- Время
- 2 метра
- жёлтый
- 2 рубля
- 3 тонны
- да
- дерево
- 2 часа
- нет
- металл
- 3 минуты
- сильный
- 3 колёйки

2 Назови отличительные признаки чашек на стр. 18. Перечисли значения этих признаков для каждой чашки.

3 Определи названия признаков в таблице. Для каждого предмета на рисунке найди в таблице столбец со значениями его признаков (или его столбец в таблице признаков).

Признаки	?	?	?
?	10 литров	10 литров	20 литров
?	серый	жёлтый	серый
?	5 литров	7 литров	5 литров
?	да	нет	нет



4 Дай общее название предметам (существам) на каждом рисунке. Назови их отличительные признаки. Перечисли значения этих признаков для каждого предмета (существа).



4 класс

