

Бастауыш сынып мұғалімі: *Кузенова Зейнегул Смадиновна*

Сынып: *3«Ә»*

Мерзімі: *05.01.2016 ж.*

Пәні: **Математика**


Сабақтың тақырыбы: *“Қосу және азайту”*

Мақсаты:

Үш таңбалы сандарды қосу және азайту тәсілдерін меңгерту, үш таңбалы сандармен жазбаша есептерге қатысты білімдерін бекіту, жылдам, шапшаң ойлап есептей білуге үйрету өз ойын еркін айтуға баулу, пәнге қызығушылығын арттыру

Күтілетін нәтиже:

1. Жеке, жұптық, топтық жұмыс арқылы бірлесіп жұмыс істеу дағдысын қалыптастырады.
3. Өздері білетін мәліметтермен бөлісіп үйренеді.
4. Ой бөлісуге дағдыланады



Психологиялық тренинг







I топ. 2, 3, 4 сандарынан үш таңбалы сандар құра.

II топ. 2, 5, 6 сандарынан үш таңбалы сандар құра.

III топ. 3 жүзд. 8 онд. 7 бірл. қандай сан?

$$243 + 526 =$$

$$769 - 526 =$$

243

526

769

526

Оқулықпен жұмыс.

№1 а)

I топ

$$152+262 =$$

$$262+624 =$$

$$128+721 =$$

II топ.

$$783-251 =$$

$$694-373 =$$

$$373-261 =$$

III топ.

$$579-327 =$$

$$421+338 =$$

$$785-462 =$$

Кім шапшаң? Өзіндік жұмыс

Теңдеулерді шешу

I топ. $X+213=894$

II топ. $X-233=465$

III топ. $985-X=462$



№3

А) Жазушыда 963 парақ ақ қағаз болды. 3 қолжазбаның әрқайсысына ол 80 парақтан, ал 5 қолжазбаның әрқайсысына 60 парақтан жұмсады. Оның өзінде неше парақ қалды?

№3

Ә) Дүкенде 672 теледидар болды. Бірінші күні 40 теледидар, екінші күні бірінші күнге қарағанда 3 есе артық теледидар сатылды. Дүкенде неше теледидар қалды?



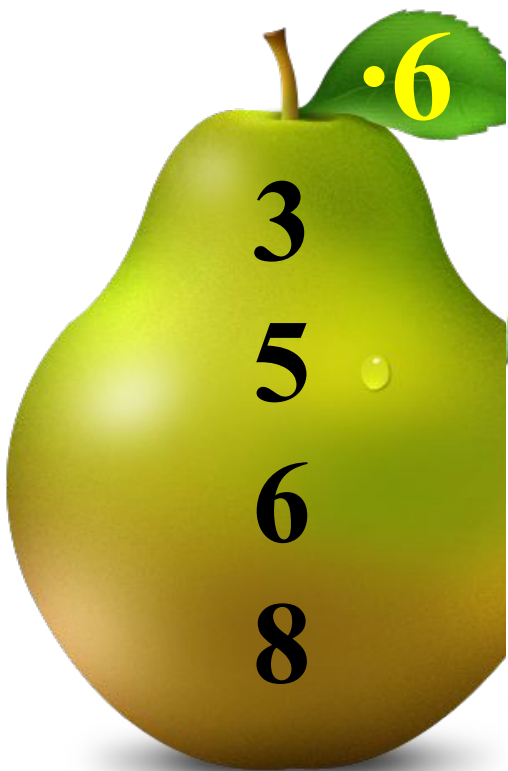


Summer




Ауызша есепте


1-мон



2-мон




3-мон



Шығармашылық тапсырма

1-топ: Есеп құрастыр
2-топ: Теңдеу құрастыр
3-топ: Өрнек құрастыр




1-топ.

Санның бөлігін тап:

**20 санының жартысы
несеге тең? Ширегі ше?
Бестен бір бөлігі ше?**

**Фигураның төрттен бір
бөлігін боя.**



**2-топ. Өрнек құр және
оның мәнін тап.**

**40 және 20 сандарының
қосындысын 3 есе арттыр.**

80 санын 7 есе арттыр.

**3-топ. Теңдеу құр және
оны шеш.**

**Белгісіз санды 8 есе
арттырғанда 720 шықты.
Белгісіз санды тап.**

**Белгісіз санды 5 есе
кеміткенде 70 шықты.
Белгісіз санды
тап.**



Сиқырлы конверт».



Рефлексия



*Қызыл -
түсіндім*

*Сары - толық
түсінбедім*

*Жасыл -
сұрағым бар*



Бағалау






*Қызыл –өте
жақсы
Сары-орташа
Жасыл -жақсы*



Үйге тапсырма

№7 есеп.106-бет



Сабақ аяқталды

