


Дроби

Задачи на движение

3-4 класс, система Занкова Л.В.


Смирнова Л.Н.
МОУ Некоузская СОШ
2015г





Назови дроби





Объясни значение дробей

$$\frac{1}{8}$$

$$\frac{4}{9}$$

$$\frac{2}{8}$$

$$\frac{1}{7}$$

$$\frac{1}{12}$$

$$\frac{3}{8}$$

$$\frac{1}{6}$$

$$\frac{5}{8}$$





**Выпиши дроби с одинаковыми
числителями**

1

8

4

9

2

8

1

7

1

12

3

8

1


6

5

8



5



Проверь

1
8


1
7

1
12

1
6



5



**Сравни пары дробей,
запиши неравенства**

$$\frac{1}{8} < \frac{1}{7}$$

$$\frac{1}{12} < \frac{1}{6}$$

$$\frac{1}{7} > \frac{1}{12}$$

$$\frac{1}{8} < \frac{1}{6}$$



Выпиши дроби с одинаковыми знаменателями

 $\frac{1}{8}$

8

 $\frac{4}{9}$

9

 $\frac{2}{8}$

8

 $\frac{1}{7}$

7

 $\frac{1}{12}$

12

 $\frac{3}{8}$

8

 $\frac{1}{6}$

6

 $\frac{5}{8}$

8



5



Проверь

1

8

2

8

3

8


5

8

Выполни рисунок к каждой дроби.

Что можешь сказать о дробях?



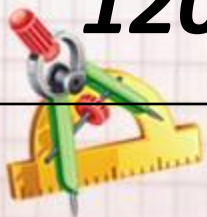



Назови дроби



Заполни таблицу

Скорость	Время	Расстояние
$40 \text{ км} \setminus \text{ч}$	5 ч	$40 \times 5 = 200 (\text{км})$
$36 : 6 =$	6 мин	36 м
$4 \text{ (м} \setminus \text{мин)}$ $60 \text{ км} \setminus \text{ч}$	$540 : 60 = 9 (\text{ч})$	540 км
$120 \text{ км} \setminus \text{ч}$	8 ч	$120 \times 8 =$ $960 (\text{км})$





Интернет-ресурсы:

Автор шаблона презентации : Фокина Лидия Петровна, учитель начальных классов МКОУ «СОШ ст. Евсино» Искитимского района Новосибирской области

Линейка <http://s1.pic4you.ru/allimage/y2012/08-20/12216/2356194.png>

Циркуль с линейкой http://img-fotki.yandex.ru/get/6423/108950446.113/0_cd1e7_4caa1851_S

Цифра 5 http://img-fotki.yandex.ru/get/9511/134091466.ce/0_cb245_e401dbc8_S

Сайт <http://pedsovet.su/>

