

Тема:


**«Сложение однозначных
чисел с переходом через
десяток»**

Математика

1 класс

Бондаренко Надежда
Ивановна
учитель МОУ «ООШ № 8»
г. Сыктывкара

Заполни ведро!



Заполни

ведро!

11

11



Заполни

ведро!

12



12



Заполни

12 ведра!



Заполни

ведро!

13



13



Составить задачи по рисункам и

выражениям.

$$5 - 3$$

$$5 + 3$$


$$3 + 2$$

$$5 - 2$$





Весят
больше,
чем




Что весит больше сахар или
конфеты?



Тяжелее,
чем



Тяжелее,
чем



Что тяжелее груша или персик?



Уплатили дороже, чем



Что
дороже
кофе
или
булка?

Рассмотрите выражение в каждом столбике.

$$\begin{array}{l} 8 + 3 \\ 7 + 4 \\ 6 + 5 \\ \dots \end{array}$$

$$\begin{array}{l} 6 + 6 \\ 7 + 5 \\ 8 + 4 \\ \dots \end{array}$$

$$\begin{array}{l} 7 + 6 \\ 8 + 5 \\ 9 + 4 \\ \dots \end{array}$$

$$\begin{array}{l} 7 + 7 \\ 8 + 6 \\ 9 + 5 \\ \dots \end{array}$$

- Как изменяется первое слагаемое? Второе слагаемое?
- Изменится ли сумма?
- Что общего в примерах каждого столбика?
- Придумайте пример в каждый столбик так, чтобы надо было прибавлять по частям.

Спасибо

за

урок!